

زیست‌شناسی ۳ - پیشروی نرمال

۱- گزینه «۳»

(عباس آرایش)

با توجه به شکل ۱۴ از فصل ۲ دوازدهم و متن کتاب درسی در فصل ۵ دوازدهم، گروهی از پروتئین‌های میتوکندری توسط ریبوزوم آزاد در مادهٔ زمینه سیتوپلاسم و گروهی دیگر توسط ریبوزوم‌های موجود در فضای درونی میتوکندری ساخته می‌شود.

تنها در فضای درونی میتوکندری امکان ایجاد  $CO_2$  از پیرووات وجود دارد. بررسی سایر گزینه‌ها:

گزینه «۱»: در گام ۳ و ۴ گلیکولیز به ترتیب  $NADH$  و  $ATP$  در مادهٔ زمینه سیتوپلاسم و همچنین این مولکول‌ها به همراه  $FADH_2$  در محل‌های متفاوتی از چرخه کربس (در فضای درونی میتوکندری) تولید می‌شوند.

پس این مورد در هر دو محل صورت می‌گیرد.

گزینه «۲»: با توجه به شکل ۵ الف در فصل ۵ دوازدهم، مولکول‌های دنا میتوکندری به غشای درونی اتصال ندارند.

گزینه «۴»: چرخه کربس در فضای درونی میتوکندری صورت می‌گیرد.

دقت کنید که در طی این فرایند چرخه‌ای،  $NADH$  (نه  $NADPH$ ) و  $FADH_2$  و  $ATP$  تولید می‌شود.

(از ماره به انرژی) (زیست‌شناسی ۳، صفحه‌های ۳۳، ۳۲ و ۶۶ تا ۷۱)

۲- گزینه «۲»

(عباس آرایش)

در گام ۳ گلیکولیز، قندهای تک فسفات به اسیدهای دو فسفات تبدیل می‌شود. در گام ۴، چهار مولکول  $ADP$  و دو مولکول اسید دو فسفات مصرف می‌شود.

بررسی سایر گزینه‌ها:

گزینه «۱»: در گام ۱ گلیکولیز، از گلوکز که قندی بدون فسفات است، فروکتوز فسفات ساخته می‌شود.

در گام ۲ گلیکولیز، از یک فروکتوز فسفات، دو قند فسفات ساخته می‌شود.

پس، در گام ۱ و ۲ گلیکولیز به تعداد ترکیبات فسفات‌دار یاخته افزوده می‌شود.

گزینه «۳»: در گام ۳ بین فسفات آزاد و کربن نوعی ترکیب کربن‌دار، پیوند ایجاد می‌شود.

دقت کنید که در گام ۲، پیوند بین کربن‌های میانی فروکتوز فسفات شکسته می‌شود و هیچ پیوندی تشکیل نمی‌شود.

گزینه «۴»: در اکسایش پیرووات، استیل (نه پیرووات) به کوآنزیم  $A$  وصل می‌شود.

(تربیی) (زیست‌شناسی ۲، صفحه ۱۸) (زیست‌شناسی ۳، صفحه‌های ۶۶ و ۶۸)

۳- گزینه «۲»

(امیرسین میرزایی)

موارد (الف) و (ج) ویژگی موردنظر را دارند.

$NADH$  و  $FADH_2$  مولکول‌های حامل الکترونی هستند که در فضای داخلی راکیزه ایجاد می‌شوند. بررسی همهٔ موارد:

(الف) درست - دومین پروتئین زنجیره، نوعی پروتئین غیرسراسری است که فعالیت پمپی ندارد. این پروتئین، فقط با دم فسفولیپیدها تماس داشته و از این جهت، به عنوان آگریزترین جزء زنجیره انتقال الکترون شناخته می‌شود. این مولکول مستقیماً الکترون‌های  $FADH_2$  را دریافت می‌کند.

(ب) نادرست - اگر چه  $NADH$  می‌تواند انرژی لازم برای فعالیت تمامی پمپ‌های پروتئینی زنجیره انتقال الکترون را تأمین کند؛ اما دقت داشته باشید که غشای راکیزه می‌تواند پمپ‌های دیگری نیز داشته باشد؛ مانند پمپی که پیرووات را برخلاف شیب غلظت خود به درون این اندامک منتقل می‌کند. با این اوصاف، این ویژگی نمی‌تواند در خصوص هیچ‌یک از حاملین الکترون صادق باشد.

(ج) درست - در فضای راکیزه میتوکندری، دو منبع برای تولید  $NADH$  وجود دارد؛ یکی چرخه کربس و دیگری اکسایش پیرووات؛ بنابراین می‌توان گفت مولکول‌های  $FADH_2$  برخلاف  $NADH$ ، فقط به دنبال اکسایش مولکولی طی چرخه کربس تولید شده‌اند.

(د) نادرست - هر دو نوع این مولکول‌ها الکترون‌های پر انرژی خود را به پروتئین‌های موجود در غشای درونی راکیزه منتقل می‌کنند. این الکترون‌ها می‌توانند انرژی لازم برای پمپ کردن یون‌های هیدروژن به فضای بین دو غشای راکیزه را فراهم کنند و از این طریق در ساخت اکسایشی انرژی زیستی نقش داشته باشند.

(از ماره به انرژی) (زیست‌شناسی ۳، صفحه‌های ۶۶ و ۶۸ تا ۷۱)

۴- گزینه «۴»

(مهم‌ر مهری قاپاری)

مطابق شکل ۴ صفحه ۶۶، در مرحله چهارم قند کافت تولید  $ATP$  همراه با کاهش بنیان پیروویک اسید یا همان پیرووات قابل انتظار نیست؛ بلکه تولید  $ATP$  همراه با افزایش پیرووات یا بنیان پیروویک اسید قابل انتظار است. بررسی سایر گزینه‌ها:

گزینه «۱»: در مرحله چهارم قند کافت، کاهش مقدار اسید دو فسفات همراه با تولید  $ATP$  قابل انتظار است.

گزینه «۲»: در مرحله سوم قند کافت، افزایش مقدار اسید دو فسفات همراه با کاهش مقدار قندفسفات قابل انتظار است.

گزینه «۳»: در مرحله اول قند کافت کاهش مقدار  $ATP$  در سیتوپلاسم همراه با تولید نوعی قند دو فسفات (فروکتوز فسفات) قابل انتظار است.

(از ماره به انرژی) (زیست‌شناسی ۳، صفحه ۶۶)

۵- گزینه «۴»

(عامر مسین‌پور)

سوال در مورد میتوکندری است. همهٔ موارد نادرست می‌باشند. بررسی همهٔ موارد:

(الف) بخشی از فعالیت‌های میتوکندری تحت تنظیم دنا خود میتوکندری است و بخش دیگر آن تحت تنظیم دنا هسته می‌باشد.

(ب) با توجه به اینکه غشای داخلی میتوکندری چین‌خورده است، بنابراین فاصلهٔ دو غشا در برخی نواحی بسیار زیاد و در برخی نواحی کم است.

(ج) با توجه به شکل، این اندامک می‌تواند بیش از یک دنا حلقوی داشته باشد. دنا مولکولی دو رشته‌ای و حاوی تیمین است.

(د) پیوند بین گروه‌های آمین و کربوکسیل برای ساخت پروتئین برقرار می‌شود. این پیوند توسط ریبوزوم ایجاد می‌شود که با توجه به شکل ۱۴ از فصل ۲ دوازدهم، ریبوزوم‌های آزاد سیتوپلاسم (نه متصل به شبکهٔ آندوپلاسمی) در ساخت پروتئین‌های میتوکندری می‌توانند نقش داشته باشند.

(از ماره به انرژی) (زیست‌شناسی ۳، صفحه‌های ۳، ۱۳، ۱۵، ۱۶، ۲۷، ۳۰، ۳۱ و ۶۷)

۶- گزینه «۴»

(عباس آرایش)

اندامکی که در تنهٔ اسپرم به فراوانی یافت می‌شود، میتوکندری است.

با توجه به شکل ۸ فصل ۵ دوازدهم بخش نازک (نه ضخیم) آنزیم  $ATP$  ساز در لایه لای فسفولیپیدی غشای داخلی قرار دارد. بررسی سایر گزینه‌ها:

گزینه «۱»: با توجه به اینکه گروهی از پروتئین‌های میتوکندری توسط ریبوزوم‌های آزاد موجود در سیتوپلاسم ساخته می‌شوند، پس این پروتئین‌ها از غشای خارجی میتوکندری عبور می‌کنند.

گزینه «۲»: مولکول پیرووات ساخته شده در سیتوپلاسم با انتقال فعال و به کمک پروتئین‌های غشایی از غشاهای میتوکندری عبور می‌کند.

گزینه «۳»: غشای خارجی میتوکندری برخلاف غشای داخلی آن، صاف بوده و از این نظر مشابه غشاهای هسته است.

(زیست‌شناسی ۱، صفحه‌های ۱۱ و ۱۲) (زیست‌شناسی ۲، صفحه ۱۰۰) (زیست‌شناسی ۳، صفحه‌های ۶۶ تا ۷۱)

۷- گزینه «۱»

(مهم‌رعلی میرری)

تنها مورد (الف) درست است.

منظور از فرایند اکسایش استیل کوآنزیم  $A$ ، واکنش‌های چرخه کربس می‌باشد.

بررسی همهٔ موارد:

(الف) منظور از مولکول گازی که در چرخه کربس تولید می‌شود، مولکول کربن دی اکسید می‌باشد. از آنجاکه چرخه کربس در فضای درونی راکیزه انجام می‌شود، مولکول‌های کربن دی اکسید تولید شده برای خروج از یاخته باید از غشای درونی و



(مهم‌علی میری)

**۱-۰- گزینه ۳»**

در طی فرایند تنفس یاخته‌های هوازی، به منظور تبدیل فروکتوز فسفات به دو مولکول چهار کربنه در چرخه کربس، ۲ مولکول کربن دی اکسید در طی تبدیل دو پیرووات به دو بنیان استیل تولید می‌شود و ۴ مولکول کربن دی اکسید نیز در چرخه کربس مجموعاً در طی تبدیل دو ترکیب شش کربنه به دو ترکیب چهار کربنه تولید می‌شود و بنابراین در مجموع ۶ مولکول کربن‌دی‌اکسید در میتوکندری آزاد می‌شود. همچنین طی فرایند قندکافت در ماده زمینه‌ای سیتوپلاسم، در مجموع ۴ عدد **ADP** مصرف شده و چهار **ATP** تولید می‌شود. بررسی سایر گزینه‌ها:

گزینه «۱»: به منظور تبدیل اسید دو فسفات تولید شده در قندکافت به یک مولکول چهار کربنه در چرخه کربس، توجه داشته باشید که اصلاً یون هیدروژن در سیتوپلاسم تولید نمی‌شود. زیرا یون هیدروژن به همراه **NADH** در قندکافت تولید خواهد شد و در قند کافت در طی تبدیل اسید دو فسفات به پیرووات، اصلاً **NADH** تولید نخواهد شد.

گزینه «۲»: در طی تبدیل قند سه کربنه به ترکیب پنج کربنه در چرخه کربس، در قندکافت، طی تبدیل هر قند سه کربنه به پیرووات، دو عدد **ADP** در مرحله آخر قند کافت مصرف خواهد شد؛ همچنین طی تبدیل قند سه کربنه در قند کافت به ترکیب پنج کربنه چرخه کربس، در مجموع دو مولکول کربن دی اکسید در میتوکندری تولید می‌شود.

گزینه «۴»: طی تبدیل گلوکز به دو ترکیب شش کربنه در چرخه کربس، ۸ مولکول نیترژن‌دار در طی قند کافت در سیتوپلاسم مصرف می‌شوند که عبارتند از: دو عدد

**ATP** در مرحله اول قند کافت، دو عدد **NAD<sup>+</sup>** در مرحله سوم قند کافت و چهار عدد **ADP** در مرحله آخر قند کافت. بنابراین در طی قند کافت به ازای هر گلوکز ۸ مولکول نیترژن‌دار مصرف خواهد شد. همچنین در سیتوپلاسم طی قند کافت ۴ مولکول **ATP** در مرحله آخر قند کافت تولید می‌شود.

(از ماره به انرژی) (زیست‌شناسی ۳، صفحه‌های ۶۶ تا ۶۹)

(مهم‌علی میری)

**۱-۱- گزینه ۴»**

آخرین عضو زنجیره انتقال الکترون که الکترون‌ها را به اکسیژن منتقل می‌کند، سبب تشکیل یون اکسید و در نهایت تولید مولکول آب می‌شود.

همچنین پمپ **ATP** ساز در غشای درونی میتوکندری نیز ضمن انتقال یون‌های هیدروژن در جهت شیب غلظت، سبب تولید مولکول **ATP** و آزاد شدن مولکول آب می‌شود. هر دو پروتئین ذکر شده، قادرند تا یون‌های هیدروژن را از خود عبور دهند. همچنین مطابق شکل ۸ در فصل ۵ زیست‌شناسی ۳ هر دو پروتئین ذکر شده دارای بخشی برآمده در سمت فضای درونی میتوکندری می‌باشند. بررسی سایر گزینه‌ها:

گزینه «۱»: دقت داشته باشید که آخرین عضو زنجیره انتقال الکترون، یون اکسید را در فضای درونی میتوکندری تشکیل می‌دهد. همچنین گرفتن یا از دست دادن الکترون فقط مربوط به اجزای موجود در زنجیره انتقال الکترون می‌باشد.

گزینه «۲»: آخرین پروتئین در زنجیره انتقال الکترون برای انتقال یون‌های هیدروژن، از انرژی الکترون‌ها استفاده می‌کند و در فعالیت خود، از انرژی **ATP** استفاده نکرده و آن را تولید هم نمی‌کند. پمپ **ATP** ساز در غشای درونی میتوکندری، یون‌های هیدروژن را در جهت شیب غلظت از خود عبور داده و سبب تولید مولکول **ATP** می‌شود.

گزینه «۳»: در غشای درونی میتوکندری، آخرین عضو زنجیره انتقال الکترون قادر به عبور یون‌های هیدروژن در خلاف جهت شیب غلظت از فضای درونی میتوکندری به فضای بین دو غشای میتوکندری می‌باشد. همچنین پمپ **ATP** ساز نیز قادر به عبور دادن یون‌های هیدروژن در جهت شیب غلظت خود از فضای بین دو غشای میتوکندری به فضای درونی میتوکندری می‌باشد. اما دقت داشته باشید که هر دو پروتئین، پروتئین‌های سراسری بوده و قادر به طی کردن عرض غشای چین خورده میتوکندری می‌باشند.

(از ماره به انرژی) (زیست‌شناسی ۳، صفحه‌های ۷۰ و ۷۱)

(مهم‌علی میری)

**۱-۲- گزینه ۴»**

شکل زیر بیانگر سه جز آخر زنجیره انتقال الکترون است. مولکول (۱) جز سوم، مولکول (۲) جز چهارم و مولکول (۳) نیز جز آخر است.

مولکول (۳) ضمن انتقال الکترون به مولکول اکسیژن باعث تولید آب و انرژی **ATP** ساز ضمن سنتز مولکول **ATP** منجر به تولید آب شده و بر میزان فشار اسمزی تاثیر گذار است.

بیرونی راکبزه و نیز غشای یاخته عبور کنند. با توجه به اینکه هر غشا از دو لایه فسفولیپیدی تشکیل شده است، بنابراین مولکول‌های کربن دی اکسید تولید شده در چرخه کربس، برای خروج از یاخته، باید از شش لایه فسفولیپیدی غشا عبور کنند. (ب) با ایجاد آخرین کربن‌دی‌اکسید در چرخه کربس ترکیبی چهار کربنی ایجاد می‌شود؛ ولی دقت داشته باشید که این ترکیب چهار کربنی، ترکیب آغازگر چرخه نیست؛ بلکه با ایجاد تغییراتی در آن، ترکیب آغازگر چرخه ایجاد می‌شود.

(ج) این گزینه برعکس بیان شده است! یعنی به محض شکسته شدن پیوند کربن - کربن در ساختار مولکول شش کربنه، نخستین کربن‌دی‌اکسید آزاد می‌شود نه بالعکس! (د) آنزیم‌هایی که در فرایندهای تنفس یاخته‌ای نقش دارند، توسط رانان‌های درون راکبزه یا رانان‌های آزاد در سیتوپلاسم تولید می‌شوند.

(تربیلی) (زیست‌شناسی ۱، صفحه‌های ۱۰ و ۱۳) (زیست‌شناسی ۳، صفحه‌های ۱۹، ۲۵، ۳۱، ۶۹ و ۷۱)

**۸- گزینه ۱»**

(علی بوهری)

در پروکاریوت‌ها می‌توانیم **mRNA** چند ژنی مشاهده کنیم که تولید آن به دلیل رونویسی از روی چند ژن متصل به هم می‌باشد. با توجه به فعالیت ۲ صفحه ۷۰ کتاب دوازدهم، مولکول **ATP** در زنجیره انتقال الکترون ساخته می‌شود که در این هنگام یون هیدروژن به فضای درون سلول وارد می‌شود. با توجه به اینکه سلول پروکاریوت است، بنابراین زنجیره انتقال الکترون در غشای سلول قرار دارد و آنزیم **ATP** ساز یون هیدروژن را به فضای سیتوپلاسم وارد می‌کند. بررسی سایر گزینه‌ها:

گزینه «۲»: با هر بار فعالیت پمپ سدیم - پتاسیم یک عدد مولکول **ATP** مصرف می‌شود که بار مثبت داخل نسبت به بیرون یک عدد کاهش پیدا می‌کند چون سه بار مثبت (سه یون سدیم) به سمت بیرون و دو بار مثبت (دو یون پتاسیم) به سمت داخل جابه‌جا می‌شود. تولید **ATP ۳۰** در شرایط بهینه از یک مولکول گلوکز مربوط به سلول یوکاریوت است. در سلول پروکاریوتی، **DNA** اصلی سلول به غشای سلول متصل است.

گزینه «۳»: وجود عوامل رونویسی متصل به توالی افزاینده از ویژگی‌های سلول یوکاریوتی است. بزرگترین مجموعه پروتئینی غشای داخلی میتوکندری، مجموعه **ATP** ساز است. آنزیم **ATP** ساز غلظت یون هیدروژن در فضای بین دو غشای میتوکندری را کاهش می‌دهد.

گزینه «۴»: در سلول یوکاریوتی فضای درونی سلول توسط غشا به بخش‌های مختلف تقسیم شده است. در شرایطی که **ATP** در سلول زیاد باشد، آنزیم‌های قندکافت و کربس مهار می‌شوند. آنزیم‌های قند کافت توسط ریبوزوم‌های آزاد در سیتوپلاسم ساخته می‌شوند. (تربیلی) (زیست‌شناسی ۲، صفحه‌های ۵۳ تا ۵۵)

(زیست‌شناسی ۳، صفحه‌های ۱۳، ۳۴، ۳۵، ۶۶، ۶۷، ۶۹، ۷۰، ۷۱)

**۹- گزینه ۴»**

(عباس آرایش)

علت نادرستی مورد «الف»: در یک مولکول **ATP**، یک باز آلی آدنین، یک قند ریبوز و سه گروه فسفات وجود دارد که تنها دو حلقه باز آن، نیترژن‌دار است. در مولکول **ADP**، دو فسفات وجود دارد که با یک پیوند به یکدیگر وصل شده‌اند.

دقت داشته باشید که آدنوزین شامل باز آلی آدنین و قند ریبوز است و در ساختار آن فسفاتی یافت نمی‌شود. اختلاف تعداد فسفات و حلقه نیترژن‌دار ۲ و پیوند بین فسفات‌ها در مولکول **ADP**، یک است.

علت نادرستی مورد «ب»: افزوده شدن فسفات به آدنوزین در سه (نه یک) مرحله روی می‌دهد. در نتیجه در ابتدا آدنوزین مونوفسفات (**AMP**)، سپس آدنوزین دی فسفات (**ADP**) و در نهایت آدنوزین تری فسفات (**ATP**) تشکیل می‌شود.

علت نادرستی مورد «ج»: دقت کنید که در یاخته‌های پوششی، کراتین فسفات وجود ندارد. علت نادرستی مورد «د»: در گام ۱ گلیکولیز **ATP** مصرف و در گام ۴ آن، **ATP** تولید می‌شود.

دقت کنید که در گام ۴ پیرووات از اسید دو فسفات ایجاد می‌شود (نه برعکس)!

(تربیلی) (زیست‌شناسی ۲، صفحه ۵۰) (زیست‌شناسی ۳، صفحه‌های ۴ و ۶۴ تا ۶۶)



بررسی سایر گزینه‌ها:

گزینه «۱»: آنزیم **ATP** ساز چون نوعی آنزیم است و می‌تواند با انرژی حاصل از فرایند عبور پروتون‌ها از غشا، مولکول **ATP** را بسازد پس می‌تواند با کمک فرایندی انرژی زا، نوعی واکنش انرژی خواه را به انجام برساند.

گزینه «۲»: تنها مولکول‌های پمپ در زنجیره در جابه‌جایی پروتون‌ها از عرض غشای درونی راکیزه نقش اصلی را دارد. مولکول (۲) پمپ محسوب نمی‌شود پس در جابه‌جایی پروتون‌ها از عرض غشای درونی راکیزه نقش اصلی ندارد.

گزینه «۳»: آگریزترین جزء زنجیره انتقال الکترون، جز دوم است و مولکول (۱) الکترون را از این جزء دریافت می‌کند.

(از ماده به انرژی) (زیست‌شناسی ۳، صفحه‌های ۷۰ و ۷۱)

### ۱۳- گزینه «۴»

(مسئله علی ساقی)

در مسیر تبدیل یک گلوکز به دو ترکیب سه کربنی دو فسفات در گلیکولیز، دو **ADP** تولید و دو **ATP** مصرف می‌شود. همچنین در این مسیر، دو **NADH** تولید و دو **NAD<sup>+</sup>** نیز مصرف می‌گردد. پس می‌توان گفت که چهار ترکیب نوکلئوتیدی مصرف و چهار ترکیب نوکلئوتیدی تولید می‌شود. بررسی سایر گزینه‌ها:

گزینه «۱»: در طی تبدیل قند شش کربنی فسفات‌دار به دو مولکول استیل کوآنزیم **A**، در مجموع چهار **NADH** تولید می‌گردد (۲ مولکول در گلیکولیز و ۲ مولکول در اکسایش پیرووات). در طی این واکنش‌ها، ۸ پروتون مصرف می‌گردد. دقت کنید که در این شرایط **NAD<sup>+</sup>** تولید نمی‌گردد.

گزینه «۲»: دقت کنید که در یک چرخه کربس، دو مولکول کربن دی‌اکسید تولید می‌شود. پس این مورد نادرست است.

گزینه «۳»: در واکنش مربوط به تولید یک مولکول آب در فضای داخلی راکیزه، لازم است تا ۲ الکترون مصرف شود. پس این مورد نادرست است.

(از ماده به انرژی) (زیست‌شناسی ۳، صفحه‌های ۶۶ تا ۷۱)

### ۱۴- گزینه «۱»

(عباس آرایش)

در یک زنجیره انتقال الکترون موجود در میتوکندری، ۵ پروتون دیده می‌شود که سه‌تای آنها سراسری بوده و دو تای دیگر سراسری نیستند.

نوعی پروتئین سطحی که بین پمپ ۲ و ۳ قرار دارد، تنها در تماس با لایه خارجی غشای داخلی میتوکندری است. بررسی سایر گزینه‌ها:

گزینه «۲»: پمپ ۱ الکترون‌های **NADH** و مولکول دوم بین پمپ ۱ و ۲ الکترون‌های **FADH<sub>2</sub>** را به طور مستقیم دریافت می‌کند.

همه پروتئین‌های یک زنجیره انتقال الکترون میتوکندری به جز پمپ ۱، الکترون‌های **NADH** را به صورت غیرمستقیم دریافت می‌کنند.

همه پروتئین‌های یک زنجیره انتقال الکترون میتوکندری به جز پمپ ۱ و مولکول بین پمپ ۱ و ۲، الکترون‌های **FADH<sub>2</sub>** را به صورت غیرمستقیم دریافت می‌کنند.

این مورد در ارتباط با هیچ پروتئینی درست نیست.

گزینه «۳»: دقت کنید که پمپ‌های زنجیره انتقال الکترون میتوکندری یون هیدروژن (نه الکترون) را پمپ می‌کنند.

گزینه «۴»: هیچ‌یک از پروتئین‌های زنجیره انتقال الکترون میتوکندری توانایی ساخت مولکول **ATP** را ندارد. (از ماده به انرژی) (زیست‌شناسی ۳، صفحه‌های ۶۵، ۶۷ و ۶۹ تا ۷۱)

### ۱۵- گزینه «۱»

(حامد حسین پور)

شکل مربوط به اسید دو فسفات است. این ترکیب به دنبال انتقال الکترون از قند سه کربنی به **NAD<sup>+</sup>** ایجاد شده است. بنابراین سطح انرژی آن کمتر از قند سه کربنی است. بررسی سایر گزینه‌ها:

گزینه «۲»: یکی از فسفات‌های آن از **ATP** و دیگری از فسفات‌های آزاد سیتوپلاسم می‌باشد.

گزینه «۳»: پیرووات ناشی از این ترکیب، در یوکاریوت‌ها برای ورود به میتوکندری لازم است از غشای آن عبور کند. اما با توجه به اینکه سوال به صورت کلی بیان شده و همه

جانداران را در نظر گرفته است، با توجه به اینکه پروکاریوت‌ها میتوکندری ندارند، این گزینه رد می‌شود.

گزینه «۴»: این ترکیب خاصیت اسیدی دارد، نه قندی!

(از ماده به انرژی) (زیست‌شناسی ۳، صفحه‌های ۳ و ۶۶ تا ۶۸)

### ۱۶- گزینه «۱»

(وعید کریم زاده)

فقط مورد «د» صحیح است. در زنجیره انتقال الکترون میتوکندری، دومین ناقل الکترونی فاقد نقش پمپ، الکترون‌ها را فقط از پمپ پروتئینی ماقبل خود در زنجیره دریافت می‌کند. در حالی که اولین ناقل الکترونی فاقد نقش پمپ کنندگی، الکترون‌ها را از یک پمپ پروتونی و همچنین مستقیماً از یک حامل الکترون (**FADH<sub>2</sub>**) دریافت می‌کند. بررسی موارد:

الف) مطابق شکل ۸ فصل ۵ زیست‌شناسی ۳، هر دو ناقل الکترونی در بین دو مولکول بزرگتر از خود قرار دارند.

ب) الکترون‌ها برای رسیدن به ناقل الکترونی دوم حداقل از یکی از پمپ‌های پروتونی عبور می‌کنند؛ لذا همواره مقداری از انرژی خود را از دست می‌دهند. این در حالی است که بعضی از الکترون‌های ناقل الکترونی اول مستقیماً از حامل الکترون به این مولکول منتقل شده‌اند؛ لذا انرژی بیشتری دارند.

ج) دومین ناقل الکترونی به سرهای فسفولیبیدی لایه خارجی غشای داخلی میتوکندری نزدیک‌تر است. در حالی که اولین ناقل الکترونی در محلی بین اسیدهای چرب فسفولیبیدی‌ها هر دو لایه غشا قرار گرفته است.

د) اولین ناقل الکترونی، می‌تواند از اولین پمپ پروتونی الکترون دریافت کند. دومین ناقل الکترونی نیز، می‌تواند الکترون‌های حاصل از اکسایش **FADH<sub>2</sub>** را که فقط از یکی از پمپ‌های پروتونی عبور کرده‌اند؛ دریافت کند.

(از ماده به انرژی) (زیست‌شناسی ۳، صفحه‌های ۷۰ و ۷۱)

### ۱۷- گزینه «۲»

(فواد عبدالله پور)

به دنبال ورود پیرووات به میتوکندری یاخته‌ها ابتدا کربن دی‌اکسید از ساختار آن جدا می‌شود. می‌دانیم یکی از پیش‌ماده‌های آنزیم کربنیک انیدراز، کربن دی‌اکسید است. بررسی سایر گزینه‌ها:

گزینه «۱»: در فرایند اکسایش پیرووات مولکول **ATP** تولید نمی‌شود.

گزینه «۳»: منظور از مواد آلی در این گزینه همان کوآنزیم‌ها است. این فرایند بعد از مورد گفته شده در گزینه «۲» به وقوع می‌پیوندد.

گزینه «۴»: دقت کنید در صورت سؤال گفته شده پس از ورود پیرووات به میتوکندری یاخته‌ها کدام گزینه زودتر صورت می‌گیرد. این گزینه در حین ورود پیرووات به میتوکندری انجام می‌شود.

(تربویی) (زیست‌شناسی ۱، صفحه ۳۹) (زیست‌شناسی ۳، صفحه‌های ۱۹، ۶۶ و ۶۸)

### ۱۸- گزینه «۱»

(کاهه نریمی)

در آخرین مرحله قندکافت **ATP** تولید و با توجه به شکل کتاب که تبدیل شدن **ATP** و **ADP** به یکدیگر را نشان می‌دهد با تولید **ATP** آب هم تولید می‌شود.

و با افزایش مقدار آب در یاخته فشار اسمزی کاهش می‌یابد ولی دقت کنید در مرحله آخر گروه‌های فسفات به **ADP** اضافه می‌شود پس مقدار گروه‌های فسفات آزاد در ماده زمینه‌ای سیتوپلاسم در مرحله آخر افزایش نمی‌یابد چون این گروه‌ها به مولکول **ADP** اضافه می‌شوند. بررسی سایر گزینه‌ها:

گزینه «۲»: پیرووات با انتقال فعال وارد راکیزه می‌شود و با توجه به مطالب کتاب درسی می‌دانیم که در انتقال فعال مواد بر خلاف شیب غلظت و توسط پروتئین‌ها (بمپ‌های آمینواسیدی) منتقل می‌شوند.

گزینه «۳»: یون‌های پروتون از کانال آنزیم **ATP** ساز عبور می‌کنند و عبور این یونها انرژی لازم برای تولید **ATP** را فراهم می‌کند می‌دانیم که انرژی لازم برای پمپ کردن پروتون‌ها از اکسایش حامل‌های الکترونی تأمین شده است.

۲۲- گزینه «۱»

(الف) نادرست، چون در متن کتاب صفحه ۷۳ ذکر شده است که تداوم قند کافت وابسته به وجود  $NAD^+$  است که در اینجا  $NADH$  ذکر شده است که اشتباه است.  
(ب) درست، در ور آمدن خمیر که تخمیر الکلی است، ابتدا پیرووات تجزیه می شود و ترکیبی دو کربنه به نام اتانال را ایجاد می کند سپس اتانال کاهش و  $NADH$  اکسایش می یابد و اتانول ایجاد می شود در حالیکه در تخمیر انجام شده در دو سربازو که لاکتیکی است، پیرووات اصلاً تجزیه نمی شود.  
(ج) درست، آخرین پذیرنده الکترون در تخمیر الکلی (جهت ور آمدن خمیر) اتانال است که ماده دو کربنه آلی است و در تخمیر صورت گرفته در عضلات (تخمیر لاکتیکی) آخرین پذیرنده پیرووات است که آن نیز ماده آلی البته سه کربنه است؛ مواد آلی کربن و هیدروژن را دارند.  
(د) درست، در تخمیر الکلی که در ور آمدن خمیر نقش دارد، آخرین گیرنده و پذیرنده الکترون اتانال نام دارد و قبل آنکه اتانال کاهش یابد، باید پیرووات تجزیه شود،  $CO_2$  و اتانال را تولید کند و می دانیم که در انسان  $CO_2$  با آمونیاک در کبد مصرف می شود تا اوره تولید شود البته در تخمیر لاکتیکی  $CO_2$  تولید نمی شود پس تأثیری در تولید پیش ماده های مؤثر در تولید اوره ندارد. (اوره فراوانترین ماده آلی ادرار است)

(تربیتی) (زیست شناسی، ۱، صفحه های ۶۸ و ۶۹ تا ۷۲)  
(زیست شناسی، ۲، صفحه های ۴۵ و ۴۶) (زیست شناسی، ۳، صفحه های ۶۴، ۶۵، ۶۶ و ۷۳ تا ۷۴)

۲۳- گزینه «۲»

(مسمن نوائی)  
در اکسایش پیرووات همانند تخمیر الکلی، پیش از تولید نوعی ترکیب دو کربنی فاقد فسفات (استیل در اکسایش پیرووات و اتانول در تخمیر الکلی) به ترتیب تولید  $NADH$  و  $NAD^+$  دیده می شود. بررسی سایر گزینه ها:  
گزینه «۱»: در فرایند گلیکولیز همانند تخمیر لاکتیکی، پیش از تولید ترکیب سه کربنی نهایی نوعی دی نوکلئوتید دارای فسفات تولید می شود ( $NADH$  در گلیکولیز و  $NAD^+$  در تخمیر لاکتیکی) اما در گلیکولیز، تولید  $NADH$  بلافاصله پیش از تولید ترکیب سه کربنی نهایی نیست.  
گزینه «۳»: در گلیکولیز کربن دی اکسیدی تولید نمی شود.  
گزینه «۴»: در واکنش های اکسایش پیرووات، هیچ یک از ترکیب های کربن دار اصلی واکنش (پیرووات، استیل، استیل کوآنزیم آ) فسفات ندارند.

(از ماده به انرژی) (زیست شناسی، ۳، صفحه های ۶۴، ۶۵، ۶۶، ۶۷ و ۷۳ تا ۷۴)

۲۴- گزینه «۴»

(مزدا شکوری)  
در صورت سوال منظور از ترکیب سه کربنه دو فسفات، اسید دو فسفات است که به پیرووات تبدیل می شود و منظور از ترکیب دو کربنه ایجاد شده، با مسیر هوازبست که طی آن از پیرووات بنیان استیل ایجاد می شود یا تخمیر الکلی است که از پیرووات ترکیب دو کربنه ای به نام اتانال ایجاد می شود. بررسی گزینه ها:  
(۱) نادرست، زمانیکه پیرووات به استیل تبدیل می شود که مسیر هوازی است  $NAD^+$  کاهش پیدا می کند و  $NADH$  تولید می شود اما زمانیکه پیرووات به اتانال تبدیل می شود کاهش  $NAD^+$  رخ نمی دهد.  
(۲) نادرست، زمانیکه اسید سه کربنه دو فسفات به پیرووات که اسید سه کربنه بدون فسفات است تبدیل می شود، دو  $ADP$  مصرف و دو  $ATP$  تولید می شود که این تولید  $ATP$  در سطح پیش ماده است، تعداد ۴ مولکول گفته شده در این گزینه نادرست است.  
(۳) نادرست، دقت کنید چون در صورت سوال ذکر شده است ترکیب سه کربنه دو فسفات های به ترکیب دو کربنه تبدیل شده است بنابراین طی مسیر فقط یک  $CO_2$  تولید می شود مولکول های  $CO_2$  گفته شده نشان دهنده بیش از یک مولکول  $CO_2$  است که دلیلی بر نادرستی این گزینه است.  
(۴) درست، چون در ابتدا اسید سه کربنه دو فسفات چهار دو شکست اشتراکی می شود دو فسفات خود را از دست می دهد تا به  $ADP$  داده شود و دو  $ATP$  تولید شود و از

گزینه «۴»: اگر مقدار  $ADP$  در یاخته زیاد باشد آنزیم های مؤثر در قند کافت و چرخه کربس فعال می شوند و اگر مقدار  $ATP$  زیاد باشد این آنزیم ها مهار می شوند تفاوت  $ATP$  و  $ADP$  یک گروه فسفات است پس می توان نتیجه گرفت مقدار گروه های فسفات متصل به آدنوزین در فعالیت آنزیم های مؤثر در قند کافت و چرخه کربس نقش دارد.

(تربیتی) (زیست شناسی، ۱، صفحه های ۷ و ۱۳) (زیست شناسی، ۳، صفحه های ۶۴، ۶۵ و ۶۶ تا ۶۸ و ۷۲)

۱۹- گزینه «۳»

(همبرضا فیض آباری)  
منظور صورت سوال به ترتیب مولکول کوآنزیم  $A$  و کربن دی اکسید است. مولکول کربن دی اکسید به عنوان پیش ماده می تواند فعالیت آنزیم انیدراز کربنیک را زیاد کند همانند مولکول کوآنزیم  $A$  که نوعی کوآنزیم است که می تواند باعث افزایش فعالیت آنزیم ها شود. کربن دی اکسید برخلاف کوآنزیم  $A$  در پی تولید شدن با عبور از دو غشای میتوکندری و یک غشای یاخته از یاخته خارج شود ولی کوآنزیم  $A$  در میتوکندری باقی می ماند. بررسی سایر گزینه ها:  
گزینه «۱»: فقط کوآنزیم  $A$  دارای اتم های کربن است و کربن دی اکسید یک اتم کربن دارد. گرچه کربن دی اکسید برخلاف کوآنزیم  $A$  می تواند در سیتوپلاسم دیده شود.  
گزینه «۲»: هیچ کدام از مولکول های کوآنزیم  $A$  و کربن دی اکسید در واکنش های قند کافت شرکت ندارند، هر چند کوآنزیم  $A$  برخلاف کربن دی اکسید ضمن اکسایش پیرووات به استیل که نوعی مولکول دو کربنه است متصل می شود.  
گزینه «۴»: هر دو مولکول کوآنزیم  $A$  و کربن دی اکسید در تنظیم سوخت و ساز یاخته دخالت دارند و هر دو مولکول هم در نوعی اندامک دارای دنا تولید می شوند.

(تربیتی) (زیست شناسی، ۲، صفحه ۲) (زیست شناسی، ۳، صفحه های ۶۴ تا ۶۷)

۲۰- گزینه «۳»

(علیرضا عابری)  
طبق شکل ۲ صفحه ۶۴ کتاب درسی ترکیب  $ATP$  با آب موجب آزاد شدن انرژی و تبدیل  $ATP$  به  $ADP$  می شود.  
گزینه «۱»: برای جدا شدن سر میوزین از اکتین نیاز به حضور  $ATP$  است اما در این مرحله  $ATP$  به  $ADP$  تبدیل نمی شود (زیست ۲ شکل ۱۶ صفحه ۵۰) (نادرست)  
گزینه «۲»: طبق الگوی جریان فشاری در مرحله دوم،  $ATP$  مصرف نمی شود. (نادرست)  
گزینه «۳»: انتقال دهنده های عصبی که پس از انتقال پیام باقی مانده اند امکان دارد دوباره جذب یاخته پیش سیناپسی شوند که با مصرف انرژی بصورت  $ATP$  و با اندوسیتوز (درون بری) رخ می دهد (درست)  
گزینه «۴»: حین انتقال  $Ca^{2+}$  از سیتوپلاسم به درون شبکه آندوپلاسمی انرژی زیستی  $ATP$  مصرف می شود (نادرست) (صفحه ۴۹ زیست ۲)

(تربیتی) (زیست شناسی، ۱، صفحه ۱۱۱)

(زیست شناسی، ۲، صفحه های ۸، ۷، ۴۹ و ۵۰) (زیست شناسی، ۳، صفحه ۶۴)

زیست شناسی ۳- پیشروی سریع

۲۱- گزینه «۲»

(مسمن نوائی)  
موارد «ب» و «د» عبارت را به نادرستی تکمیل می کنند. بررسی موارد:  
(الف) ماده نهایی تولیدی در تخمیر الکلی اتانول است و اتانول با عبور از جفت می تواند تأثیر بر نمو جنین بگذارد.  
(ب) تخمیر الکلی با آزاد شدن کربن دی اکسید همراه است که اتانول تولید شده به سرعت در دستگاه گوارش جذب می شود.  
(ج) لاکتیک اسید باعث تحریک گیرنده های درد می شود. در تخمیر لاکتیکی الکترون های مولکول  $NADH$  به مولکول پیرووات می رسند.  
(د) تخمیر الکلی در یاخته های انسانی رخ نمی دهد. اتانول دو کربنه بوده که برابر تعداد گروه های فسفات ترکیب اصلی تولید شده در مرحله اول قند کافت است.

(تربیتی) (زیست شناسی، ۲، صفحه های ۱۳، ۱۲، ۱۱) (زیست شناسی، ۳، صفحه های ۶۶، ۶۷ و ۷۴)

### ۲۸- گزینه ۳»

(مهری ماهری)

در تخمیر الکلی، مولکول پیرووات که نوعی مولکول اسیدی می‌باشد، به اتانال تبدیل می‌شود که نوعی مولکول اسیدی نیست. پس در تخمیر الکلی، مقدار ترکیبات اسیدی کاهش می‌یابد. اما در تخمیر لاکتیکی با تولید لاکتات، مقدار ترکیبات اسیدی کاهش نخواهد یافت. بررسی سایر گزینه‌ها:

گزینه «۱»: هر دو نوع تخمیر الکلی و لاکتیکی، در گیاهان وجود دارد. تجمع الکل یا لاکتیک اسید در یاخته گیاهی به مرگ می‌انجامد، بنابراین، باید از یاخته‌ها دور بشود. گزینه «۲»: در تخمیر الکلی، مولکول‌های دو کربنه اتانال و اتانول تولید می‌شوند. اما باید توجه کرد که تخمیر الکلی در داخل میتوکندری رخ نمی‌دهد، چرا که اصلاً در تخمیر، به دلیل کمبود اکسیژن، پیرووات وارد میتوکندری نمی‌شود. گزینه «۴»: فرایند قند کافت، در ابتدای هر دو نوع تخمیر الکلی و لاکتیکی وجود دارد. در قند کافت، بعد از تولید قند فسفات‌سه کربنه از فروکتوز فسفات‌سه کربنه (کاهش

تعداد کربن)، قند فسفات‌سه با دادن الکترون به  $NAD^+$  اکسایش پیدا کرده و تعداد الکترون‌های آن تغییر پیدا می‌کند؛ در ضمن  $NAD^+$  نوکلئوتید نیست بلکه ترکیبی نوکلئوتیددار است. (از ماه به انرژی) (زیست‌شناسی ۳، صفحه‌های ۶۶، ۶۸، ۷۳ و ۷۴)

### ۲۹- گزینه ۳»

(مهم امیر حسین پور)

تخمیرها انواع مختلفی دارند که ۲ نمونه از آنها الکلی و لاکتیکی است. در فرایند تخمیر الکلی در مرحله آخر اتانول تولید می‌شود. اتانول می‌تواند موجب افزایش تولید رادیکال‌های آزاد و در نتیجه افزایش بافت مرگی کبد شود. بررسی سایر گزینه‌ها:

گزینه «۱»: محرک گیرنده درد در این فرایندها همان لاکتات است و اتانول نیز موجب اختلال در گفتار انسان می‌شود اما به غیر از تخمیر لاکتیکی و الکلی تخمیرهای دیگری نیز وجود دارند.

گزینه «۲»: یکی از پروتئین‌های موثر در تنفس انسان هموگلوبین است که به  $O_2$  متصل می‌شود. تخمیر در کمبود  $O_2$  نیز انجام می‌شود، نه صرفاً نبود  $O_2$ ! گزینه «۴»: تخمیر لاکتیکی فرایندی است که باعث ترش شدن شیر می‌گردد و اولین مرحله از این فرایند همان قند کافت است که فرآورده نهایی آن پیرووات است اما با توجه به انتقال فعال پیرووات به درون راکیزه پس این ماده در راکیزه غلظت بیشتری نسبت به ماده زمینهای سیتوپلاسم دارد. (ترکیبی) (زیست‌شناسی ۱، صفحه ۳۹)

(زیست‌شناسی ۲، صفحه‌های ۱۳ و ۲۲) (زیست‌شناسی ۳، صفحه‌های ۷۳ تا ۷۵)

### ۳۰- گزینه ۲»

(مهری ماهری)

عبارت‌های «ب» و «ج» صحیح هستند. بررسی همه عبارت‌ها: الف) کاروتنوئیدها نوعی ترکیبات رنگی بوده که پاداکسنده محسوب می‌شوند. پاداکسنده‌ها موجب کاهش تولید رادیکال‌های آزاد نمی‌شوند، بلکه با واکنش دادن با آنها، از اثرات تخریبی جلوگیری می‌کنند.

ب) گاز کربن مونواکسید، ظرفیت حمل اکسیژن را در خون کاهش می‌دهد. این گاز همین‌طور، باعث توقف فرایند انتقال الکترون به اکسیژن و تولید آب می‌شود. با کاهش انتقال الکترون به اکسیژن، تولید رادیکال آزاد نیز کاهش خواهد یافت.

ج) در تخمیر الکلی که موجب ور آمدن خمیر نان می‌شود، الکل به تولید می‌رسد. با مصرف الکل، سرعت تولید رادیکال‌های آزاد افزایش می‌یابد، با افزایش سرعت تولید رادیکال‌های آزاد، اکسیژن کم‌تری در مدار تولید آب قرار می‌گیرد، پس مقدار تولید آب کاهش می‌یابد.

د) قسمتی از ژن‌های مربوط به پروتئین‌های تنفس یاخته‌ای در میتوکندری، در DNA هسته و قسمتی در DNA میتوکندری قرار دارد. با تخریب میتوکندری، هنوز ژن‌های DNA هسته‌ای باقی مانده و بعضی از پروتئین‌های دخیل در تنفس یاخته‌ای می‌توانند ساخته شوند. (ترکیبی)

(زیست‌شناسی ۱، صفحه‌های ۳۹ و ۸۳) (زیست‌شناسی ۳، صفحه‌های ۳۱، ۶۷، ۷۰ و ۷۳ تا ۷۶)

طرفی پیرووات که ترکیب سه کربنه دیگر است و البته فاقد فسفات است، نیز دچار شکست اشتراکی می‌شود، یک بخش دارای کربن خود را از دست می‌دهد تا  $CO_2$  تولید شود پس بیش از یک نوع سه کربنه آلی در طی مراحل گفته شده، دچار شکست پیوند اشتراکی شده‌اند. (از ماه به انرژی) (زیست‌شناسی ۳، صفحه‌های ۶۶، ۶۸، ۷۳ و ۷۴)

### ۲۵- گزینه ۲»

(پیمان یعقوبی)

در هنگامی که اکسیژن وجود دارد پیرووات می‌تواند وارد راکیزه شود و در آن طی اکسایش پیرووات کربن دی‌اکسید و مولکول  $NADH$  تولید می‌شود. در درون راکیزه دمای حلقوی وجود دارد بنابراین، اکسایش پیرووات می‌تواند در مجاورت نوعی مادهٔ ژنتیکی رخ بدهد. بررسی سایر گزینه‌ها:

گزینه «۱» در هنگام قند کافت تولید مقداری مولکول  $ATP$  در سیتوپلاسم (در مجاورت اکتین و میوزین) صورت می‌گیرد. گزینه «۳» تخمیر از روش‌های تأمین انرژی در شرایط کمبود یا نبود اکسیژن است که در انواعی از جانداران رخ می‌دهد. در فرایند تخمیر، راکیزه و در نتیجه زنجیره انتقال الکترون نقشی ندارند. در یاخته‌های ماهیچه‌ای فقط تخمیر لاکتیکی رخ می‌دهد. لاکتیک (۳ کربنی) ایجاد شده سبب تحریک گیرنده‌های درد می‌شود.

گزینه «۴» در هنگامی که اکسیژن نباشد پیروواتی دیگر وارد راکیزه نمی‌شود و غشای داخلی راکیزه عملاً غیرفعال می‌گردد. (ترکیبی) (زیست‌شناسی ۱، صفحه ۱۲) (زیست‌شناسی ۲، صفحه‌های ۲۲، ۴۵ و ۵۰) (زیست‌شناسی ۳، صفحه‌های ۶۸، ۷۳ و ۷۴)

### ۲۶- گزینه ۴»

(مهم زارع)

در پرکاری غده تیروئید میزان ترشح هورمون‌های تیروئیدی (برای ساخت هورمون‌های تیروئیدی بد لازم است)، افزایش می‌یابد. تنفس یاخته‌ای در همه یاخته‌های بدن به غیر از گوچه قرمز افزایش می‌یابد. باتوجه به افزایش تنفس یاخته‌ای هوازی میزان تولید یون اکسید افزایش می‌یابد و با توجه به اینکه یون‌های اکسید با یون‌های پروتون موجود در فضای درونی راکیزه ترکیب می‌شوند و مولکول آب را تولید می‌کنند میتوان درستی این گزینه را اثبات کرد. بررسی سایر گزینه‌ها:

گزینه «۱»: توجه کنید که تنفس یاخته‌ای هوازی در گوچه‌های قرمز که فاقد بسیاری از اندامک‌ها است، انجام نمی‌شود.

گزینه «۲»: استیل کوانزیم A درون راکیزه قرار دارد و نیازی به ورود آن نیست. گزینه «۳»: اندازه‌گیری‌های واقعی در شرایط بهینه آزمایشگاهی نشان می‌دهند که مقدار  $ATP$  تولید شده در ازای تجزیهٔ کامل گلوکز در بهترین شرایط در یاخته یوکاریوت، حداکثر  $30 ATP$  است. (ترکیبی) (زیست‌شناسی ۱، صفحه ۶۲)

(زیست‌شناسی ۲، صفحه ۵۸) (زیست‌شناسی ۳، صفحه‌های ۶۹، ۷۰ و ۷۲ تا ۷۴)

### ۲۷- گزینه ۴»

(مژرا شکوری)

گزینه «۱»: نادرست، تشکیل آب در فضای درون میتوکندری انجام می‌شود نه در بین دو غشا. گزینه «۲»: نادرست، سم‌هایی مانند سیانید و آرسنیک جایگاه فعال آنزیم را اشغال می‌کنند و باعث تغییر در شکل فضایی جایگاه فعال آنزیم نمی‌شوند.

گزینه «۳»: نادرست، الکل باعث افزایش رادیکال آزاد می‌شود اما  $CO$  و البته سیانید باعث افزایش رادیکال آزاد در یاخته نمی‌شود بلکه بر بخش انتهایی زنجیره انتقال الکترون تأثیر می‌گذارد.

گزینه «۴»: درست، کربن مونواکسید به دو طریق به تنفس یاخته‌ای آسیب می‌زند. در یک حالت باعث توقف زنجیره، انتقال الکترون میشود و در حالت دیگر با اتصال به هموگلوبین مانع اتصال اکسیژن می‌شود و ظرفیت حمل اکسیژن در خون کم می‌شود که می‌دانیم کاهش اکسیژن در یاخته‌ها نیز باعث اختلال در تنفس یاخته‌ای می‌شود اما سیانید فقط باعث توقف زنجیره انتقال الکترون در راکیزه می‌شود.

(از ماه به انرژی) (زیست‌شناسی ۳، صفحه‌های ۱۹، ۷۵ و ۷۶)

**زیست‌شناسی پایه**

**۳۱- گزینه «۳»**

(سیر امیرسین هاشمی)

موارد (ب)، (ج) و (د) صحیح است.

(الف) گروهی از ماهیچه‌های اسکلتی مانند ماهیچه‌های اسکلتی حلق و ابتدای مری تحت تأثیر بخش پیکری دستگاه عصبی محیطی، در فعالیت غیرارادی نقش ایفا می‌کنند.

(ب) بسیاری از ماهیچه‌ها به صورت جفت باعث حرکات اندام‌ها می‌شوند؛ زیرا ماهیچه‌ها فقط قابلیت انقباض دارند.

(ج) همه ماهیچه‌های اسکلتی، توسط بخش پیکری دستگاه عصبی محیطی، عصبدهی می‌شوند.

(د) همه ماهیچه‌های اسکلتی به استخوان متصل نبوده و باعث حرکت استخوان نمی‌شوند مانند بنداره خارجی مخرج. بنابراین تنها گروهی از ماهیچه‌های اسکلتی به وسیله زردپی که طنابی محکم از جنس بافت پیوندی است، به استخوان متصل می‌شوند. (ترکیبی) (زیست‌شناسی ۱، صفحه ۱۹) (زیست‌شناسی ۲، صفحه‌های ۱۶، ۱۷ و ۳۵ تا ۳۷)

**۳۲- گزینه «۴»**

(امیررضا فرح‌پوش)

بررسی همه موارد:

(الف) در دیابت بی‌مزه، با ترشح نشدن هورمون ضد ادراری، مقدار زیادی ادرار رقیق از بدن دفع می‌شود. بنابراین حجم ادرار افزایش می‌یابد و به دنبال آن گیرنده‌های کششی مثانه بیشتر تحریک می‌شوند.

(ب) در دیابت شیرین (نوع یک و نوع دو) به علت تجزیه پروتئین‌ها و در نهایت تجزیه آمینواسیدها، آمونیاک تولید می‌شود که بسیار سمی است. تجمع آمونیاک در خون به سرعت به مرگ می‌انجامد. کبد، آمونیاک را از طریق ترکیب آن با کربن دی‌اکسید به اوره (نوعی ماده آلی کربن‌دار) تبدیل می‌کند.

(ج) در بیماری دیابت شیرین که بر دو نوع دیابت نوع یک و نوع دو است، بر اثر تجزیه چربی‌ها، محصولات اسیدی تولید می‌شود. محصولات اسیدی با کاهش pH باعث تغییر ساختار پروتئین‌ها می‌شوند و می‌توانند عملکرد پروتئین‌ها را مختل کنند.

(د) هیپوتالاموس بخشی از مغز است که با آزاد کردن ناقل‌های عصبی، در تنظیم خواب نقش دارد. افراد مبتلا به دیابت، به دلیل افزایش حجم ادرار، دچار تشنگی می‌شوند. مرکز تنظیم تشنگی هیپوتالاموس می‌باشد.

(ترکیبی) (زیست‌شناسی ۱، صفحه‌های ۳۴، ۷۴ و ۷۵) (زیست‌شناسی ۲، صفحه‌های ۷، ۱۱ و ۶)

**۳۳- گزینه «۴»**

(امیررضا فرح‌پوش)

(این سؤال شبیه ساز سؤال ۲۱ کنکور نوبت تیرماه ۱۴۰۲ می‌باشد).

غده فوق کلیه و لوزالمعده در نزدیکی کلیه (اندامی لوبیایی شکل) قرار دارند. باید گزینه‌ای را انتخاب کنیم که فقط در مورد یکی از این غده درون ریز صادق باشد.

گزینه «۴»: غده لوزالمعده با افزایش ترشح انسولین (در پاسخ به افزایش گلوکز خون) موجب ورود گلوکز به یاخته‌ها به ویژه کبد و ماهیچه می‌شود که افزایش سوخت و ساز را می‌توان مشاهده کرد. بخش برون ریز لوزالمعده، آنزیم‌های گوارشی و بی‌کربنات ترشح می‌کند. بی‌کربنات لوزالمعده اثر اسید معده (ترشح شده از یاخته‌های کناری غده‌های معده) را خنثی می‌کند. بررسی سایر گزینه‌ها:

گزینه «۱»: غده فوق کلیه با ترشح آلدوسترون موجب افزایش بازجذب (نه ترشح) سدیم می‌شود. نخستین مرحله تشکیل ادرار تراوش است که در این مرحله، مواد براساس اندازه وارد گردبوزه می‌شوند. در فرایند تراوش، بخشی از خوناب در نتیجه فشارخون از کلافک خارج و به کپسول بومن وارد می‌شود. غده فوق کلیه، با ترشح اپی‌نفرین، نور اپی‌نفرین و آلدوسترون موجب افزایش فشارخون و در نتیجه موجب افزایش تراوش (ورود مواد بر اساس اندازه به گردبوزه) می‌شود.

گزینه «۲»: غده فوق کلیه با ترشح اپی‌نفرین و نوراپی‌نفرین نایزک‌ها را در شش‌ها باز می‌کند و جریان هوا را تسهیل می‌کنند. غده فوق کلیه با ترشح اپی‌نفرین و نوراپی‌نفرین، ضربان قلب را افزایش می‌دهد و فاصله دو موج P تا Q را کاهش می‌دهد.

گزینه «۳»: با کم کاری غده لوزالمعده و کاهش ترشح انسولین، همانند وضعیتی که در دیابت شیرین اتفاق می‌افتد، پروتئین‌ها می‌توانند تجزیه شوند و تجزیه پروتئین‌ها،

مقاومت بدن را کاهش می‌دهد و در نتیجه احتمال ایجاد عفونت در قسمت‌هایی از بدن افزایش می‌یابد. هورمون‌های اپی‌نفرین، نوراپی‌نفرین و کورتیزول که از غده فوق کلیه ترشح می‌شوند، در شرایط تنش‌زا مقدار این هورمون‌ها در خون زیاد می‌شود، اما باید دقت کرد هر دو ویژگی باید در مورد یک غده صادق باشد.

(ترکیبی) (زیست‌شناسی ۱، صفحه‌های ۲۲، ۵۴، ۷۰، ۷۴ و ۷۸) (زیست‌شناسی ۲، صفحه‌های ۵۹ و ۶۰)

**۳۴- گزینه «۲»**

(سعید ممدی پازیزی)

گروهی از پیک‌های شیمیایی کوتاه‌برد ناقلین عصبی هستند که از سلول‌های عصبی ترشح می‌شوند و می‌توانند برای مثال بر روی یک سلول عصبی دیگر یا سلول ماهیچه‌ای گیرنده داشته باشند. بررسی سایر گزینه‌ها:

گزینه‌های «۱» و «۳»: دقت کنید که الزاما اینگونه نیست، برای مثال هورمون‌های آزادکننده و مهارکننده ترشح شده از هیپوتالاموس برای رسیدن به هیپوفیز پیشین مسافت کمی را طی می‌کنند. درباره گزینه «۳» هم در نظر داشته باشید که این هورمون‌ها برای رسیدن به یاخته هدف خود از قلب عبور نمی‌کنند و قید اندکی اشتباه است و باید از بسیاری استفاده می‌شود.

گزینه «۴»: پیک‌های شیمیایی کوتاه‌برد که از سلول‌های سفیدخونی آزاد می‌شوند (مثلاً هیستامین) می‌توانند وارد جریان خون شوند.

(تنظیم شیمیایی) (زیست‌شناسی ۲، صفحه‌های ۵۴ تا ۵۸، ۷۰ و ۷۱)

**۳۵- گزینه «۳»**

(نیما بابامیری)

مطابق شکل مجسمه در کتاب درسی، استخوان گیجگاهی دارای سوراخی غیرمرکزی است. بررسی سایر گزینه‌ها:

گزینه «۱» و «۲»: استخوان گونه به استخوان گیجگاهی متصل است و استخوان گیجگاهی هم با استخوان آرواره پایین مفصل متحرک دارد و هم با استخوان پس‌سری. گزینه «۴»: مطابق شکل ۶ صفحه ۴۲ کتاب درسی، درست است.

(رنگار حرکتی) (زیست‌شناسی ۲، صفحه‌های ۱۰، ۲۹، ۳۸ و ۳۹)

**۳۶- گزینه «۲»**

(سیر امیرسین هاشمی)

موارد (الف) و (د) مشخصه هورمون‌های مترشحه از غده تیروئید است. بررسی موارد:

(الف) همه هورمون‌های مترشحه از این غده از یاخته‌های پوششی ترشح می‌شوند. فاصله بین یاخته‌ای در یاخته‌های بافت پوششی اندک است.

(ب) هورمون کلسی‌تونین فقط بر یاخته‌های استخوانی دارای گیرنده است. همه یاخته‌های بدن، یاخته هدف هورمون‌های تیروئیدی محسوب می‌شوند.

(ج) میزان تولید کلسی‌تونین به یه مصرف شده توسط فرد بستگی ندارد.

(د) یاخته‌های استخوانی دارای زوائد سیتوپلاسمی بوده و برای هر سه هورمون مترشحه از تیروئید دارای گیرنده می‌باشند.

(ترکیبی) (زیست‌شناسی ۱، صفحه ۱۵) (زیست‌شناسی ۲، صفحه‌های ۳۹، ۴۰، ۵۸ و ۵۹)

**۳۷- گزینه «۲»**

(فرزاد اسماعیل‌لو)

با توجه به شکل، عضله دو سر بازو توسط دو زردپی، به استخوان کتف متصل است. استخوان کتف، استخوانی پهن در سطح پشتی بدن است. بررسی سایر گزینه‌ها:

گزینه «۱»: با توجه به شکل ۹ صفحه ۴۵ زیست یازدهم، عضله دلتایی همانند دوزنقه‌ای، به استخوان ترقوه متصل است.

گزینه «۲»: با توجه به شکل ۹ صفحه ۴۵ زیست یازدهم، عضلات سینه‌ای به جناغ (استخوانی پهن در جلوی قفسه سینه) متصل هستند. عضله دوزنقه‌ای به جناغ متصل نیست.

گزینه «۴»: با توجه به شکل ۱۰ صفحه ۴۶ کتاب زیست‌شناسی ۲، بالاترین بخش زردپی عضله سه سر بازو به استخوان کتف و بازو متصل است. این استخوان‌ها با استخوان‌های مچ دست مفصل ندارند.

(رنگار حرکتی) (زیست‌شناسی ۲، صفحه‌های ۳۸، ۴۵، ۴۶ و ۴۸)

### ۳۸- گزینه «۳»

در شرایط بی وزنی تراکم استخوان افراد کاهش می‌یابد و پوکی استخوان می‌تواند رخ دهد. بررسی گزینه‌ها:

گزینه «۱»: نادرست؛ تبدیل بافت نرم به بافت سخت استخوانی در دوران جنینی رخ داده و سپس متوقف می‌شود.

گزینه «۲»: نادرست؛ مصرف نوشیدنی‌های الکلی شانس بروز پوکی استخوان را افزایش می‌دهد.

گزینه «۳»: درست؛ در افرادی که تراکم استخوان آن‌ها کم می‌شود استخوان‌ها شکننده می‌شوند و شانس بروز شکستگی‌های ناشی از ضربه بیشتر می‌شود. در صورت بروز این نوع شکستگی، یاخته‌های اطراف محل شکستگی یاخته‌های جدید می‌سازند.

گزینه «۴»: نادرست؛ در پوکی استخوان، تعداد حفره‌های استخوانی کاهش پیدا کرده و اندازه حفره‌ها زیاد می‌شود. (دستگاه حرکتی) (زیست‌شناسی ۲، صفحه‌های ۳۰ و ۳۱)

### ۳۹- گزینه «۳»

غده ای‌فیز بالاترین غده درون ریز بدن در یک فرد سالم است.

این غده در پشت تالاموس‌ها (و رابط بین آن‌ها) می‌باشد و در تنظیم ریتم‌های شبانه روزی دخالت دارد. از آنجا که دستگاه عصبی خودمختار هم همواره فعال است و در زمان‌هایی از شبانه روز فعالیت بخشی کم و بخش دیگر بیش‌تر می‌شود پس در فعالیت آن اثر گذار است.

۱) عملکرد ای‌فیز مشخص است در حالی که عملکرد ملاتونین به خوبی معلوم نیست.

۲) در پشت بطن سوم قرار دارد.

۳) غده ای‌فیز غده درون ریز بدن در یک فرد سالم است.

۴) هورمون‌ها همواره در مقادیر خیلی کم ترشح می‌شوند.

(تنظیم شیمیایی) (زیست‌شناسی ۲، صفحه‌های ۳۴، ۵۵، ۵۶ و ۶۱)

### ۴۰- گزینه «۴»

بررسی گزینه‌ها:

گزینه «۱» نادرست؛ زردپی و رباط بافت پیوندی رشته‌ای دارند که این بافت دارای یاخته‌های کمی می‌باشد.

گزینه «۲» نادرست؛ کپسول مفصلی در محل مفاصل متحرک دیده می‌شود.

گزینه «۳» نادرست؛ پرده سازنده مایع مفصلی در سطح داخلی کپسول مفصلی قرار می‌گیرد.

گزینه «۴» درست؛ کپسول مفصلی دارای بافت پیوندی رشته‌ای می‌باشد که یاخته‌های این بافت دوکی شکل و کشیده می‌باشند.

(تربیتی) (زیست‌شناسی ۱، صفحه‌های ۱۵ و ۱۶) (زیست‌شناسی ۲، صفحه‌های ۳۲ و ۳۳)

### ۴۱- گزینه «۴»

در مجاورت معده پانکراس قرار دارد پانکراس هم بخش برون‌ریز و هم بخش درون‌ریز دارد هورمون گلوکاگون که از بعضی سلول‌های جزایر لانگرهانس ترشح می‌شود می‌تواند با اثر روی کبد و تجزیه گلیکوژن موجب افزایش قند خون شده و انرژی در دسترس سلول‌ها را افزایش دهد. بررسی سایر گزینه‌ها:

گزینه «۱» غده تیروئید در جلوی گردن در زیر حنجره قرار دارد و هورمون‌های تیروئیدی و کلسی‌تونین ترشح می‌کند. هورمون کلسی‌تونین با جلوگیری از برداشت کلسیم از استخوان در تراکم استخوان نقش دارد.

گزینه «۲» بخش قشری غده فوق کلیه با ترشح آلدوسترون و اثر بر کلیه موجب افزایش بازجذب سدیم و آب و افزایش حجم خون می‌شود و در نتیجه افزایش حجم خون، فشار خون افزایش می‌یابد.

گزینه «۳» غده ای‌فیز در بالای برجستگی‌های چهارگانه و در پشت تالاموس واقع است و هورمون ملاتونین ترشح می‌کند که در تنظیم ریتم شبانه‌روزی نقش دارد.

(تربیتی) (زیست‌شناسی ۱، صفحه‌های ۱۳، ۱۸ و ۵۸) (زیست‌شناسی ۲، صفحه‌های ۵۸ تا ۶۱)

### ۴۲- گزینه «۴»

میوگلوبین اولین پروتئینی بود که ساختار آن شناسایی شد. مقدار میوگلوبین در تارهای ماهیچه‌ای کند بیشتر است.

لاکتیک اسید منجر به کاهش میزان pH خون می‌شود. توجه داشته باشید که هم تارهای نوع کند و هم تارهای نوع تند توانایی تولید لاکتیک اسید را دارند ولی مقدار تولید این ماده در تارهای نوع تند بیشتر است. بررسی سایر گزینه‌ها:

گزینه «۱»: در مجاورت تارهای نوع کند میزان مویرگ‌های خونی فراوان‌تری دیده می‌شود.

گزینه «۲»: درصد تارهای ماهیچه‌ای کند در دوندگان ماراتن بیشتر است. تارهای کند بیشتر تنفس هوازی دارند.

گزینه «۳»: درصد تارهای ماهیچه‌ای تند در دوندگان دوی صدمتر بیشتر است. تارهای تند نسبت به تارهای کند میزان CO<sub>2</sub> کمتری تولید می‌کند.

(تربیتی) (زیست‌شناسی ۱، صفحه ۳۳) (زیست‌شناسی ۲، صفحه‌های ۵۰ و ۵۱) (زیست‌شناسی ۳، صفحه ۱۶)

### ۴۳- گزینه «۲»

در تنفس بی‌هوازی نسبت به تنفس هوازی از مواد مغذی مقدار انرژی کمتری آزاد می‌شود. تارهای تند ماهیچه اسکلتی انرژی خود را بیشتر از تنفس بی‌هوازی به دست می‌آورند. میوگلوبین نوعی مولکول زیستی آهن‌دار است که می‌تواند مقداری اکسیژن را ذخیره کنند، مقدار این مولکول‌ها در تارهای تند کمتر است. بررسی سایر گزینه‌ها:

گزینه «۱» سرعت انقباض تارهای ماهیچه‌ای تند نسبت به تارهای کند، بیشتر می‌باشد چون سرعت آزاد شدن یون‌های کلسیم از سینتوپلاسم سلول‌های عضلانی به سینتوپلاسم در تارهای کند کمتر از تارهای تند است. در تارهای کند تعداد میتوکندری بیشتری نسبت به تارهای تند وجود داشته و به همین علت انرژی خود را بیشتر از راه تنفس هوازی به دست می‌آورند. میتوکندری و هسته، اندامک‌های دو غشایی موجود در تارهای ماهیچه‌ای هستند.

گزینه «۳» در تارهای تند تعداد میتوکندری کمتری نسبت به تارهای کند وجود داشته و به همین علت مقادیر انرژی‌های مربوط به زنجیره انتقال الکترون در این تارها کمتر است. تارهای تند سریع انرژی خود را از دست می‌دهند و در مقابل خستگی مقاومت اندکی دارند.

گزینه «۴» سرعت کوتاه کردن سارکومر با کاهش فاصله بین خطوط Z در تارهای ماهیچه‌ای کند، کمتر است. این تارها، بیشتر انرژی خود را به روش هوازی به دست می‌آورند بنابراین به منظور تامین اکسیژن مورد نیاز، در مجاورت رگ‌ها و مویرگ‌های گسترده‌تری قرار دارند.

(تربیتی) (زیست‌شناسی ۱، صفحه‌های ۱۶ و ۱۷) (زیست‌شناسی ۲، صفحه‌های ۴۵ تا ۴۸ و ۵۱)

### ۴۴- گزینه «۳»

استخوان مشخص شده، از مجرای گوش محافظت می‌کند، پس استخوان گیجگاهی است. در میان این استخوان، بخشی از گوش خارجی، و کل گوش میانی و داخلی قرار گرفته است. بررسی گزینه‌ها:

گزینه «۱» نادرست؛ تنها استخوان چکشی باطلاب‌هایی به استخوان گیجگاهی متصل می‌باشد.

گزینه «۲» نادرست؛ تمام استخوان‌های بدن دارای بافت استخوانی اسفنجی می‌باشند.

گزینه «۳» درست؛ همه استخوان‌های بدن دارای بافت استخوانی فشرده و تیغه‌های استخوانی می‌باشند.

گزینه «۴» نادرست؛ استخوان گیجگاهی از استخوان‌های جمجمه می‌باشند. این استخوان‌ها در محافظت از مغز نقش مهمی دارند.

(دستگاه حرکتی) (زیست‌شناسی ۲، صفحه‌های ۲۹، ۳۸ تا ۴۲)

### ۴۵- گزینه «۱»

غده تیروئید و پاراتیروئید در مجاورت حنجره قرار دارند و با توجه به شکل ۹ صفحه ۵۹ کتاب زیست‌شناسی ۲ گزینه «۱» صحیح است. بررسی سایر گزینه‌ها:

گزینه «۲»: هورمون‌ها روی یاخته هدف گیرنده دارند نه ماده زمینه‌ای.

گزینه «۳»: تیموس در تمایز لنفوسیت‌ها نقش دارد. (نه تولید)؛ در ضمن در مجاورت حنجره هم قرار ندارد.

گزینه «۴»: غده فوق کلیه در مجاورت حنجره قرار ندارد.

(تنظیم شیمیایی) (زیست‌شناسی ۲، صفحه‌های ۵۸، ۵۹ و ۶۱)

(زیست‌شناسی ۲، صفحه‌های ۵۸، ۵۹ و ۶۱)

## ۴۶- گزینه ۴»

(مهم، رضا مرمتیان)

زنبور (حشرات) از فرومون‌ها برای هشدار خطر حضور شکارچی استفاده می‌کنند که اسکلت بیرونی آنها مانع از بیشتر شدن اندازه بدن از حد خاصی می‌شوند. بررسی سایر گزینه‌ها: گزینه ۱: شیوه حرکت در جانوران بسیار متنوع است. گزینه ۲: جنس اسکلت کوسه ماهی و سفره ماهی‌ها از غضروف است. گزینه ۳: سفره ماهی‌ها اسکلت درونی غضروفی دارند ویژگی عنوان شده برای اسکلت آب ایستایی است. (تنظیم شیمیایی) (زیست‌شناسی ۲، صفحه‌های ۵۲ و ۶۲)

## ۴۷- گزینه ۴»

(سبوع بزرگی نیا)

دستگاه حرکتی، دستگاهی است که باعث وقوع عمده حرکات بدن می‌شود. مهندسان علاوه بر بررسی و مطالعه دقیق ساختار مفاصل، ماهیچه‌ها و استخوان‌ها، نیازمند به کارگیری علوم مربوطه مواد و الکترونیک هم هستند! پس مطالعه ساختارهای بدن به تنهایی، نمی‌تواند منجر به تولید اندام‌های پیچیده‌ای شود که جایگزین بخش‌های آسیب دیده یا ناقص در بدن انسان شوند. بررسی سایر گزینه‌ها: گزینه ۱: استخوان، یکی از انواع بافت پیوندی است که از قضا بخشی از اسکلت انسان هم محسوب می‌شود. گزینه ۲: مطالعه ساختار ماهیچه‌ها، مفاصل و استخوان‌ها، می‌تواند موجب تولید اندام‌های پیچیده توسط مهندسان شود. اما طبق شکل کتاب درسی و متن آن، ماهیچه‌ها جزئی از اسکلت انسان نیستند! نکته: استخوان‌ها و ماهیچه‌ها، هر دو جزئی از دستگاه حرکتی انسان هستند. گزینه ۳: طبق متن کتاب درسی، تنها بعضی از اندام‌های مصنوعی (نه اغلب آنها)، کارآمدی بالایی دارند؛ به گونه‌ای که برای جلوگیری از رقابت ناعادلانه در پارالمپیک، قوانین سخت گیرانه‌ای برای استفاده از آنها وضع می‌شود.

(دستگاه حرکتی) (زیست‌شناسی ۲، صفحه‌های ۳۷ و ۳۸)

## ۴۸- گزینه ۱»

(نیولوفر شریبانیان)

با اتصال یک مولکول ATP به سر میوزین، این مولکول از اکتین جدا می‌شود و پل اتصالی میان اکتین و میوزین شکسته می‌شود. بررسی سایر گزینه‌ها: گزینه ۲: طول بخش تیره وسط سارکومر ثابت است. گزینه ۳: با توقف ارسال پیام عصبی یون‌های کلسیم به سرعت با انتقال فعال به شبکه آندوپلاسمی باز می‌گردند.

گزینه ۴: در محل مفاصل ثابت، انقباض ماهیچه‌های متصل به آنها منجر به جابه‌جایی استخوان نمی‌شود. در ضمن برخی از ماهیچه‌های اسکلتی به استخوان متصل نیستند.

(دستگاه حرکتی) (زیست‌شناسی ۲، صفحه‌های ۴۵ و ۴۷ تا ۵۰)

## ۴۹- گزینه ۴»

(نیما شکورزاده)

غدد تیروئید و پاراتیروئید در نزدیکی حنجره قرار دارند. حنجره محل قرارگیری پرده‌های صوتی است. دقت کنید که غده تیروئید منفرد است اما در صورت سوال به چهار غده هم اشاره شده که می‌توانند غدد پاراتیروئید باشند. کاهش این هورمون موجب کاهش کلسیم در خوناب شده و در نتیجه، انقباض ماهیچه‌ها مختل می‌گردد چرا که ماهیچه‌ها به منظور انقباض به کلسیم نیاز دارند. انعقاد خون وابسته به کلسیم در خوناب است؛ در نتیجه کاهش کلسیم خوناب فاکتورهای انعقادی به درستی کار نخواهند کرد. بررسی سایر گزینه‌ها:

گزینه ۱: با ترشح هورمون پاراتیروئیدی جذب کلسیم از روده افزایش می‌یابد و در نتیجه غلظت کلسیم در مدفوع کاهش می‌یابد.

گزینه ۲: هورمون پاراتیروئیدی با جذب کلسیم از ادرار را افزایش می‌دهد و در نتیجه موجب کاهش غلظت کلسیم در ادرار می‌گردد.

گزینه ۳: در طی کاهش ترشح هورمون پاراتیروئیدی، میزان کلسیم ماده زمینه‌ای استخوان افزایش یافته و بنابراین احتمال بروز علائم پوکی استخوان کاهش می‌یابد. همچنین با کاهش یافتن این هورمون، تغییر شکل ویتامین D نیز کاهش می‌یابد.

(تربیی) (زیست‌شناسی ۱، صفحه ۶۴) (زیست‌شناسی ۲، صفحه‌های ۵۸ و ۵۹)

## ۵۰- گزینه ۴»

(نیما شکورزاده)

غده هیپوفیز با ساقه‌ای به هیپوتالاموس متصل است. این غده درون یک گودی، در استخوانی از کف جمجمه جای دارد. بخش پسین این غده هیچ هورمونی نمی‌سازد، بلکه هورمون‌هایی را که در یاخته‌های عصبی هیپوتالاموس تولید می‌شود را ذخیره و در هنگام لزوم به جریان خون وارد می‌کند. همچنین بخش مرکزی غده فوق کلیه ساختار عصبی دارد و هورمون‌های اپی نفرین و نوراپی نفرین را که توسط این یاخته‌های عصبی تولید می‌شوند را به جریان خون وارد می‌کند. بررسی سایر گزینه‌ها:

گزینه ۱: غده لوزالمعده هورمون انسولین را ترشح می‌کند که با تحریک ورود گلوکز به یاخته‌ها، موجب کاهش غلظت قند خون می‌شود. اما غده هیپوفیز هورمونی با چنین عملکردی را تولید و ترشح نمی‌کند.

گزینه ۲: هورمون پرولاکتین یکی از هورمون‌هایی است که از بخش پیشین غده هیپوفیز ترشح می‌شود. امروزه شواهد روزافزونی مبنی بر نقش این هورمون در دستگاه ایمنی به دست آمده است.

گزینه ۳: غده هیپوتالاموس با ترشح هورمون‌های آزاد کننده و مهارکننده نقش مهمی در تنظیم ترشح سایر غده‌ها برعهده دارد. هم‌چنین غده هیپوفیز با ترشح هورمون‌های محرک تیروئید، محرک فوق کلیه و محرک غده‌های جنسی می‌تواند در تنظیم ترشح غده‌های دیگر نقش داشته باشد.

(تنظیم شیمیایی) (زیست‌شناسی ۲، صفحه‌های ۵۶ تا ۶۱)

## ۵۱- گزینه ۴»

(مهم رضائیان)

در سطح خارجی یا بیرونی تنه استخوان دراز بافت متراکم و در سطح درونی آن بافت اسفنجی مشاهده می‌شود. در گزینه «۴» دقت کنید هر چند در ساختار ماده زمینه‌ای استخوان، انواع پروتئین‌ها وجود دارند، اما پروتئین کلاژن بخشی از ماده زمینه‌ای در نظر گرفته نمی‌شود. بررسی سایر گزینه‌ها:

گزینه ۱: سامانه‌های هاورس در بافت متراکم این گونه هستند.

گزینه ۲: این مورد توصیف بافت استخوانی اسفنجی در بخش درونی تنه استخوان دراز است.

گزینه ۳: بافت‌های پیوندی به طور معمول دارای فضاهای بین سلولی زیادی هستند. اما براساس تصویر کتاب و تست اول کنکور ۱۴۰۰، در بافت پیوندی دو لایه که تنه استخوان را پوشانده، این یاخته‌ها پهن و نزدیک به هم هستند.

(تربیی) (زیست‌شناسی ۱، صفحه‌های ۱۵ و ۱۶) (زیست‌شناسی ۲، صفحه‌های ۳۹ و ۴۰)

## ۵۲- گزینه ۴»

(مهم رضائیان)

همه موارد مطرح شده درست هستند. تصویر معرفی شده مربوط به یک مهره بوده و سطح دارای زائده آن (بخش ۱)، همان سطح پشتی مهره است. بررسی موارد:

موارد «الف» و «ب»: بخش ۱ سطح پشتی و بخش ۲ سطح شکمی مهره است. از درون سوراخ مرکزی، نخاع عبور می‌کند. ریشه ورودی به سطح پشتی، همان ریشه حسی عصب نخاعی است که به زائده مهره نزدیکتر است. سطح وسیع در بخش ۲ همان قسمتی است که در جلوی نخاع قرار می‌گیرد.

موارد «ج» و «د»: مهره‌ها استخوان‌هایی نامنظم بوده و دقت کنید در ساختار همه استخوان‌ها انواع بافت فشرده و اسفنجی دیده می‌شود.

(دستگاه حرکتی) (زیست‌شناسی ۲، صفحه‌های ۱۵، ۳۹ و ۴۰) (۳۳)

## ۵۳- گزینه ۱»

(مهم رضائیان)

همه موارد با توجه به شکل اسکلت انسان در صفحه ۳۸ کتاب زیست‌شناسی ۲ قابل بررسی هستند. در مفصل آرنج سر بزرگتر استخوان زند زیرین شرکت کرده و استخوان زند زیرین دخالت کمتری در این مفصل دارد. در مفصل مچ دست، این وضعیت برعکس است. بررسی سایر گزینه‌ها:

گزینه ۲: منظور استخوان ترقوه (بالای سیاهرگ زیر ترقوه‌ای) است که مانند کتف و لگن متعلق به اسکلت جانبی است.

گزینه ۳: یک نیم لگن، با آخرین و بزرگ‌ترین مهره، استخوان ران و نیم لگن دیگر در مفصل است.





(مفید راهواره)

**۵۷- گزینه ۴»**

افزایش شاخص توده بدنی و کاهش هورمون پاراتیروئیدی سبب کاهش پوکی استخوان و جلوگیری از کاهش تعداد حفرات موجود در بافت استخوانی می‌شود. (در طی پوکی استخوان، حفرات کوچک موجود در بافت استخوانی به هم پیوسته و حفرات بزرگ اما با تعداد کم‌تر ایجاد می‌کنند.)

۲) مغز نوجوانان در حال رشد است بنابراین مواد اعتیاد آور بر روی آن اثر بیش‌تری دارند، این عبارت در فصل اول یازدهم بود و با استناد به آن و این‌که هورمون‌های تیروئیدی در همه سلول‌های زنده گیرنده دارند می‌توان گفت در صورت کمبود آن رشد مغز در نوجوانان کم می‌شود

۳) بعضی از مواد غذایی مانع از جذب ید می‌شوند لذا با وجود ید کافی هم ممکن است گواتر ایجاد شود.

۴) بر اساس متن کتاب درسی اگر ید در غذا به مقدار کافی نباشد، آن‌گاه هورمون تیروئیدی (نه هورمون‌های تیروئیدی) به اندازه کافی ساخته نمی‌شود.

(ترکیبی) (زیست‌شناسی ۱، صفحه ۲۸) (زیست‌شناسی ۲، صفحه‌های ۱۲، ۱۳، ۱۴، ۱۵، ۱۶ و ۱۷)

**۵۸- گزینه ۳»**

(مفید یار سعادت نیما)

بخش اعظم تنه استخوان ران (استخوان‌های دراز) دارای بافت استخوانی متراکم است که مجاری هاورس متعددی دارد. بررسی سایر گزینه‌ها  
گزینه ۱: بافت متراکم استخوان‌های دراز فاقد مغز قرمز استخوان است.  
گزینه ۲: فضای بین سلولی بافت استخوانی زیاد است زیرا این بافت نوعی بافت پیوندی می‌باشد.

گزینه ۴: سلول‌های بافت استخوانی متراکم منظم و به صورت دایره‌های متحدالمرکز در کنار یکدیگر قرار گرفته‌اند.

(رسنگاه حرکتی) (زیست‌شناسی ۲، صفحه‌های ۳۹ و ۴۰)

**۵۹- گزینه ۱»**

(مفید قاسمی)

هر چهار مورد صحیح هستند.

مورد «الف»: با توجه به شکل ۹ صفحه ۴۵ فصل ۳ زیست‌شناسی یازدهم، ماهیچه دلتایی ناحیه ترقوه (استخوان دراز)، کتف (استخوان پهن) و ابتدای بازو (استخوان دراز) را می‌پوشاند و در نزدیکی ماهیچه سه سر بازو قرار دارد، ماهیچه دلتایی استخوان‌های ترقوه و کتف را به بازو وصل می‌کند.

موارد «ب»، «ج» و «د»: با توجه به شکل ۱ در صفحه ۳۸ و شکل ۹ در صفحه ۴۵ زیست‌شناسی یازدهم درست هستند.

(رسنگاه حرکتی) (زیست‌شناسی ۲، صفحه‌های ۳۸، ۳۹، ۴۰ و ۴۱)

**۶۰- گزینه ۲»**

(مفید مهندهی بایزندی)

با کاهش هورمون ضد ادراری، آب بدن از طریق کلیه‌ها به مقدار بیشتر از نیاز دفع می‌شود و در نتیجه آب موجود در خون کم می‌شود و غلظت یون‌های خنوب افزایش پیدا می‌کند. بررسی سایر گزینه‌ها:

گزینه ۱: دقت داشته باشید که در یک فرد ۲۷ ساله صفحات رشد بسته شده‌اند و هورمون رشد دیگر بر آن‌ها اثری ندارد.

گزینه ۳: هورمون پرولاکتین در مردان فرآیندهای مربوط به دستگاه تولیدمثل را تنظیم می‌کند نه در زنان!

گزینه ۴: هورمون اکسی توسین از بخش پسین هیپوفیز ترشح می‌شود و هورمون آزادکننده با آن ارتباطی ندارد.

(ترکیبی)

(زیست‌شناسی ۱، صفحه‌های ۵۸، ۶۱، ۷۰ و ۷۵) (زیست‌شناسی ۲، صفحه‌های ۵۶، ۵۸، ۶۱ و ۶۲)

گزینه ۴» اشاره به استخوان جناغ دارد که طبق شکل صفحه ۴۰ کتاب زیست‌شناسی ۱ زائده پایینی آن باریک است.

(ترکیبی) (زیست‌شناسی ۱، صفحه‌های ۴۰، ۵۹ و ۶۰) (زیست‌شناسی ۲، صفحه‌های ۳۸ و ۳۹)

**۵۴- گزینه ۲»**

(سیر پوریا ظاهریان)

با توجه به توضیحات، بخش A هیپوفیز و B هیپوتالاموس است.

هیپوفیز خود از سه بخش تشکیل شده است که با توجه به شکل، بخش پیشین آن بزرگتر بوده و مجاورت بیش‌تری با پرده مننژ دارد و بخش میانی کوچک‌ترین بخش آن است. بنابراین قسمت‌های شماره گذاری شده عبارت‌اند از: ۱- بخش میانی ۲- بخش پسین و ۳- بخش پیشین

آکسون‌های موجود در ساقهٔ اتصال هیپوتالاموس به هیپوفیز، وارد هیپوفیز پسین می‌شوند. بررسی سایر گزینه‌ها:

گزینه ۱: عملکرد بخش میانی در انسان به خوبی شناخته نشده است. موردی که در این گزینه ذکر شده است مربوط به اپی‌فیز است، نه هیپوفیز!

گزینه ۲: هیپوفیز پسین یاختهٔ درون‌ریز متعلق به خود ندارد و هورمون نمی‌سازد. هورمون‌های مترشحه از این بخش در هیپوتالاموس تولید شده‌اند. یکی از این هورمون‌ها، ضداداراری است که با اثر بر کلیه‌ها منجر به بازجذب آب و رقیق شدن خون می‌شود.

گزینه ۴: بخش پیشین نسبت به بخش میانی و پسین، به لوب‌های بویایی (محل تشکیل سیناپس گیرنده‌های بویایی) نزدیک‌تر است.

(تنظیم شیمیایی) (زیست‌شناسی ۲، صفحه‌های ۹، ۱۱، ۱۲، ۱۳، ۱۴، ۱۵ تا ۱۶ و ۱۷)

**۵۵- گزینه ۲»**

(سیر پوریا ظاهریان)

مطابق با شکل کتاب درسی، غده‌های جنسی (بیضه یا تخمدان) در سطح پایین‌تری نسبت به سایر غده‌ها قرار گرفته‌اند. گیرنده هورمون‌های محرک جنسی (LH و FSH) مترشحه از هیپوفیز پیشین، در غده‌های جنسی قرار دارد. بررسی سایر گزینه‌ها:

گزینه ۱: غده اپی‌فیز نسبت به سایر غده‌ها در سطح بالاتری قرار دارد. غده اپی‌فیز، نقشی در تنظیم ترشحات غده‌های فوق کلیه (مستقر بر روی کلیه) ندارد.

گزینه ۳: کلیه‌ها، اندام‌های لوبیایی در پشت محوطه شکمی هستند. پانکراس در حد فاصل کلیه‌ها قرار گرفته است. یاخته‌های برون‌ریز پانکراس، بیکربنات و آنزیم‌های گوارشی، ترشح می‌کنند.

گزینه ۴: غده تیموس در قفسه سینه و همسطح با محل اتصال بزرگ سیاهرگ زبرین به قلب قرار دارد. هورمون‌های تیروئیدی در همه یاخته‌های زنده بدن، گیرنده دارند؛ اما هورمون‌های تیروئیدی از غده تیروئید ترشح می‌شوند.

(ترکیبی) (زیست‌شناسی ۱، صفحه‌های ۲۳ و ۶۰) (زیست‌شناسی ۲، صفحه‌های ۵۵ تا ۶۱)

**۵۶- گزینه ۴»**

(سعید شرفی)

در انعکاس عقب کشیدن دست، ۳ سیناپس فعال و تحریکی برای انقباض ماهیچهٔ دو سر بازو نیاز است اما برای دور کردن دست، باید ماهیچهٔ سه سر بازو مهار شود که برای این کار، دو سیناپس فعال دیگر نیز تشکیل می‌شود که جمعاً ۵ تا سیناپس فعال را شامل می‌شود. براساس شکل ۱۲ فصل ۳ زیست یازدهم، ماهیچهٔ سه سر بازو از طریق یک زردپی به استخوان زند زیرین متصل است. بررسی سایر گزینه‌ها:

گزینه ۱: ماهیچهٔ دو سر بازو از طریق یک عدد زردپی به استخوان زند زیرین متصل است.

گزینه ۲: تارچه درون یاخته یا همان تار ماهیچه‌ای قرار دارد؛ و ناقل عصبی به درون تار و تارچه وارد نمی‌شود. ماهیچه‌های اسکلتی براساس خط کتاب درسی، با افزایش کاهش طول خود در حفظ شکل، حالت بدن و ایجاد حرارت در بدن نقش دارند.

گزینه ۳: ماهیچهٔ دو سر بازو از طریق دو زردپی (یک جفت) به استخوان کتف که با استخوان ترقوه مفصل دارد، متصل می‌شود. ماهیچهٔ سه سر بازو هم به استخوان بازو، زند زیرین و هم به استخوان کتف متصل است که همگی جزو استخوان‌های اسکلت جانبی هستند.

(رسنگاه حرکتی) (زیست‌شناسی ۲، صفحه‌های ۷، ۱۶، ۳۸ و ۴۵ تا ۴۸)

همه هورمون های فصل ۴

نام هورمون	محل تولید	محل انتشار	عملکرد (اثر)
آزادکننده	هیپوتالاموس	هیپوتالاموس	کاهش و توقف ترشح هورمون از بخش پیشین غده هیپوفیز
مهارکننده	هیپوتالاموس	هیپوتالاموس	ترشح بیشتر هورمون از بخش پیشین هیپوفیز
هورمون رشد	هیپوفیز پیشین	هیپوفیز پیشین	رشد استخوانها در محل صفحات رشد
پرولاکتین	هیپوفیز پیشین	هیپوفیز پیشین	تنظیم آب - تولید شیر تنظیم فعالیت‌های دستگاه تولیدمثلی مردان
محرک تیروئید	هیپوفیز پیشین	هیپوفیز پیشین	تحریک هورمون‌های «تیروئیدی» غده تیروئید
محرک فوق کلیه	هیپوفیز پیشین	هیپوفیز پیشین	تحریک بخش قشری غده فوق کلیه
FSH	هیپوفیز پیشین	هیپوفیز پیشین	رشد فولیکول‌ها
LH	هیپوفیز پیشین	هیپوفیز پیشین	بینابینی ← تستوسترون بیشتر، تغذیه جسم زرد و رشد جسم زرد
ضدادارار	هیپوتالاموس	هیپوفیز پسین	بازجذب آب از کلیه‌ها
اکسی توسین	هیپوتالاموس	هیپوفیز پسین	انقباض بیشتر ماهیچه‌های ناحیه سینه و رحم در زنان
تیروئیدی (T <sub>4</sub> , T <sub>3</sub> )	غده تیروئید	غده تیروئید	(۱) T <sub>4</sub> و T <sub>3</sub> ← همه یاخته‌ها تأمین انرژی در دسترس (۲) T <sub>3</sub> جنینی و کودکی ← نمو دستگاه عصبی مرکزی
کلسی‌تونین	غده تیروئید	غده تیروئید	از برداشت Ca از استخوان جلوگیری می‌کند.
پاراتیروئیدی	غده پاراتیروئیدی	غده پاراتیروئیدی	(۱) Ca را کلیه از استخوان آزاد می‌کند. (۲) اثر بر D vit و جذب Ca از روده ↑ (۳) بازجذب Ca در کلیه ↑
اپی‌نفرین و نوراپی‌نفرین	بخش مرکزی غده فوق کلیه	بخش مرکزی غده فوق کلیه	ضربان قلب فشار خون گلوکز خوناب ↑ ناپژک‌ها را باز می‌کند. تنش‌های کوتاه‌مدت
کورتیزول	بخش غشری غدد فوق کلیه	غده تیروئید	در تنش‌های طولانی مدت لیتیم ایمنی را تضعیف می‌کند.
آلدسترون	بخش غشری غده فوق کلیه	بخش غشری غدد فوق کلیه	بازجذب سدیم و همراه سدیم بازجذب آب (یعنی به‌طور مستقیم آب را بازجذب نمی‌کند).
تسترون	بخش قشری غده فوق کلیه + بیضه (مردان)	بخش غشری غدد فوق کلیه + (بیضه مردان)	رشد اندام‌های جنسی - زامه‌زایی - صفات ثانویه در مردان - (بم شدن صدا - رشد مو، ماهیچه و استخوان)
استروژن	بخش قشری غده فوق کلیه + تخمدان (زنان)	بخش غشری غدد فوق کلیه + (تخمدان زنان)	رشد دیواره داخلی رحم
پروژسترون	فوق کلیه / تخمدان (زنان)	بخش غشری غدد فوق کلیه + (تخمدان زنان)	رشد دیواره داخلی رحم
گلوکاگون	جزایر لانگرهانس لوزالمعده	جزایر لانگرهانس لوزالمعده	تجزیه گلیکوژن (ماهیچه و کبد) قند خون ↑
انسولین	جزایر لانگرهانس لوزالمعده	جزایر لانگرهانس لوزالمعده	ورود قند خون به داخل یاخته‌ها - تأمین انرژی یاخته - قند خون ↑
ملاتونین	غده اپی‌فیز	غده اپی‌فیز	(احتمالاً) تنظیم ریتم‌های شبانه‌روزی
تیموسین	غده تیموس	غده تیموس	تمايز لنفوسیت‌ها

### تار تند و تار کند

تار کند	تار تند	
✓	✓	تأمین انرژی با گلوکز
✓ (کمتر)	✓ (بیشتر)	تأمین انرژی کراتین فسفات
✓ (بیشتر)	✓ (کمتر)	تأمین اسید چرب
✓ (کمتر)	✓ (بیشتر)	تأمین بی‌هوازی ATP
بیشتر	کمتر	تعداد میتوکندری
گسترده‌تر	گسترده‌گی کمتر	شبکه مویرگی
دیر	سریع	سرعت خستگی
کند	سریع	سرعت انتشار $Ca^{2+}$
سریع	سریع	سرعت باز جذب $Ca^{2+}$
✓	×	ارزش‌های استقامتی (دوی ماراتن و شنا)
×	✓	ورزش‌های سرعتی (دوی صدمتر) (وزنه‌بردار)

### بافت استخوان

بافت استخوانی متراکم	بافت استخوانی اسفنجی	
✓	✓	موجود در هر نوع استخوان
×	✓	مجاورت مجرای مرکزی
✓	✓	یاخته‌های منشعب
×	✓	میله‌ها و صفحه‌های استخوانی نامنظم
✓	✓ (سلیقه)	اعصاب و رگ
✓	×	دوایرهای هم‌مرکز
✓	×	مجاری مرتبط با یکدیگر
✓	×	تماس مستقیم با بافت پیوندی دو لایه
×	✓	مجاورت با مغز قرمز استخوان
✓	✓	یاخته‌هایی خارج از مجاری هاورس

### مفصل‌ها

(۱) جمجه H ستون مهره
(۲) جناغ H ترقوه H کتف
(۳) ترقوه H کتف H بازو
(۴) جناغ H دنده H ستون مهره (به جز ۱۱ و ۱۲)
(۵) کتف H بازو H زند زبرین + زند زیرین
(۶) بازو H زند زبرین + زند زیرین H مچ دست H کف دست H انگشتان
(۷) ستون مهره H نیم‌لگن H نیم‌لگن مجاور H ران پا H درشتنی H نازکنی (در دو سر خود با درشتنی مفصل دارد.
(۸) درشتنی H مچ پا H کف پا H انگشتان
(۹) کشکک H ران پا (شاید در نظر بگیرن)

H محل مفصل هاست.

فیزیک ۳ - پیشروی نورمال

۶۱- گزینه «۲»

(مصطفی واقفی)

تندی ذره M بیشینه است  $(v'_{max} = A\omega)$  و جهت حرکت آن خلاف جهت انتشار موج است. پس در خلاف جهت محور Y است.

$$v = \sqrt{\frac{F}{\rho A}} = \sqrt{\frac{4/8}{4000 \times 0.75 \times 10^{-6}}} = 40 \frac{m}{s}$$

$$\text{طبق نقش موج} \rightarrow \frac{3}{2}\lambda = 150 \text{ cm} \Rightarrow \lambda = 100 \text{ cm} = 1 \text{ m}$$

$$\text{بسامد} \rightarrow f = \frac{v}{\lambda} = \frac{40}{1} = 40 \text{ Hz}$$

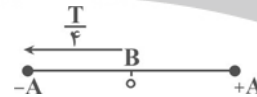
$$M \text{ تندی بیشینه ذره} \Rightarrow v'_{max} = A \omega = 2 \times 2\pi \times 40 = 160\pi \frac{cm}{s}$$

(نوسان و امواج) (فیزیک ۳، صفحه‌های ۶۲ تا ۶۸)

۶۲- گزینه «۱»

(مصطفی واقفی)

بررسی «الف»: اگر جهت انتشار موج در خلاف محور X باشد ذره B به سمت پایین حرکت می‌کند و بدون تغییر جهت به مکان -A می‌رسد. و این حرکت  $\frac{T}{4}$  طول می‌کشد.



$$\frac{T}{4} = 0/15 \Rightarrow T = 0/6 \text{ s}$$

«الف» صحیح است.

بررسی «ب» و «پ»: اگر جهت انتشار در جهت محور X باشد ذره B به سمت بالا حرکت می‌کند. و پس از گذشت  $\frac{3T}{4}$  و با یکبار تغییر جهت به -A می‌رسد و در این حالت پیشروی موج برابر  $\frac{3}{4}\lambda$  است.



$$\frac{3T}{4} = 0/15 \Rightarrow T = 0/2 \text{ s} \Rightarrow f = \frac{1}{T} = \frac{1}{0/2} = 5 \text{ Hz}$$

«ب» و «پ» غلط هستند.

(نوسان و امواج) (فیزیک ۳، صفحه‌های ۶۲ تا ۶۸)

۶۳- گزینه «۲»

(امیر مرادی پور)

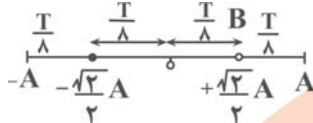
با توجه به اینکه ذرات B و C، حرکت هماهنگ ساده انجام می‌دهند و شتاب نوسانگر از رابطه  $a = -\omega^2 x$  به دست می‌آید، چون بسامد زاویه‌ای برای هر دو ذره یکسان است، نسبت شتاب‌ها در واقع همان نسبت مکان‌ها می‌شود. پس کافیسیت پاره‌خط نوسان را برای هر دو ذره رسم کنیم و بفهمیم  $\frac{1}{200} \text{ s}$  چه نسبتی از دوره است.

$$\lambda + \frac{3\lambda}{4} = 7\frac{\lambda}{4} = 35 \Rightarrow \lambda = 20 \text{ cm}$$

$$\lambda = Tv \rightarrow T = \frac{\lambda}{v} = \frac{0/2}{10} = \frac{2}{100} \text{ s}$$

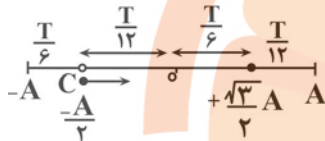
$$\frac{t_1}{T} = \frac{200}{2} = \frac{1}{4} \rightarrow t_1 = \frac{T}{4}$$

با توجه به جهت انتشار موج، ذره B در حال پایین آمدن (نزدیک شدن به مرکز) و ذره C در حال بالا رفتن (نزدیک شدن به مرکز) می‌باشد.



$$\frac{T}{4} = \frac{T}{8} + ? \Rightarrow ? = \frac{T}{4} - \frac{T}{8} = \frac{T}{8}$$

پس در لحظه  $t_1 = \frac{T}{4}$ ، ذره B در مکان  $-\frac{\sqrt{2}}{2}A$  قرار می‌گیرد.



$$t_1 = \frac{T}{4} = \frac{T}{12} + t_2 \Rightarrow$$

$$t_2 = \frac{T}{4} - \frac{T}{12} = \frac{T}{6}$$

پس ذره C در لحظه  $t_1 = \frac{T}{4}$  در مکان  $+\frac{\sqrt{3}}{2}A$  قرار می‌گیرد.

$$\frac{|a_B|}{|a_C|} = \frac{x_B}{x_C} = \frac{|-\frac{\sqrt{2}}{2}A|}{|\frac{\sqrt{3}}{2}A|} = \sqrt{\frac{2}{3}}$$

(نوسان و امواج) (فیزیک ۳، صفحه‌های ۶۳ تا ۶۵)

۶۴- گزینه «۳»

(امیر مرادی پور)

با توجه به اینکه حرکت موج به صورت یکنواخت است، می‌توانیم از  $\Delta x = vt$  کمک بگیریم:

$$t = \frac{\Delta x}{v} \rightarrow \frac{t_2}{t_1} = \frac{\Delta x_2}{\Delta x_1} \times \frac{v_1}{v_2} \quad \Delta x = L \rightarrow \frac{t_2}{t_1} = \frac{L_2}{L_1} \times \frac{v_1}{v_2}$$

$$F_2 = F_1 + 0/96F_1 = 1/96F_1, r_2 = r_1 - 0/4r_1 = 0/6r_1$$

$$v = \sqrt{\frac{F}{\mu}} = \sqrt{\frac{F}{\rho A}} \quad \frac{\rho_1 = \rho_2}{A = \pi r^2} \rightarrow \frac{A_2}{A_1} = \left(\frac{r_2}{r_1}\right)^2 = (0/6)^2 = 0/36$$

$$\frac{v_1}{v_2} = \sqrt{\frac{F_1}{F_2} \times \frac{A_2}{A_1}} = \sqrt{\frac{F_1}{1/96F_1} \times 0/36} = \frac{0/6}{1/4} = \frac{6}{2} = 3$$

چون سیم را کشیده‌ایم حجم آن  $V = AL$  (تغییری نمی‌کند).

$$A_1 L_1 = A_2 L_2 \rightarrow \frac{L_2}{L_1} = \frac{A_1}{A_2} = \frac{1}{0/36} = \frac{100}{36} = \frac{25}{9}$$

$$\frac{t_2}{t_1} = \frac{25}{9} \times \frac{3}{2} = \frac{25}{6}$$

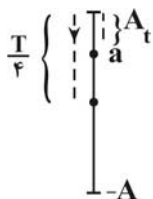
(نوسان و امواج) (فیزیک ۳، صفحه‌های ۶۳ و ۶۵)

۶۵- گزینه «۲»

(امیر مرادی پور)

همه موارد به جز مورد «ب» درست است.

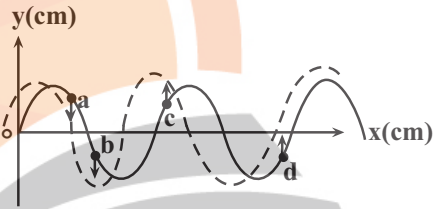
تمامی ذرات موج حرکت هماهنگ ساده انجام می‌دهند و به همراه موج منتقل نمی‌شوند. برای اینکه جهت حرکت ذره a و در نتیجه جهت انتشار موج را بیابیم باید یک پاره‌خط نوسان برای ذره a رسم کنیم: اگر ذره a در حال بالا رفتن باشد در





لحظه  $\frac{T}{4}$  مکان آن منفی نمی‌شود چون مدت زمان رسیدن  $a$  به مرکز نوسان  $x=0$  برابر  $\frac{T}{4} > t + \frac{T}{4}$  می‌باشد، که برای منفی شدن مکان آن به زمان بیشتری نیاز است؛ پس ذره  $a$  قطعاً در حال پایین آمدن است و در نتیجه می‌توان گفت جهت انتشار موج به سمت چپ می‌باشد.

پس  $b$  در حال پایین رفتن است و  $c$  و  $d$  در حال بالا رفتن می‌باشند. الف)  $a$  پایین آمده و به مرکز  $v = v_{max}$  (نزدیک می‌شود پس انرژی جنبشی آن زیاد می‌شود. ب)  $c$  بالا رفته و به انتهای پاره‌خط نوسان که در آنجا  $a = a_{max}$  است نزدیک می‌شود؛ یعنی  $|a_c|$  در حال افزایش است.



ب)  $b$  پایین آمده و به نقطه‌ای که  $v=0$  است نزدیک می‌شود پس حرکتش کندشونده است. ت) جهت حرکت  $c$  و  $d$  به سمت بالا بوده پس بردار سرعت آن‌ها هم جهت است. (نوسان و امواج) (فیزیک ۳، صفحه‌های ۶۴ و ۶۵)

۶۶- گزینه «۱»

ابتدا با توجه به قاعده دست راست جهت میدان الکتریکی را پیدا می‌کنیم که با شرایط موجود در سوال، جهت  $\vec{E}$  باید در جهت محور  $X$  باشد و چون میدان‌های الکتریکی و مغناطیسی در امواج الکترومغناطیسی همگام تغییر می‌کنند؛ پس میدان الکتریکی نیز باید در حال کاهش باشد. (نوسان و امواج) (فیزیک ۳، صفحه‌های ۶۴ تا ۶۸)

۶۷- گزینه «۴»

اگر طول آنتن برابر  $L$  باشد می‌توان گفت:  $L = \frac{\lambda}{4}$  و از طرفی طبق رابطه  $\lambda = \frac{c}{f}$  می‌توان گفت:

$$\lambda_1 = \frac{c}{f_1} \quad f_1 = 50.0 \text{ MHz} \rightarrow \lambda_1 = \frac{3 \times 10^8}{50.0 \times 10^6} = \frac{3}{5} \text{ m} = 60 \text{ cm}$$

$$L_1 = \frac{\lambda_1}{4} = \frac{60 \text{ cm}}{4} = 15 \text{ cm}$$

$$\lambda_2 = \frac{c}{f_2} \quad f_2 = 2/5 \text{ GHz} \rightarrow \lambda_2 = \frac{3 \times 10^8}{2/5 \times 10^9} = 0/12 \text{ m} = 12 \text{ cm}$$

$$L_2 = \frac{\lambda_2}{4} = \frac{12 \text{ cm}}{4} = 3 \text{ cm}$$

$$\Delta L = L_1 - L_2 = 15 - 3 = 12 \text{ cm}$$

(نوسان و امواج) (فیزیک ۳، صفحه‌های ۶۷ و ۶۸)

۶۸- گزینه «۳»

با توجه به جهت میدان‌های الکتریکی و مغناطیسی از روی شکل، طبق قاعده دست راست انتشار موج در جهت محور  $X$  می‌باشد. از طرفی در موج حرکت هر ذره تابع حرکت ذرات قبل خود می‌باشد. بنابراین نوسان میدان مغناطیسی در نقطه  $M$  در

$$T = \frac{\lambda}{c} = \frac{600 \times 10^{-9}}{3 \times 10^8} = 2 \times 10^{-15} \text{ s}$$

$$\Rightarrow \Delta t = \frac{3T}{4} = \frac{3 \times 2 \times 10^{-15}}{4} = 1/5 \times 10^{-15} \text{ s}$$

(نوسان و امواج) (فیزیک ۳، صفحه‌های ۶۶ و ۶۷)

۶۹- گزینه «۱»

(امیرحسین برادران)

با توجه به رابطه انتشار موج در خلأ داریم:

$$\Rightarrow c = \frac{1}{\sqrt{\mu_0 \epsilon_0}} \Rightarrow c^2 = \frac{1}{\mu_0 \epsilon_0} \Rightarrow \frac{F}{m} = \frac{1}{\mu_0 \epsilon_0} \Rightarrow \mu_0 \epsilon_0 = \frac{F}{m s^2}$$

$$\frac{m^2}{s^2} = \frac{1}{\mu_0} \frac{F}{m} \Rightarrow [\mu_0] = \frac{s^2}{m.F}$$

(نوسان و امواج) (فیزیک ۳، صفحه ۶۷)

۷۰- گزینه «۳»

(امیرحسین برادران)

بیشینه انرژی جنبشی ذره‌ای به جرم  $m$  برابر است با  $K_{max} = \frac{1}{2} m v_{max}^2$  اکنون بیشینه تندی ذره را به دست می‌آوریم:

$$\begin{cases} v_{max} = A\omega = A \times \frac{2\pi}{T} \\ v = \frac{\lambda}{T} \end{cases} \Rightarrow \frac{v_{max}}{v} = \frac{2\pi A}{\lambda} \quad (I)$$

با توجه به اینکه در مدت  $\frac{T}{4}$  هر ذره طناب مسافتی به اندازه  $2A$  را طی می‌کند. مسافت طی شده توسط هر ذره طناب در مدت  $\frac{3T}{4}$  برابر است با:

$$I = 2A \times 3 = 6A \quad (II)$$

موج در مدت  $\frac{T}{4}$  مسافتی به اندازه  $\frac{\lambda}{4}$  را طی می‌کند. داریم:

$$I' = \frac{\lambda}{4} \times 3 = \frac{3\lambda}{4} \quad (III)$$

با توجه به اینکه  $\frac{I}{I'} = \frac{3}{4}$  است پس داریم:

$$II, III \Rightarrow \frac{I}{I'} = \frac{3}{4} \Rightarrow \frac{6A}{3\lambda} = \frac{3}{4} \Rightarrow A = \frac{\lambda}{10}$$

بنابراین با توجه به رابطه  $\frac{v_{max}}{v} = \frac{2\pi A}{\lambda}$ ،  $v_{max}$  برابر است با:

$$v_{max} = 2 \times 3 \times \frac{1}{10} \times 15 \Rightarrow v_{max} = 9 \frac{\text{m}}{\text{s}} \quad \frac{K_{max}}{m} = \frac{1}{2} m v_{max}^2 \Rightarrow \frac{K_{max}}{m} = \frac{1}{2} \times 2 \times 10^{-6} \times 9^2 = 81 \times 10^{-6} \text{ J} = 81 \times 10^{-3} \text{ mJ}$$

(نوسان و امواج) (فیزیک ۳، صفحه‌های ۶۳ تا ۶۵)



فیزیک ۳ - پیشروی سریع

۷۱- گزینه «۴»

دوره تناوب این موج برابر است با:

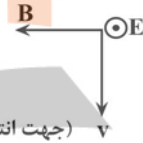
(مسئله قدریله)

$$T = \frac{\lambda}{v} = \frac{600 \times 10^{-9}}{3 \times 10^8} = 2 \times 10^{-15} \text{ s}$$

در نتیجه پس از گذشت  $9 \times 10^{-15} \text{ s}$ ، موج به اندازه

$$n = \frac{t}{T} = \frac{9 \times 10^{-15}}{2 \times 10^{-15}} = 4/5$$

نوسانات میدان مغناطیسی نسبت به لحظه  $t'$ ، قرینه می شود. اکنون با قاعده دست راست، جهت نوسانات میدان الکتریکی را تعیین می کنیم.



(جهت انتقال انرژی)

در نتیجه جهت نوسانات میدان الکتریکی به صورت برون سو خواهد بود که مطابق شکل، جهت آن در جهت مثبت محور Z ها می باشد.

(نوسان و امواج) (فیزیک ۳، صفحه های ۶۶ و ۶۷)

۷۲- گزینه «۳»

گام اول: با توجه به فرمول سرعت امواج عرضی در طناب داریم:

$\rho$  چگالی و  $D$  قطر مقطع طناب است.

$$v = \sqrt{\frac{FL}{m}} = \frac{m = \rho v}{v = AL} \rightarrow v = \sqrt{\frac{F}{\rho A}} = \frac{2}{D} \sqrt{\frac{F}{\pi \rho}}$$

گام دوم: رابطه مقایسه ای را نوشته و با جاگذاری خواسته سوال را حساب می کنیم.

$$\frac{v_A}{v_B} = \frac{D_B}{D_A} \sqrt{\frac{F_A}{F_B} \times \frac{\rho_B}{\rho_A}} \quad \rho_A = \frac{169}{100} \rho_B, D_B = \frac{120}{100} D_A$$

$$\frac{v_A}{v_B} = \frac{25}{100} F_A$$

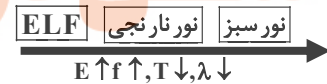
$$\frac{v_A}{v_B} = \frac{6}{5} \sqrt{\frac{100}{25} \times \frac{100}{169}} \Rightarrow \frac{v_A}{v_B} = \frac{6}{5} \times 2 \times \frac{10}{13} = \frac{24}{13}$$

(نوسان و امواج) (فیزیک ۳، صفحه ۶۵)

۷۳- گزینه «۱»

(مصطفی واتقی)

ترتیب امواج عنوان شده به صورت مقابل است: امواج الکترومغناطیس عرضی هستند.



پس موارد الف، ب و ت صحیح و پ غلط است.

(نوسان و امواج) (فیزیک ۳، صفحه های ۶۲ تا ۶۸)

۷۴- گزینه «۲»

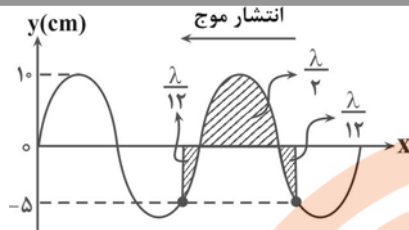
(مسئله قدریله)

با توجه به اینکه زمان لازم برای اینکه ذره از مکان مرکز نوسان به  $\pm \frac{A}{2}$  برسد،

است؛ در نتیجه طبق نمودار، مدت زمان رسیدن موج از وضعیت (۱) به

وضعیت (۲) برابر با  $\frac{T}{12} + \frac{T}{2} + \frac{T}{12} = \frac{2T}{3}$  می باشد و در این مدت موج مسافت

را طی می کند.



$$\frac{2\lambda}{3} = 24 \Rightarrow \lambda = 48 \text{ cm}$$

حالت جدید:

دقت شود که در حالت جدید، با تغییر طول طناب، تغییری در تندی موج به وجود نمی آید. (چون جنس طناب تغییری نکرده است). اما تندی موج با جذر نیروی کشش، رابطه مستقیم دارد.

$$\frac{v'}{v} = \sqrt{\frac{F'}{F}} = \sqrt{\frac{36}{100}} = \frac{6}{10} = \frac{3}{5}$$

برای رابطه  $v = \lambda f$ ، تندی موج با طول موج رابطه مستقیم دارند.

$$\frac{v'}{v} = \frac{\lambda'}{\lambda} \Rightarrow \frac{3}{5} = \frac{\lambda'}{48} \Rightarrow \lambda' = 28.8 \text{ cm}$$

در گزینه «۲»، مقدار  $\frac{2\lambda'}{3}$  برابر با  $21.6 \text{ cm}$  نشان داده شده است و بدین معنی است که  $\lambda' = 28.8 \text{ cm}$  است. (نوسان و امواج) (فیزیک ۳، صفحه ۶۵)

۷۵- گزینه «۱»

(مسئله قدریله)

در امواج سطحی آب، فاصله بین دو دایره متوالی، برابر با  $\lambda$  است.

بدین صورت مطابق شکل، فاصله  $AB$  به اندازه  $1/5 \lambda$  و فاصله  $CD$  برابر با  $2\lambda$  است. اختلاف این دو مسافت برابر با  $5\lambda$  است که در مدت  $0.4 \text{ s}$  طی کرده است.

$$\rightarrow \text{مسافتی که موج در یک دوره تناوب طی می کند} = \lambda \Rightarrow \lambda = 60 \text{ cm} = 0.6 \text{ m}$$

پس موج در مدت  $0.4 \text{ s}$  مسافت  $0.24 \text{ m}$  را طی کرده است.

$$v = \frac{L}{\Delta t} = \frac{0.24}{0.4} = 0.6 \text{ m/s}$$

(نوسان و امواج) (فیزیک ۳، صفحه های ۶۳ تا ۶۴)

۷۶- گزینه «۱»

(معمربضا فارسی)

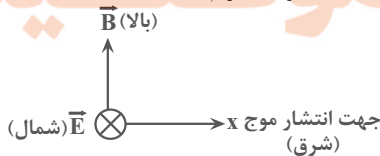
همانطور که از قاعده دست راست دریافتیم:

(۱) چهار انگشت دست راست: جهت ارتعاش میدان الکتریکی (E)

(۲) کف دست راست: جهت ارتعاش میدان مغناطیسی (B)

(۳) انگشت شست دست راست: جهت انتشار و پیشروی موج الکترومغناطیسی

پس با توجه به قاعده دست راست داریم:



یعنی جهت انتشار موج الکترومغناطیسی گاما به سمت شرق است.

(نوسان و امواج) (فیزیک ۳، صفحه های ۶۴ تا ۶۸)

۷۷- گزینه «۲»

(آرمان کلبعلی)

$$t = \frac{\Delta x}{v_s} - \frac{\Delta x}{v_p} \quad \Delta t = 30.0 \text{ s} \Rightarrow t = 30.0 \text{ s} = \frac{\Delta x}{5} - \frac{\Delta x}{8} = \frac{3\Delta x}{40} = 30.0$$

$$\rightarrow \Delta x = 400.0 \text{ km}$$

(نوسان و امواج) (فیزیک ۳، صفحه ۷۰)



۷۸- گزینه «۱»

(امیرسین برادران)

چون هر دو موج در یک محیط منتشر می‌شوند، بنابراین تندی انتشار آن‌ها با یکدیگر برابر است؛ بنابراین با توجه به نسبت طول موج‌ها، نسبت دوره تناوب دو موج را به دست می‌آوریم:

$$v_{\max A} = \frac{1}{2} v_{\max B}$$

$$\lambda_A = 2\lambda_B$$

$$a_{\max} = A\omega^2 = v_{\max} \times \omega$$

اکنون نسبت بسامد موج‌ها را به دست می‌آوریم:

$$\begin{cases} \lambda = Tv \\ \rightarrow v_A = v_B \Rightarrow \frac{\lambda_A}{\lambda_B} = \frac{2\lambda_B}{\lambda_B} = \frac{T_A}{T_B} = \frac{\omega_B}{\omega_A} \Rightarrow \omega_B = 2\omega_A \\ \omega = \frac{2\pi}{T} \end{cases}$$

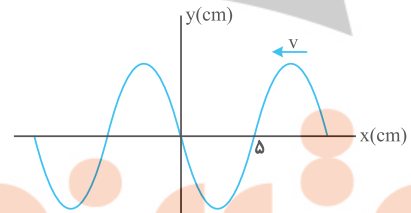
اکنون با توجه به رابطه شتاب نوسانگر داریم:

$$\frac{a_{\max, A}}{a_{\max, B}} = \frac{v_{\max A}}{v_{\max B}} \times \frac{\omega_A}{\omega_B} = \frac{1}{2} \times \frac{v_{\max B}}{v_{\max B}} \times \frac{\omega_A}{2\omega_A} = \frac{1}{2} \times \left(\frac{1}{2}\right) = \frac{1}{4}$$

(نوسان و امواج) (فیزیک ۳، صفحه‌های ۶۳ تا ۶۵ و ۶۹)

۷۹- گزینه «۳»

(فارج از کشور، تهری ۱۴۰۰)



با توجه به نمودار بالا داریم:

$$\frac{\lambda}{2} = \Delta \text{cm} \Rightarrow \lambda = 1.0 \text{cm}$$

$$v = \frac{\lambda}{T} = \frac{1.0 \text{cm}}{1/4 \text{s}} = 4.0 \text{cm/s}$$

اکنون دوره موج را محاسبه می‌کنیم:

نقطه M روی ریسمان حرکت هماهنگ ساده انجام می‌دهد. با توجه به معادله نوسانگر در حرکت هماهنگ ساده، موقعیت نقطه M را در لحظه  $t_1 + \frac{1}{4} \text{s}$  به دست می‌آوریم.

$$y = A \cos \omega t \quad \omega = \frac{2\pi}{T}, T = \frac{1}{4} \text{s} \quad \rightarrow y = \Delta \cos 4\pi t \quad t_1 = t_1 + \frac{1}{4} \text{s}$$

$$y = \Delta \cos 4\pi \left(t_1 + \frac{1}{4}\right) = \Delta \cos (4\pi t_1 + \pi) = -\Delta \cos 4\pi t_1$$

$$y_1 = 3 = -\Delta \cos 4\pi t_1 \rightarrow y = -3 \text{cm}$$

اکنون سرعت متوسط ذره M را به دست می‌آوریم:

$$v_{\text{av}} = \frac{\Delta y}{\Delta t} \quad y_1 = -3 \text{cm} \rightarrow v_{\text{av}} = -24 \frac{\text{cm}}{\text{s}} \Rightarrow |v_{\text{av}}| = 24 \frac{\text{cm}}{\text{s}}$$

(نوسان و امواج) (فیزیک ۳، صفحه‌های ۶۳ تا ۶۵)

۸۰- گزینه «۲»

(فارج از کشور، ریاضی ۱۴۰۰)

در یک موج مکانیکی، با توجه به جهت حرکت موج، هر ذره از محیط، حرکت ذره قبل از خود را تکرار می‌کند. از طرف دیگر می‌دانیم، تندی هر ذره از محیط نوسان

در دو انتهای مسیر برابر با صفر و در مرکز نوسان بیشینه است. بنابراین با توجه به توضیحات داده شده و جهت حرکت موج مکانیکی، ذره B در حال نزدیک شدن به قله موج است و بنابراین تندی آن زودتر از بقیه صفر خواهد شد.

(نوسان و امواج) (فیزیک ۳، صفحه‌های ۶۴ و ۶۵)

فیزیک ۲

۸۱- گزینه «۲»

(فزرار ریمی)

مطابق رابطه انرژی ذخیره شده در خازن داریم:

$$U = \frac{1}{2} C V^2 \rightarrow \Delta U = \frac{1}{2} C (V_2^2 - V_1^2)$$

$$\frac{\Delta U = 16 \mu\text{J}}{C = 4 \mu\text{F}} \rightarrow 16 = \frac{1}{2} \times 4 \times (V_2 - V_1)(V_2 + V_1)$$

$$\Rightarrow 8 = (V_2 - V_1)(V_2 + V_1) \quad V_2 - V_1 = 2V \rightarrow V_1 + V_2 = 4$$

$$\begin{cases} V_1 = 1V \\ V_2 = 3V \end{cases}$$

(الکتروسیسته ساکن) (فیزیک ۲، صفحه ۳۳)

۸۲- گزینه «۳»

(مسین عبودی نزار)

می‌دانیم اگر خازن شارژ شده را از مولد جدا کنیم، با تغییر در ساختمان آن بارش ثابت می‌ماند. بنابراین داریم:

$$Q = C \cdot V \rightarrow Q_1 = Q_2 \rightarrow C_1 V_1 = C_2 V_2 \Rightarrow \frac{V_2}{V_1} = \frac{C_1}{C_2} \quad C \propto \frac{1}{d}$$

$$\frac{V_2}{V_1} = \frac{d_1}{d_2} \quad d_2 = \frac{1}{4} d_1$$

$$\frac{V_2}{V_1} = \frac{1}{4} \Rightarrow V_2 = \frac{1}{4} V_1 \Rightarrow |\Delta V| = |V_2 - V_1| = \left| \frac{1}{4} V_1 - V_1 \right| = \frac{3}{4} V_1$$

$$\Rightarrow \frac{3}{4} V_1 = 9 \Rightarrow V_1 = 12V$$

(الکتروسیسته ساکن) (فیزیک ۲، صفحه ۳۸ تمرین ۲۴ کتاب درسی)

۸۳- گزینه «۱»

(غلامرضا میی)

به کمک رابطه مربوط به محاسبه خازن خواهیم داشت:

$$C = \kappa \epsilon_0 \frac{A}{d} = 2 \left( \frac{8}{85} \times 10^{-12} \right) \frac{10^{-10}}{10 \times 10^{-9}} = 2 / 66 \times 10^{-13} \text{F}$$

حال با استفاده از تعریف ظرفیت، بار Q را به دست می‌آوریم:

$$Q = C \cdot V = (2 / 66 \times 10^{-13}) (0.85) = 2 / 26 \times 10^{-14} \text{C}$$

بزرگی بار هر یون در هر طرف غشاء برابر  $1 / 6 \times 10^{-19} \text{C}$  است، بنابراین تعداد

$$\text{تعداد یون‌ها} = \frac{2 / 26 \times 10^{-14}}{1 / 6 \times 10^{-19}} = 1 / 41 \times 10^5$$

یون‌ها برابر است با:

(الکتروسیسته ساکن) (فیزیک ۲، صفحه‌های ۲۹ تا ۳۱)

۸۴- گزینه «۲»

(فامر جمشیدیان)

$$C_2 - C_1 = \frac{\kappa \epsilon_0 A}{d_2} - \frac{\kappa \epsilon_0 A}{d_1} = \kappa \epsilon_0 A \left( \frac{1}{d_2} - \frac{1}{d_1} \right)$$



۸۸- گزینه «۴»

(امیر عباسی)

وسیله‌ای از قانون اهم پیروی می‌کند که نسبت  $\frac{V}{I}$  آن ثابت باشد که حاصل آن برابر مقاومت می‌باشد. این مورد فقط در مورد وسیله A صادق است.

وسیله A  $\rightarrow \frac{2}{4/5} = \frac{3}{6/75} = \frac{4}{9}$

وسیله B  $\rightarrow \frac{2}{5} \neq \frac{3/1}{8}$

وسیله C  $\rightarrow \frac{4}{2/5} \neq \frac{12}{4/5}$

(جریان الکتریکی و مدارهای جریان مستقیم) (فیزیک ۲، صفحه‌های ۳۳ تا ۴۵)

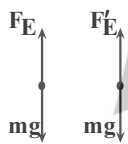
۸۹- گزینه «۱»

(امیرسین برادران)

با استفاده از رابطه مکان - زمان در حرکت شتاب ثابت، شتاب بار q را به دست می‌آوریم:

$$\Delta x = \frac{1}{2} a t^2 \rightarrow \frac{\Delta x = 2 \text{ mm} = 2 \times 10^{-3}}{t = 40 \text{ ms} = 4 \times 10^{-2} \text{ s}}$$

$$2 \times 10^{-3} = \frac{1}{2} a \times 16 \times 10^{-4} \Rightarrow a = \frac{10}{4} = 2.5 \frac{\text{m}}{\text{s}^2}$$



(۱)  $F_E = mg \rightarrow \frac{m}{s^2} = 1 \cdot m$  (I)

(۲)  $mg - F_E = ma \rightarrow \frac{m}{s^2} = \frac{m}{s^2} F_E - F'E$

$= 2 / \Delta m \Rightarrow F_E = 2 / \Delta m$  (II)

(I), (II)  $\frac{F_E = E|q|}{F'E = E'|q|} \rightarrow E' = \frac{2/5}{10} E = \frac{2}{5} E \rightarrow \frac{V = Ed}{V' = V}$

$E'd' = Ed \Rightarrow \frac{d'}{d} = \frac{4}{3}$

اکنون نسبت انرژی خازن را به انرژی اولیه آن به دست می‌آوریم:

$U = \frac{1}{2} CV^2 \Rightarrow \frac{U'}{U} = \frac{C'}{C} \rightarrow \frac{C = k\epsilon_0 \frac{A}{d}}{d} \rightarrow \frac{U'}{U} = \frac{d}{d'} = \frac{3}{4}$

(الکتریسته ساکن) (فیزیک ۲، صفحه ۳۳)

۹۰- گزینه «۴»

(امیرسین برادران)

ابتدا مقدار مقاومت‌ها را به دست می‌آوریم:

$$V = RI \begin{cases} R_A = \frac{V_A}{I_A} = \frac{2}{4} = \frac{1}{2} \Omega \\ R_B = \frac{V_B}{I_B} = \frac{6}{4} = \frac{3}{2} \Omega \end{cases}$$

اکنون جریان عبوری از مقاومت‌ها را به دست می‌آوریم:

$I'_A = \frac{4/5}{1/2} = 4 \text{ A} \quad I'_B = \frac{4/5}{3/2} = 2 \text{ A}$

چون  $I'_A > I'_B$  است؛ بنابراین باتری متصل به مقاومت  $R_A$ ، زودتر خالی می‌شود.

$$\rightarrow C_2 - C_1 = 8 / 8 \times 10^{-12} \times 10 \times 10^{-4} \left( \frac{1}{2 \times 10^{-3}} - \frac{1}{5 \times 10^{-3}} \right)$$

$= 88 \times 10^{-16} (500 - 200) = 88 \times 10^{-16} \times 300$

$\Rightarrow C_2 - C_1 = +2 / 64 \times 10^{-12} \text{ F} = 2 / 64 \text{ PF}$

ظرفیت خازن با کاهش فاصله بین صفحات افزایش خواهد یافت.

(الکتریسته ساکن) (فیزیک ۲، صفحه‌های ۳۰ و ۳۱)

۸۵- گزینه «۲»

(یوسف الویری زاده)

چون تعداد الکترون از صفحه مثبت به صفحه منفی منتقل شده است؛ لذا بار خازن افزایش یافته و انرژی ذخیره شده در آن افزایش می‌یابد؛ لذا داریم:

$$\frac{U'}{U} = \frac{\frac{1}{2} \frac{Q'^2}{C}}{\frac{1}{2} \frac{Q^2}{C}} = \frac{Q'^2}{Q^2} \rightarrow \frac{U'}{U} = \frac{1/69U}{U} = \frac{Q'^2}{Q^2}$$

$$\Rightarrow \frac{1}{69} = \frac{Q'^2}{Q^2} \Rightarrow \frac{1}{3} = \frac{Q'}{Q} \Rightarrow Q' = 1/3 Q$$

از طرفی، طبق صورت سؤال؛ تعداد الکترون‌های منتقل شده  $5 \times 10^{13}$  است. پس بزرگی بار منتقل شده برابر است با:

$q = ne \Rightarrow q = 5 \times 10^{13} \times 1.6 \times 10^{-19} = 8 \times 10^{-6} \text{ C} = 8 \mu\text{C}$

$\Rightarrow Q' = Q + \lambda \Rightarrow 1/3 Q = Q + \lambda \Rightarrow 0/3 Q = \lambda \Rightarrow Q = \frac{3}{2} \mu\text{C}$

(الکتریسته ساکن) (فیزیک ۲، صفحه‌های ۳۳ و ۳۴)

۸۶- گزینه «۴»

(امیراحمد میرسعید)

$R_A = 6R_B \rightarrow \frac{V_A}{I_A} = 6 \frac{V_B}{I_B} \rightarrow \frac{I = q}{t}$

$\frac{V_A}{qA} = 6 \frac{V_B}{qB} \rightarrow \frac{V_A t_A}{nAe} = 6 \frac{V_B t_B}{qB}$

$\rightarrow \frac{V \times 16}{10^{14} \times 1.6 \times 10^{-19}} = \frac{6 \times 4V \times 20}{qB} \rightarrow \frac{1}{10^{-6}} = \frac{24 \times 20}{qB}$

$\rightarrow q_B = 480 \times 10^{-6} \text{ C} = 480 \mu\text{C}$

(جریان الکتریکی و مدارهای جریان مستقیم) (فیزیک ۲، صفحه‌های ۳۱ تا ۳۴)

۸۷- گزینه «۲»

(امیراحمد میرسعید)

$I = \frac{q}{t} \rightarrow q = It$

$q_1 = 8 \times 4 = 32 \text{ Ah}$

$q_2 = 6 \times 8 = 48 \text{ Ah}$

$100 - (32 + 48) = 20 \text{ Ah}$

(جریان الکتریکی و مدارهای جریان مستقیم) (فیزیک ۲، صفحه ۴۲)

در مدت ۴ ساعت اول

در ۸ ساعت بعدی

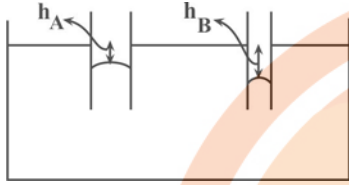




(امیرمسین برادران)

۹۴- گزینه ۳»

سطح جیوه در لوله موبین تمیز از سطح آزاد جیوه در ظرف پایین تر است. و هرچقدر قطر مقطع لوله بیشتر باشد سطح جیوه در لوله موبین به سطح جیوه در سطح آزاد مایع نزدیک تر می شود. بنابراین داریم:



$$V_A > V_B$$

$$h_B > h_A$$

(ویژگی های فیزیکی مواد) (فیزیک ۱، صفحه های ۳۱ و ۳۲)

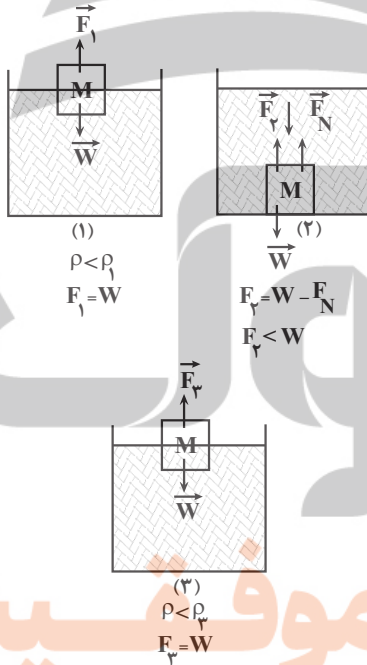
(علیرضا بیاری)

۹۵- گزینه ۳»

ابتدا چگالی جسم های مکعب شکل را حساب می کنیم:

$$\rho = \frac{m}{V} \quad m = 160g \quad V = 4^3 = 64cm^3 \rightarrow \rho = \frac{160}{64} = 2.5 \frac{g}{cm^3}$$

چگالی مکعب ها از چگالی مایع های ۱ و ۳ کمتر است، پس مکعب در سطح این دو مایع، شناور می شود. اما چگالی مکعب از چگالی مایع ۲ بیشتر است، پس درون این مایع پایین رفته و ته نشین می شود.



بنابراین نیروهای شناوری  $F_1$  و  $F_3$  با هم یکسان بوده و با وزن مکعب برابر هستند اما نیروی شناوری  $F_2$  از وزن مکعب کمتر بوده و گزینه ۳ درست است.

(کنکور تهرانی ۱۳۰۱)

۹۶- گزینه ۳»

فشار در یک مایع به عمق مایع بستگی دارد و اختلاف فشار در دو عمق مختلف متناسب با اختلاف دو عمق با یکدیگر است.

$$P_2 - P_1 = \rho g \Delta h \quad \Delta h = 20cm = 0.2m, g = 10 \frac{N}{kg}$$

$$P_2 = 106kPa, P_1 = 10kPa$$

$$(106 - 10) \times 10^3 = \rho \times 10 \times 0.2 \Rightarrow \rho = 2000 \frac{kg}{m^3} = 2000 \frac{g}{L}$$

(ویژگی های فیزیکی مواد) (فیزیک ۱، صفحه های ۳۳ تا ۴۰)

اکنون اختلاف زمانی تخلیه باتری ها را به دست می آوریم:

$$t_A = \frac{2400mAh}{9 \times 10^3 mA} = \frac{1}{3} \times 10^{-1} h = 16 min$$

$$t_B = \frac{2400mAh}{3 \times 10^3 mA} = 8 \times 10^{-1} h = 48 min$$

$$\Rightarrow t_B - t_A = 48 - 16 = 32 min$$

(میران الکتریکی و مدارهای جریان مستقیم) (فیزیک ۲، صفحه های ۳۳ تا ۳۵)

فیزیک ۱

۹۱- گزینه ۳»

(زهره آقاممیری)

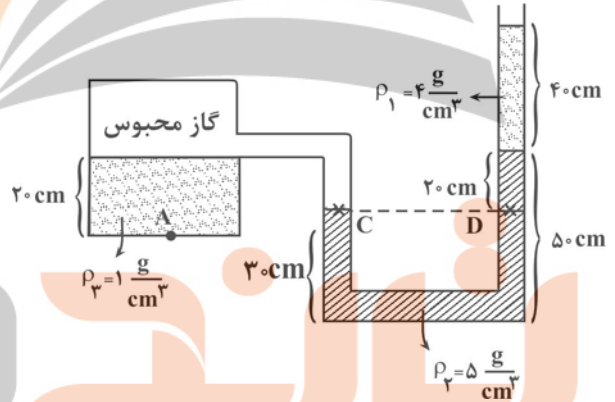
دلیل پخش ذرات نمک و جوهر در آب، به حرکت مولکول های آب مربوط می شود. در واقع به دلیل حرکت های نامنظم و کاتوره ای (تصادفی) مولکول های آب و برخورد آنها با ذرات سازنده نمک و جوهر، این گونه مواد در آب پخش می شوند.

(ویژگی های فیزیکی مواد) (فیزیک ۱، صفحه ۳۵)

۹۲- گزینه ۲»

(سیدمهری رضوی زاده)

ابتدا با توجه به همترازی در لوله L شکل می توان فشار گاز محبوس را محاسبه کرد:



$$P_C = P_D \rightarrow P_{\text{گاز محبوس}} = P_0 + \rho_1 g h_1 + \rho_2 g h_2$$

$$P_{\text{گاز}} = 100000 + 4000 \times 10 \times \frac{4}{10} + 5000 \times 10 \times \frac{2}{10}$$

$$P_{\text{گاز}} = 100000 + 16000 + 10000 \rightarrow P_{\text{گاز}} = 126000 Pa$$

سپس فشار در نقطه A را محاسبه می کنیم:

$$P_A = P_{\text{گاز محبوس}} + \rho_3 g h_3 \quad P_A = 126000 + 10000 \times 10 \times \frac{2}{10} \Rightarrow P_A = 128000 Pa$$

$$\Rightarrow P_A = 128 kPa$$

(ویژگی های فیزیکی مواد) (فیزیک ۱، صفحه های ۳۳ تا ۳۹)

۹۳- گزینه ۲»

(میر میرزایی)

فشار در سطح دریا را بر حسب پاسکال به دست می آوریم:

$$P_0 = \rho g h$$

$$P_0 = 12600 \times 10 \times 0.75 = 102000 Pa$$

فشار در عمق h برابر با  $P = P_0 + \rho g h$  است.

$$\frac{P_h}{P_0} = 1/5 \rightarrow \frac{102000 + 10000 \times 10 \times h}{102000 + 10000 \times 10 \times 6/8} = 1/5$$

$$102000 + 10000h = 153000 + 102000 \rightarrow h = 15/2 m$$

(ویژگی های فیزیکی مواد) (فیزیک ۱، صفحه های ۳۲ تا ۴۰)



۹۷- گزینه ۲»

(مرئضی مرتضوی)

ابتدا تندی آب را در شیلنگ اول به دست می آوریم:

$$A_1 = \pi r^2 = 3 \times 1^2 = 3 \text{ cm}^2$$

$$\frac{\Delta v}{\Delta t} = \Delta v \Rightarrow \frac{540^\circ}{90} = 3v_1 \Rightarrow v_1 = 20 \frac{\text{cm}}{\text{s}}$$

اکنون با توجه به معادله پیوستگی تندی آب در شلنگ دوم را به دست می آوریم:

$$A_1 v_1 = A_2 v_2 \Rightarrow \frac{v_2}{v_1} = \frac{A_1}{A_2} = \left(\frac{D_1}{D_2}\right)^2$$

$$\frac{v_2}{20} = (3)^2 \rightarrow v_2 = 20 \times 9 = 180 \frac{\text{cm}}{\text{s}}$$

بنابراین تغییر تندی آب خروجی از شلنگ برابر است با:

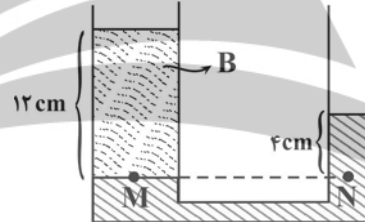
$$\Delta v = v_2 - v_1 = 160 \frac{\text{cm}}{\text{s}}$$

(ویژگی های فیزیکی مواد) (فیزیک ۱، صفحه های ۳۳ تا ۴۵)

۹۸- گزینه ۱»

(امیرمسین برادران)

ابتدا نسبت چگالی دو مایع را به دست می آوریم:



$$P_M = P_N \Rightarrow \rho_B \times 12 = \rho_A \times 4 \Rightarrow \rho_A = 3\rho_B$$

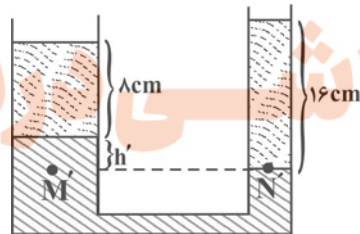
اگر  $\frac{1}{3}$  جرم مایع B را بر شاخه سمت راست منتقل کنیم، ارتفاع مایع B در شاخه سمت راست برابر می شود با:

$$\frac{1}{3} \times 12 \times A_B = h_A \times A_A \xrightarrow{\frac{A_B = \pi r_B^2}{r_B = 2r_A}} h_A = 16 \text{ cm}$$

در حالت دوم اختلاف سطح مایع A در دو شاخه را مشخص می کنیم:

$$P_{M'} = P_{N'} \Rightarrow \lambda \times \rho_B + \rho_A h' = 16\rho_B$$

$$\xrightarrow{\rho_A = 3\rho_B} h' = \frac{\lambda}{3} \text{ cm}$$



اگر مایع در شاخه راست به اندازه  $4 + x$  سانتی متر پایین بیاید در شاخه سمت

چپ به اندازه  $\frac{4+x}{4}$  بالا می رود، در این حالت اختلاف ارتفاع مایع A در دو شاخه برابر است با:

$$\frac{4+x}{4} + x = \frac{\lambda}{3} \Rightarrow \frac{5x}{4} = \frac{\lambda}{3} - 1 = \frac{5}{3}$$

$$\Rightarrow x = \frac{4}{3} \text{ cm} \Rightarrow \text{میزان بالا آمدن مایع A در شاخه سمت چپ}$$

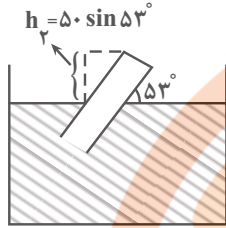
$$= \frac{4+x}{4} = 1 + \frac{x}{4} = \frac{4}{3} \text{ cm}$$

(ویژگی های فیزیکی مواد) (فیزیک ۱، صفحه های ۳۳ تا ۴۰)

۹۹- گزینه ۱»

(امیرمسین برادران)

اختلاف فشار انتهایی لوله در دو حالت را به دست می آوریم. در حالتی که لوله چرخیده است، ارتفاع قائم لوله را در نظر می گیریم:



$$\begin{cases} P_1 = P_0 - \rho g h_1 \\ P_2 = P_0 - \rho g h_2 \end{cases} \rightarrow P_2 - P_1 = \rho g (h_1 - h_2)$$

$$h_2 = 50 \sin 53^\circ \times 10^{-2} \text{ m}, g = 10 \frac{\text{N}}{\text{kg}}$$

$$\rightarrow \Delta P = 3400 \times 10$$

$$\rho = 3/4 \frac{\text{g}}{\text{cm}^3} = 3400 \frac{\text{kg}}{\text{m}^3}, h_1 = 50 \times 10^{-2} \text{ m}$$

$$(50 - 50 \times 0.8) \times 10^{-2}$$

$$\Rightarrow \Delta P = 3400 \times 10 = 3400 \text{ Pa}$$

$$\Rightarrow \Delta F = \Delta P \times A \xrightarrow{\frac{\Delta P = 3400 \text{ Pa}}{A = 6 \text{ cm}^2 = 6 \times 10^{-4} \text{ m}^2}}$$

$$\Delta P = 3400 \times 6 \times 10^{-4} = 2.04 \text{ N}$$

(ویژگی های فیزیکی مواد) (فیزیک ۱، صفحه های ۳۳ تا ۴۰)

۱۰۰- گزینه ۱»

(فارج از کشور ریاضی ۱۴۰)

با توجه به برابری فشار در نقاط هم تراز یک مایع ساکن داریم:

$$P_{\text{مایع}} = \rho g h + P_0 \Rightarrow P_{\text{مایع}} - P_0 = (\rho g h)_{\text{مایع}} = (\rho g h)_{\text{جیوه}}$$

$$\Rightarrow (\rho h)_{\text{مایع}} = (\rho h)_{\text{جیوه}} \Rightarrow 1/7 \times 40 = 13/6 \times h_{\text{جیوه}}$$

$$\Rightarrow h_{\text{جیوه}} = 5 \text{ cm}$$

$$\Rightarrow P_g = P_{\text{مایع}} - P_0 = 5 \text{ cmHg}$$

(ویژگی های فیزیکی مواد) (فیزیک ۱، صفحه های ۳۳ تا ۴۰)

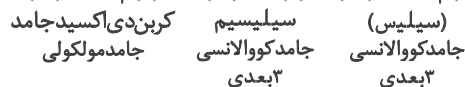
شیمی ۳- پیشروی نرمال

۱۰۱- گزینه ۲»

(امیر هاتمیان)

عبارت های ب و پ درست هستند.

مطابق شکل، داریم:



بررسی عبارت ها:

الف) نادرست. پخته شدن نان سنگک بر روی دانه های درشت سنگ را می توان

نشانه ای از مقاومت گرمایی سیلیس (SiO<sub>2</sub>) دانست.

ب) درست. SiO<sub>2</sub> فراوان ترین اکسید در پوسته جامد زمین است و در دمای اتاق

و فشار یک اتمسفر به حالت جامد است.



(صالح دارابی)

۱۰۴- گزینه «۴»

موارد اول، دوم و سوم درست هستند. بررسی موارد:  
مورد اول: در الماس هر اتم کربن با چهار پیوند کووالانسی به چهار اتم کربن دیگر و در گرافیت هر کربن با چهار پیوند کووالانسی به ۳ اتم کربن دیگر متصل می‌شود. دقت کنید که پیوند دوگانه، دو پیوند کووالانسی محسوب می‌شود.  
مورد دوم: الماس جامدی کووالانسی بوده و جامدهای کووالانسی سختی بالایی داشته و دیرگداز هستند.  
مورد سوم: برای موارد  $He(g)$ ،  $C_6H_6(l)$  و  $CO_2(g)$  که جزو مواد مولکولی‌اند، می‌توان واژه مولکول را به‌کار برد.  
مورد چهارم: آنتالپی پیوند گرافیت به دلیل وجود پیوند دوگانه، از آنتالپی پیوند الماس بالاتر است.

(شیمی جلوه‌ای از هنر، زیبایی و ماندگاری) (شیمی ۳، صفحه‌های ۶۷ تا ۷۳)

(رسول عابدینی زواره)

۱۰۵- گزینه «۴»

بررسی درستی یا نادرستی عبارت‌ها:  
ضخامت گرافن به اندازه یک اتم کربن است. (نادرستی عبارت اول)  
مقاومت کششی گرافن حدود ۱۰۰ برابر فولاد است. (نادرستی عبارت دوم)  
در گرافن هر اتم کربن با سه اتم کربن دیگر پیوند اشتراکی دارد. (نادرستی عبارت سوم)  
گرافن تک‌لایه‌ای از گرافیت است و بین لایه‌های گرافیت نیروی جاذبه واندروالسی وجود دارد. (درستی عبارت چهارم)

(شیمی جلوه‌ای از هنر، زیبایی و ماندگاری) (شیمی ۳، صفحه ۷۲)

(هسین ناصری ثانی)

۱۰۶- گزینه «۲»

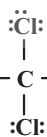
یخ خشک  $CO_2(s)$  (ید  $I_2(s)$ ، بنزن  $C_6H_6(l)$ )، گاز نئون  $Ne(g)$  از واحدهای مجزایی به‌نام مولکول تشکیل شده‌اند بنابراین جزو مواد مولکولی بوده و در مورد این موارد می‌توان از واژه فرمول مولکولی استفاده کرد.  
بررسی موارد دیگر:  
الماس، سیلیسیم و سیلیسیم کربید جزو جامدهای کووالانسی بوده و واحدهایی مجزا به‌نام مولکول ندارند.  
همانطور که در پایه دهم خوانده اید، منیزیم کلرید  $MgCl_2(s)$  جامد یونی است و ذرات سازنده آن یون‌ها می‌باشند.  
نکته: گازهای نجیب، مواد مولکولی به‌شمار می‌روند و هر نمونه از گاز نجیب را می‌توان ماده‌ای در نظر گرفت که از مولکول‌های تک‌اتمی تشکیل شده است.

(شیمی جلوه‌ای از هنر، زیبایی و ماندگاری) (شیمی ۳، صفحه‌های ۷۰ تا ۷۸)

(معمرفضا ارمندپور)

۱۰۷- گزینه «۳»

اتم A کربن، B اکسیژن، C گوگرد و D کلر می‌باشد.  
بررسی موارد:  
الف) درست. مولکول  $SO_3$  ناقطبی است و اتم اکسیژن «B» در نقشه پتانسیل الکتروستاتیکی این مولکول به رنگ سرخ مشاهده می‌شود.  
ب) نادرست. مولکول  $CCl_4$  ناقطبی و گشتاور دوقطبی آن صفر است.  
پ) درست. مولکول  $SCO$  خطی و قطبی می‌باشد و در میدان الکتریکی جهت‌گیری می‌کند.



ت) نادرست.  $\ddot{O} = C = \ddot{O}$  و  $\begin{array}{c} \ddot{O}: \\ | \\ \ddot{O} = C - \ddot{O}: \\ | \\ \ddot{O}: \end{array}$  تعداد جفت الکترون‌های پیوندی برابری دارند.

(شیمی جلوه‌ای از هنر، زیبایی و ماندگاری) (شیمی ۳، صفحه‌های ۷۳ تا ۷۷)

پ) درست. نافلز سبک‌تر در  $CO_2$  همان کربن می‌باشد تاکنون از کربن هیچ یون تک‌اتمی در هیچ ترکیبی شناخته نشده است.

ت) نادرست. ماسه از نمونه‌های ناخالص سیلیس  $(SiO_2)$  یعنی A می‌باشد.  
ث) نادرست. آنتالپی پیوند  $(Si-O)$  در ساختار A بیشتر از آنتالپی پیوند  $(Si-Si)$  در ساختار B است.

(شیمی جلوه‌ای از هنر، زیبایی و ماندگاری) (شیمی ۳، صفحه‌های ۶۸ و ۶۹)

(امیر هاتمیان)

۱۰۲- گزینه «۲»

عبارات «ب» و «ت» اتفاق نمی‌افتند.  
بررسی عبارت‌ها:  
الف و ت)

$$\text{خاک رس } 100 \text{ ton} \times \frac{13/32 \text{ ton } H_2O}{100 \text{ ton}} = 4 \text{ ton} = \text{جرم آب خارج شده}$$

$$= 0/5328 \text{ ton} = 5/328 \times 10^5 \text{ g}$$

$$\text{خاک رس } 100 \text{ ton} \times \frac{46/28 \text{ ton } SiO_2}{100 \text{ ton}} = 4 \text{ ton} = \text{جرم } SiO_2 \text{ قبل از تیخیر آب}$$

$$= 1/848 \text{ ton } SiO_2$$

$$\text{جرم خاک رس پس از تیخیر آب} = 4 - 0/5328 = 3/4672 \text{ ton}$$

$$\frac{1/848 \text{ ton } SiO_2}{3/4672 \text{ ton } \text{خاک رس}} \times 100 \approx 53/3 = \text{درصد جرمی } SiO_2 \text{ پس از تیخیر آب}$$

ب) وجود اکسیدهای سدیم و منیزیم در هر صورت موجب قلیایی بودن خاک رس است و عبارت «خاصیت بازی پیدا می‌کند» درست نیست؛ بلکه باید از افزایش خاصیت بازی خاک صحبت کرد.

پ) با تیخیر آب، درصد جرمی همه اجزای خاک رس از جمله  $Fe_2O_3$  که باعث سرخ بودن خاک رس می‌شود، افزایش می‌یابد.

(شیمی جلوه‌ای از هنر، زیبایی و ماندگاری) (شیمی ۳، صفحه ۶۹)

(میلاد شیخ‌الاسلامی فیاوی)

۱۰۳- گزینه «۳»

بررسی عبارت‌ها:  
الف) درست.

ب) درست. ساده‌ترین اتم هیدروژن و اتمی که آرایش الکترونی آن به  $2p^3$  ختم می‌شود، نیتروژن است. ترکیب ۴ اتمی حاصل از آنها  $NH_3$  می‌باشد که در نقشه پتانسیل الکتروستاتیکی مولکول آمونیاک، اتم‌های هیدروژن با دارا بودن شعاع کمتر، به رنگ آبی دیده می‌شوند.

پ) درست. در ساختار لوویس وضعیت الکترون‌های ظرفیت (اینکه چه تعداد به‌صورت پیوندی و چه تعداد به‌صورت ناپیوندی هستند) مشخص می‌شود.

ت) درست. در مولکول‌های دو اتمی ناجور هسته، اتمی که خصلت نافلزی بیشتری داشته باشد، دارای بار جزئی منفی ( $\delta^-$ ) بوده و در نقشه پتانسیل الکتروستاتیکی به رنگ قرمز نشان داده می‌شوند.

ث) نادرست. ترکیبی از گوگرد و اکسیژن که گوگرد در آن بالاترین عدد اکسایش

ممکن  $+6$  (را دارد.  $SO_3$  می‌باشد. هم این ترکیب هم  $CO_2$  هر دو ناقطبی هستند اما توجه کنید ناقطبی بودن همواره دلیل بر نداشتن قسمت‌های قرمز و آبی در نقشه پتانسیل الکتروستاتیکی نیست! مثلاً در مولکول  $CO_2$  اطراف اتم کربن آبی و اطراف اتم‌های اکسیژن قرمز است اما به دلیل توزیع متقارن بار، مولکول در کل ناقطبی می‌باشد!  
(شیمی جلوه‌ای از هنر، زیبایی و ماندگاری) (شیمی ۳، صفحه‌های ۷۳ تا ۷۶)

## ۱۰۸- گزینه ۲»

(علیرضا رضایی سراب)

در ساختار یخ میان مولکول‌های آب پیوند هیدروژنی ایجاد می‌گردد. البته میان اتم‌ها در هر مولکول آب، پیوند اشتراکی (کووالانسی) وجود دارد. حلقه‌های شش‌گوشه تشکیل شده دارای اتم‌های O و H است که میان آنها پیوندهای کووالانسی و هیدروژنی وجود دارد. نیروهای بین مولکولی رفتار فیزیکی مولکول‌ها را و جفت‌الکترون‌های پیوندی و ناپیوندی رفتار شیمیایی را تعیین می‌کند.

(شیمی بلوهای از هنر، زیبایی و ماندگاری) (شیمی ۳، صفحه‌های ۷۳ تا ۷۵)

## ۱۰۹- گزینه ۴»

(علیرضا رضایی سراب)

بررسی موارد:

مورد اول: درست است. بار جزئی گوگرد و کربن در هر دو مولکول مثبت است.

مورد دوم: نادرست است. مولکول  $\text{CHCl}_3$  قطبی است و مولکول  $\text{CCl}_4$  ناقطبی است. انحلال‌پذیری  $\text{CHCl}_3$  در هگزان نسبت به  $\text{CCl}_4$  کمتر است.

مورد سوم: نادرست است. مانند  $\text{CO}_2$  که ناقطبی است اما بار جزئی اتم‌های C و O متفاوت است.

مورد چهارم: نادرست است. مولکول  $\text{SO}_2$  قطبی است با اینکه اتم‌های متصل به اتم مرکزی یکسان هستند.

(شیمی بلوهای از هنر، زیبایی و ماندگاری) (شیمی ۳، صفحه‌های ۷۴ تا ۷۷)

## ۱۱۰- گزینه ۳»

(عامر برزگر)

موارد (ب) و (پ) نادرست هستند. بررسی موارد:

مورد الف: مولکول A همان  $\text{CO}_2$ ، مولکول B همان  $\text{C}_2\text{H}_2$  و مولکول C همان  $\text{SCO}$  می‌باشد. مولکول‌های A و B ناقطبی بوده لذا در این مولکول‌ها، توزیع الکترون به‌صورت متقارن است. توزیع الکترون در مولکول‌های قطبی، نامتقارن می‌باشد.

مورد ب: نادرست است. در نقشه پتانسیل الکتروستاتیکی کربن‌دی‌سولفید برخلاف کربن‌دی‌اکسید، شعاع اتم‌های کناری (گوگرد) بزرگ‌تر است.

مورد پ: هر سه مولکول، شکل هندسی خطی دارند.

مورد ت: در نقشه پتانسیل الکتروستاتیکی مولکول A ( $\text{CO}_2$ ) و مولکول  $\text{C(SCO)}$ ، اتم مرکزی به رنگ آبی و اتم‌های اطراف قرمزند. علامت بار جزئی اتم مرکزی در هر دو مولکول به‌صورت بار جزئی مثبت  $(\delta^+)$  می‌باشد.

مورد ث: مولکول C برخلاف دو مولکول دیگر، قطبی می‌باشد پس در میدان الکتریکی جهت‌گیری می‌کند و گشتاور دوقطبی بزرگتر از صفر دارد.

(شیمی بلوهای از هنر، زیبایی و ماندگاری) (شیمی ۳، صفحه‌های ۷۵ تا ۷۷)

## شیمی ۳ - پیشروی سریع

## ۱۱۱- گزینه ۱»

(مینم کوثری لنگری)

این فناوری در برخی کشورهای توسعه‌یافته وجود دارد. (نادرستی گزینه ۱)

شاره A، ترکیبی یونی مانند  $\text{NaCl}$  است و شاره ورودی به توربین، شاره مولکولی مانند آب است. مسیر شاره یونی از برج گیرنده به مخزن آب و بالعکس است. اما مسیر شاره مولکولی از مخزن آب به مولد و سردکننده و بالعکس است. پس همواره دمای شاره یونی از دمای شاره مولکولی بیشتر است.

(شیمی بلوهای از هنر، زیبایی و ماندگاری) (شیمی ۳، صفحه‌های ۷۷ تا ۷۹)

## ۱۱۲- گزینه ۳»

(مینم کوثری لنگری)

مورد اول: نادرست، چگالی بار کمیتی است که می‌تواند برای مقایسه برهم‌کنش میان یون‌ها به‌کار رود نه برای بررسی فعالیت شیمیایی واکنش‌دهنده‌ها.

مورد دوم: درست.

مورد سوم: نادرست، در فناوری پیشرفته تولید انرژی الکتریکی مایع بودن در یک گستره دمایی بیشتر، از ویژگی‌های شاره یونی است که نقش آن منبع ذخیره انرژی گرمایی است (نه شاره مولکولی) در این جا مشکل استفاده از نیتروژن به عنوان شاره مولکولی آن است که سرد کردن و به مایع تبدیل شدن آن، به دلیل نقطه جوش بسیار پایین، کاری بس دشوار است.

مورد چهارم: نادرست، اگرچه عبارت کلی داده شده درست است اما دلیل پدید آمدن آرایش منظمی از یون‌ها در سه بُعد و تشکیل شبکه بلوری، غلبه نیروی جاذبه میان یون‌های نامنماب بر نیروهای دافعه میان یون‌های همنام است.

(شیمی بلوهای از هنر، زیبایی و ماندگاری) (شیمی ۳، صفحه‌های ۷۸ تا ۸۴)

## ۱۱۳- گزینه ۲»

(میلاد عزیز)

بررسی موارد نادرست:

الف: عدد اتمی ۱۴ مربوط به Si است که یون پایدار تشکیل نمی‌دهد.

نکته: مقایسه شعاع یون‌های موجود در یک دوره به طریق زیر است:

 $15 < 14 < 13 < 12 < 11$  (این اعداد مربوط به شماره گروه عناصر است).

ب: عدد اتمی ۱۰ مربوط به Ne است که یک گاز نجیب است و اصلاً یون تشکیل نمی‌دهد.

(شیمی بلوهای از هنر، زیبایی و ماندگاری) (شیمی ۳، صفحه‌های ۷۸ تا ۸۴)

## ۱۱۴- گزینه ۳»

(هسین ناصری ثانی)

مطلب سوم نادرست و بقیه مطالب درست‌اند.

بررسی مطالب:

مطلب «اول»: براساس این مدل، ساختار فلزها آرایش منظمی از کاتیون‌ها در سه بعد است که در فضای میان آنها سست‌ترین الکترون‌های موجود در اتم (الکترون‌های ظرفیت)، دریایی را ساخته‌اند و در آن آزادانه جابه‌جا می‌شوند.

مطلب «دوم»: از آنجا که الکترون‌های دریای الکترونی در بلور آزادانه جابه‌جا می‌شوند بنابراین هر الکترون موجود در آن را نمی‌توان تنها متعلق به یک اتم معین دانست.

مطلب «سوم»: این شکل یک الگوی ساده از شبکه بلوری فلزها را نشان می‌دهد که برای توجیه برخی رفتارهای فیزیکی (نه شیمیایی!) آنها ارائه شده و به مدل دریای الکترونی معروف است.

مطلب «چهارم»: دریای الکترونی عاملی است که چیدمان کاتیون‌ها را در شبکه بلوری فلز حفظ می‌کند.

(شیمی بلوهای از هنر، زیبایی و ماندگاری) (شیمی ۳، صفحه ۸۴)

## ۱۱۵- گزینه ۱»

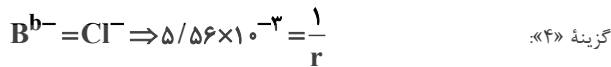
(هسین ناصری ثانی)

فقط مطلب چهارم عبارت داده شده را به درستی تکمیل می‌کند. بررسی مطالب:

مطلب «اول»: در پتاسیم کلرید، یون‌های  $\text{K}^+$  و  $\text{Cl}^-$  به آرایش گاز نجیب آرگون رسیده‌اند و در کلسیم سولفید نیز کاتیون و آنیون سازنده

$(\text{Ca}^{2+}, \text{S}^{2-})$  آرایش گاز نجیب آرگون را دارند. بنابراین در پتاسیم کلرید همانند کلسیم سولفید، کاتیون و آنیون به آرایش گاز نجیب یکسانی رسیده‌اند.

مطلب «دوم»: با توجه به این که در هریک از این دو جامد یونی، مقدار بار کاتیون و آنیون با هم برابر است، بنابراین هم در پتاسیم کلرید و هم در کلسیم سولفید، عدد کوئوردیناسیون کاتیون و آنیون با هم برابر خواهد بود.



$$\Rightarrow r = \frac{1}{5/56 \times 10^{-3}} \approx 1180$$

(شیمی بلوهای از هنر، زیبایی و مانگراری) (شیمی ۳، صفحه‌های ۷۹ تا ۸۳)

(عامر بزرگبر)

### ۱۱۸- گزینه «۱»

بررسی موارد:

مورد آ: مطابق شکل (۱۱) صفحه ۸۵ کتاب درسی درست است.

مورد ب: درست است. توجه کنید که اگر یک نمونه ماده به رنگ سیاه دیده شود یعنی همه طول موج‌های نور مرئی را جذب کرده است.

مورد پ:  $TiO_2$  (تیتانیم (IV) اکسید) و  $Fe_2O_3$  (آهن (III) اکسید) رنگدانه‌هایی‌اند که (به ترتیب) رنگ سفید و قرمز ایجاد می‌کنند.

مورد ت: رنگ‌هایی که برای پوشش سطح استفاده می‌شوند کلویید می‌باشند، کلویدها پلی میان محلول و سوسپانسیون‌اند زیرا برخی از ویژگی‌هایشان شبیه محلول‌ها است (مثل پایداری و ...) و برخی دیگر شبیه به سوسپانسیون‌ها (مثل پخش نور و ...) است. (شیمی بلوهای از هنر، زیبایی و مانگراری) (شیمی ۳، صفحه‌های ۸۵ و ۸۶)

### ۱۱۹- گزینه «۳»

(آر تین حقیقت)

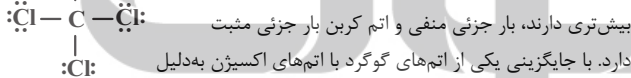
تنها مورد پنجم صحیح است. بررسی موارد نادرست:

مورد اول: طبق مطالب مطرح شده در کتاب درسی، آنتالپی فروپاشی شبکه  $Na_2O$  باید از  $MgO$  کم‌تر باشد.

مورد دوم: محلول وانادیم (II)، بنفش‌رنگ و محلول وانادیم (IV)، آبی‌رنگ است؛ بنابراین در این تغییر رنگ محلول، تغییر عدد اکسایش ۲ است در حالی که در کربن

تتراکلرید نسبت جفت‌الکترون‌های ناپیوندی به پیوندی برابر ۳ است.

مورد سوم: در کربن دی‌سولفید، اتم‌های گوگرد که خاصیت نافلز



بیش‌تری دارند، بار جزئی منفی و اتم کربن بار جزئی مثبت دارد. با جایگزینی یکی از اتم‌های گوگرد با اتم‌های اکسیژن به دلیل خاصیت نافلز

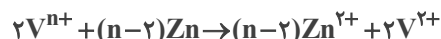
بیش‌تری اتم‌های اکسیژن، بار جزئی مثبت روی اتم کربن افزایش می‌یابد.

مورد چهارم: جرم مولی دی‌متیل‌اتر  $C_2H_6O$  (از پروپان  $C_3H_8$ ) بیشتر است. (شیمی بلوهای از هنر، زیبایی و مانگراری) (شیمی ۳، صفحه‌های ۷۵، ۷۷، ۷۹ تا ۸۳ و ۸۶)

### ۱۲۰- گزینه «۲»

(علیرضا بیانی)

ابتدا واکنش مورد نظر را نوشته و موازنه می‌کنیم:



زیرا محلول بنفش رنگ شده است؛ پس کاتیون  $V^{2+}$  ایجاد شده.

(روش I)

$$\frac{0.1 \text{ mol}}{L} V^{n+} \times 2L \times \frac{(n-2) \text{ mol Zn}}{2 \text{ mol } V^{n+}} \times \frac{65 \text{ g Zn}}{1 \text{ mol Zn}}$$

$$= 13 \text{ g Zn} \Rightarrow n=4$$

(روش II)

$$\frac{M \times V}{\text{ضریب} \times \text{جرم مولی}} = \frac{0.1 \times 2}{2} = \frac{13 \text{ g}}{65(n-2)} \Rightarrow n=4$$

عدد اکسایش وانادیم در محلول اولیه ۴ بوده و رنگ محلول آبی می‌باشد.

مطلب «سوم»: در پتاسیم کلرید، مقدار بار کاتیون و آنیون برابر اما شعاع

کوچک‌تر از  $Cl^{-}$  است، بنابراین نسبت بار به شعاع یا چگالی بار  $K^{+}$  از  $Cl^{-}$  بیشتر است. در کلسیم سولفید هم مقدار بار کاتیون و آنیون با هم برابر است ولی شعاع

$Ca^{2+}$  کوچک‌تر از  $S^{2-}$  است، بنابراین چگالی بار  $Ca^{2+}$  از  $S^{2-}$  بیشتر خواهد بود. در نتیجه در هر دو جامد یونی، چگالی بار کاتیون از آنیون بیشتر است.

مطلب «چهارم»: در همه جامدهای یونی، نیروهای جاذبه میان یون‌های ناهمنام بر نیروهای دافعه میان یون‌های همنام غالب است، آن‌چنان که شمار بسیار زیادی از یون‌ها به‌سوی یکدیگر کشیده می‌شوند. چنین روندی، دلیل پدید آمدن آرایش منظمی از یون‌ها در سه بعد و تشکیل شبکه بلوری جامد یونی است.

(شیمی بلوهای از هنر، زیبایی و مانگراری) (شیمی ۳، صفحه‌های ۷۹ تا ۸۳)

### ۱۱۶- گزینه «۲»

(امیرمهد سعیری)

فلزهای (A)Na و (B)Mg از تناوب سوم به ترتیب طی واکنش با گازهای کلر و اکسیژن نورهای زرد و سفید ایجاد می‌کنند. بررسی همه موارد:

مورد اول:  $MgO$ BO (در مقایسه با  $Na_2O$ A<sub>2</sub>O) مجموع قدر مطلق بار الکتریکی یون بیشتری دارد، پس آنتالپی BO بیشتر از A<sub>2</sub>O می‌باشد (نادرست)

مورد دوم: فلز B همان منیزیم است که به دلیل پتانسیل کاهش کم‌تر از آهن می‌تواند از آهن در مقابل خوردگی در مجاورت اکسیژن و رطوبت حفاظت کند (درست)

مورد سوم: سولفید فلز B همان MgS بوده و نسبت به  $(NaCl)ACl$  آنتالپی فروپاشی بیشتری دارد پس در دماهای بالاتری در مقایسه با NaCl ذوب می‌شود. (درست)

مورد چهارم: در کاتیون‌ها و آنیون‌های هم تناوب هرچه مقدار بار الکتریکی بیشتر باشد چگالی بار یون بیشتر است پس چگالی بار یون حاصل از  $(Mg^{2+})B$

بیشتر از چگالی بار یون حاصل از  $(Na^{+})A$  است. (درست)

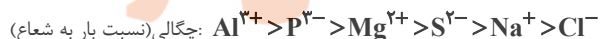
(شیمی بلوهای از هنر، زیبایی و مانگراری) (شیمی ۳، صفحه‌های ۷۹ تا ۸۳)

### ۱۱۷- گزینه «۴»

(هسین ناصری ثانی)

باتوجه به عنصرهای دوره سوم و یون پایدار آن‌ها می‌توان گفت که  $D^{2-}$  و  $A^{3+}$  به

ترتیب یون‌های  $Al^{3+}$  و  $S^{2-}$  هستند. هم‌چنین با توجه به چگالی بار (نسبت بار به شعاع) یون‌های پایدار این دوره، می‌توان عنصرهای B و C را تعیین کرد:



بنابراین  $B^{b-}$  که چگالی بار کوچکتری از  $S^{2-}$  دارد همان  $Cl^{-}$  و  $C^{c+}$  که

چگالی بار آن از  $S^{2-}$  کمتر و از  $Cl^{-}$  بیشتر است،  $Na^{+}$  می‌باشد.

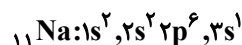


بررسی گزینه‌ها:

گزینه «۱»: با توجه به این‌که در یک دوره از چپ به راست شعاع اتمی عنصرها کاهش می‌یابد، بنابراین شعاع اتمی B (کلر) از D (گوگرد) کوچک‌تر است.

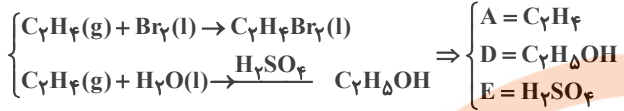
گزینه «۲»: با توجه به چگالی بار یون‌های سازنده، آنتالپی فروپاشی شبکه بلوری NaCl از  $Al_2S_3$  کوچک‌تر است.

گزینه «۳»: اتم C همان Na می‌باشد که دارای ۵ الکترون با  $I=0$  می‌باشد:



(علی امینی)

۱۲۴- گزینه «۲»



عبارت اول و سوم درست است. بررسی همه عبارات به ترتیب:

(۱) درصد جرمی اتم کربن در همه آلکن‌ها و سیکلو آلکن‌ها ثابت و یکسان است.

$$C_nH_{2n} \Rightarrow \frac{12n}{14n} \times 100 = 85.7\%$$

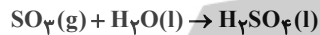
$$C_7H_4FBr_2 : 2(12) + 4(1) + 2(80) \quad (2)$$

$$= 188g \cdot mol^{-1} \neq C_{17}H_{14}F : 12 \times 17 + 14 \times 1 = 218g \cdot mol^{-1}$$

(۳) اتانول به دلیل برقراری پیوندهای هیدروژنی متعدد با مولکول‌های آب، به هر نسبتی در آب حل می‌شود کاربردها مطابق متن کتاب درسی درست است.

(۴) مقادیر انبوهی از اتانول و آمونیاک و سولفوریک اسید و ... در پتروشیمی‌ها تولید می‌شود.

اسیدها از واکنش اکسیدهای نافلز با آب بدست می‌آیند.



(قدر هدایای زمینی را برانیم) (شیمی ۲، صفحه‌های ۳۹ تا ۴۲)

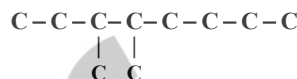
(آزمین نگری)

۱۲۵- گزینه «۲»

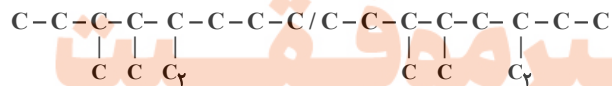
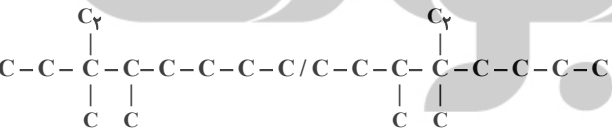
ابتدا شمار کربن‌ها را در آلکن موردنظر محاسبه می‌کنیم.

$$2n + 1 = 37 \rightarrow 2n = 36 \rightarrow n = 18$$

از آنجایی که در نام داده شده متیل وجود دارد یعنی شاخه متیل دیگری وجود نداشته است. ترکیب گفته شده به صورت زیر است.



در این ترکیب ۱۰ کربن وجود دارد. در نتیجه تنها ۲ کربن باید افزوده شود. از طرفی شاخه متیل دیگری نیز نباید افزوده شود. در نتیجه فقط می‌توان شاخه اتیل اضافه کرد.



نکته: در آلکن‌ها شاخه اتیل روی ۲ کربن اول و ۲ کربن آخر قرار نمی‌گیرد.

(قدر هدایای زمینی را برانیم) (شیمی ۲، صفحه‌های ۳۶ و ۳۷ و ۳۸ و ۳۹)

(ممر صالحی)

۱۲۶- گزینه «۴»

بررسی عبارت‌ها:

(الف) بنزن دارای ۳ پیوند دو گانه و نفتالن ۵ پیوند دوگانه دارد و همچنین بنزن ۶ هیدروژن و نفتالن ۸ هیدروژن دارد.

(ب) فرمول ساختاری علاوه بر پیوند بین اتم‌های کربن‌ها، پیوند اتم‌های کربن با اتم‌های هیدروژن را نیز نشان می‌دهند.

(ج) با توجه به شکل کتاب درسی، نفتالن در دمای اتاق جامد است، بقیه عبارت درست است.

(د) سیکلو هگزان نوعی سیکلو آلکن، سیرشده و حلقوی است و با پنجمین عضو خانواده آلکن‌ها ایزومر است.

(قدر هدایای زمینی را برانیم) (شیمی ۲، صفحه ۴۲)

$$13g Zn \times \frac{1mol Zn}{65g Zn} \times \frac{2mole^-}{1mol Zn} = 0.4mole^-$$

(شیمی جلوه‌ای از هنر، زیبایی و ماندگاری) (شیمی ۳، صفحه ۸۶)

شیمی ۲

۱۲۱- گزینه «۴»

همه عبارات داده شده درست‌اند.

عبارت‌های اول و دوم و چهارم برگرفته شده از متن کتاب درسی می‌باشند.

بررسی عبارت سوم: با توجه به اطلاعات ص ۲۹ کتاب درسی ۲ نکته قابل توجه است.

۱- روزانه بیش از ۸۰/۰۰۰/۰۰۰ بشکه نفت خام در دنیا مصرف می‌شود.

۲- هر بشکه نفت خام معادل ۱۵۹ لیتر است.

از دو نکته بالا نتیجه می‌شود که حجم تقریبی نفت خام مصرفی روزانه در دنیا بیش

از  $10^9 \times \frac{12}{77}$  لیتر است. (قدر هدایای زمینی را برانیم) (شیمی ۳، صفحه‌های ۲۸ و ۲۹)

(سهراب صارتی‌زاده)

۱۲۲- گزینه «۱»

تنها مورد سوم درست است موارد:

مورد اول: مدل فضاپرکن پیوندها را نمایش نمی‌دهد.

مورد دوم: در آلکن‌های راست زنجیر برخلاف آلکن‌های شاخه‌دار، هر اتم کربن به یک یا دو اتم کربن دیگر متصل است.

مورد سوم: حالت‌هایی که اتم کربن می‌تواند چهار پیوند اشتراکی تشکیل دهد: چهار پیوند یگانه، یک پیوند دو گانه و دو پیوند یگانه، دو پیوند دو گانه و یک پیوند سه گانه و یک پیوند یگانه. (به کلمه می‌تواند در مورد سوم توجه کنید).

مورد چهارم: در آلکن‌ها با فرمول عمومی  $C_nH_{2n+2}$ ، شمار پیوندهای C-H و C-C به ترتیب برابر  $2n+2$  و  $n-1$  است:

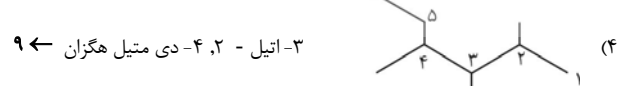
$$\frac{2n+2}{n-1} = 2/4 \rightarrow n = 11$$

در آلکن‌ها به تعداد  $2n+1$  پیوند اشتراکی وجود دارد:  $2n+1 = 31 \rightarrow n = 10$  پس آلکنی با ۱۱ اتم کربن، نقطه جوش بیشتری از آلکنی با ۱۰ اتم کربن دارد.

(قدر هدایای زمینی را برانیم) (شیمی ۳، صفحه‌های ۳۰ تا ۳۶)

۱۲۳- گزینه «۳»

(علی امینی)



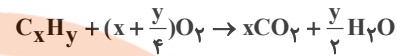
(قدر هدایای زمینی را برانیم) (شیمی ۳، صفحه‌های ۳۶ تا ۳۸)



۱۲۷- گزینه «۳»

(معمد خاتزنیا)

معادله سوختن کامل یک مول هیدروکربن به صورت زیر است:



ابتدا مول کربن دی اکسید و آب تولید شده را به دست می آوریم:

$$\frac{132}{44} = 3 \text{ mol } CO_2 \quad \frac{54}{18} = 3 \text{ mol } H_2O$$

با توجه به اینکه از سوختن  $\frac{1}{2}$  مول هیدروکربن ۳ مول کربن دی اکسید و ۳ مول آب تولید شده است، از سوختن ۱ مول از آن، ۶ مول کربن دی اکسید و ۶ مول آب تولید می شود و فرمول مولکولی آن به صورت  $C_6H_{12}$  می باشد.

$$\frac{3 \text{ mol } CO_2}{x} = \frac{3 \text{ mol } H_2O}{\frac{y}{2}} \Rightarrow y = 2x$$

با توجه به حلقوی نبودن هیدروکربن، متوجه می شویم که نوعی آلکن است.

$$\frac{0.5 \text{ mol } C_xH_{2x}}{1} = \frac{3 \text{ mol } CO_2}{x} \Rightarrow x = 6$$

آلکن مورد نظر هگزن ( $C_6H_{12}$ ) است.

بررسی تمام گزینه ها:

گزینه «۱»: در هگزن ۶ پیوند و در بنزن ۹ پیوند میان اتم های کربن وجود دارد.

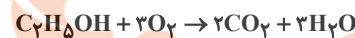
گزینه «۲»: حلقه بنزن در ساختار ترکیبات آروماتیک شرکت دارد.

گزینه «۳»:



$$\frac{9 \text{ mol } O_2}{1 \text{ mol } C_6H_{12}} = 9 \text{ mol } O_2 / \text{mol } C_6H_{12}$$

$$= 9 / 9 \text{ mol } O_2$$



$$\frac{11 \text{ mol } O_2}{1 \text{ mol } C_7H_{14}OH} = 11 \text{ mol } O_2 / \text{mol } C_7H_{14}OH$$

$$= 11 / 11 \text{ mol } O_2$$

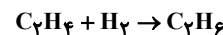
گزینه «۴»: تعداد اتم های تشکیل دهنده آن با نفتالن ( $C_{10}H_8$ ) برابر است.

(قدر هدایای زمینی را برانیم) (شیمی ۲، صفحه ۳۹)

۱۲۸- گزینه «۱»

(عین الله ابوالفتی)

اگر این مخلوط را ۱۰۰ مول در نظر بگیریم، ۱۰ مول گاز اتین آن با ۲۰ مول گاز هیدروژن و ۲۰ مول گاز اتن آن نیز با ۲۰ مول هیدروژن واکنش داده و به اتان سیر شده تبدیل می شود. پس در پایان واکنش فقط ۶۰ مول اتان در ظرف دیده می شود. بنابراین تنوع مولکول ها کاهش، فشار کل گاز کاهش، درصد حجمی اتین و اتن و هیدروژن به صفر می رسد.



(قدر هدایای زمینی را برانیم) (شیمی ۲، صفحه ۴۸)

۱۲۹- گزینه «۴»

(معمد مسین صادقی مقدم)

نفت سنگین ایران در دمای اتاق کمتر از نفت برنت دریای شمال تمایل به جاری شدن دارد زیرا از مولکول های بزرگتری تشکیل شده است.

(قدر هدایای زمینی را برانیم) (شیمی ۲، صفحه های ۳۳ و ۳۴)

۱۳۰- گزینه «۲»

(معمد رضا پونیری)

بررسی موارد:

مورد اول: گرمای آزاد شدن بنزین  $48 \frac{kJ}{g}$  و زغال سنگ  $30 \frac{kJ}{g}$  است.

مورد دوم: سینی های موجود در برج تقطیر، در فواصل گوناگون قرار دارند.

مورد سوم: با عبور گاز  $SO_2$  از روی کلسیم اکسید،  $CaSO_3$  (کلسیم سولفیت) بدست می آید.

مورد چهارم: هرگاه مقدار متان در هوای معدن بیش از ۵٪ شد، احتمال انفجار وجود دارد. (قدر هدایای زمینی را برانیم) (شیمی ۲، صفحه های ۳۳ و ۳۵)

شیمی ۱

۱۳۱- گزینه «۴»

(های مهدی زاده)



مقایسه انرژی انتقالات داده شده به صورت

(کیوان زارگه الفبای هستی) (شیمی ۱، صفحه های ۲۳ تا ۲۷)

۱۳۲- گزینه «۳»

(معمد پوار صادقی)

بررسی عبارت ها:

عبارت «اول»: درست. لایه الکترونی سوم از سه زیر لایه s, p, d با اعداد کوانتومی فرعی  $l=0$  و  $l=1$  و  $l=2$  تشکیل شده است.

عبارت «دوم»: نادرست. حداکثر گنجایش الکترونی هر زیر لایه از عبارت  $2l+1$  به دست می آید.

عبارت «سوم»: درست. با استفاده از رابطه  $2n^2$  حداکثر گنجایش الکترون های هر لایه الکترونی به دست می آید.

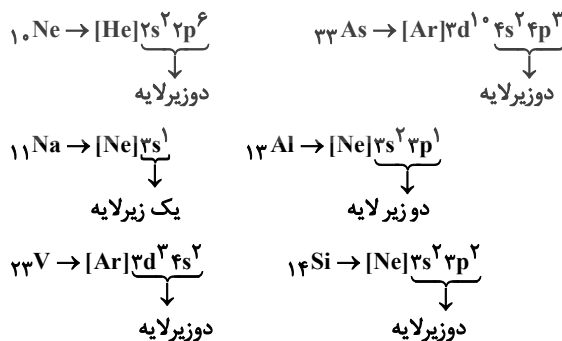
عبارت «چهارم»: درست. پنجمین نوع زیر لایه یک اتم زیر لایه g می باشد که گنجایش حداکثر ۱۸ الکترون را دارد.

(کیوان زارگه الفبای هستی) (شیمی ۱، صفحه های ۲۷ تا ۳۴)

۱۳۳- گزینه «۲»

(میرمسین سینی)

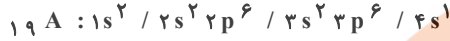
الکترون های لایه ظرفیت هر اتم، رفتار شیمیایی آن اتم را تعیین می کنند.





بررسی عبارت‌ها:

الف و ب) آرایش الکترونی کروم به صورت  $[Ar]3d^5 4s^1$  بوده و دارای دو زیرلایه نیمه پر  $3d^5$  و  $4s^1$  می‌باشد. آرایش الکترونی عناصر  $19A$  به ترتیب به صورت:



بوده و دارای ۱۲ الکترون در زیر لایه  $p$  و ۷ الکترون در زیر لایه  $s$  است و نسبت  $\frac{12}{7}$  برابر ۲ نمی‌باشد.

ب) عنصری با عدد اتمی ۲۴ گروه ۶ قرار دارد و تعداد نوترون‌های آن برابر  $28(24-12)$  می‌باشد. اولین فلز واسطه اسکندیم ( $Sc$ ) است و نسبت  $\frac{28}{21}$  برابر  $\frac{1}{5}$  نمی‌باشد.

ت) آرایش الکترونی اتم‌های کروم و مس را فقط می‌توان با طیف‌سنجی پیشرفته تعیین نمود. (کیوان زارگه الفبای هستی) (شیمی، ۱، صفحه‌های ۲۹ تا ۳۴)

### ۱۳۷- گزینه «۲»

(امین نوروزی)

این عنصر  $Cr$  با آرایش الکترونی  $1s^2 / 2s^2 2p^6 / 3s^2 3p^6 3d^5 / 4s^1$  است. تنها عبارت اول نادرست است.

مورد اول: ۵ زیر لایه پرشده دارد که از شمار الکترون‌های لایه ظرفیت آن  $(6e^-)$  واحد کمتر است. x

مورد دوم: آرایش الکترونی لایه آخر این عنصر که  $4s^1$  است با  $Cu$  که دومین عنصری از جدول تناوبی است که از قاعده آفتاب پیروی نمی‌کند برابر است. ✓

مورد سوم: شمار زیر لایه‌های اشغال شده ۷ زیر لایه است و تعداد زیر لایه‌های نیمه پر در آن  $\frac{7}{2} = \frac{3}{5}$  است پس  $\frac{7}{2} = \frac{3}{5}$

مورد چهارم: تعداد الکترون‌های لایه ظرفیت این عنصر ۶ است و تعداد عنصری که در دوره چهارم زیر لایه  $3d$  پر ندارد ۱۰ عنصر است که

شامل  $K, Ca, Sc, Ti, V, Cr, Mn, Fe, Co, Ni$  است و نسبت آنها  $\frac{6}{10}$  است. (کیوان زارگه الفبای هستی) (شیمی، ۱، صفحه‌های ۳۰ تا ۳۴)

### ۱۳۸- گزینه «۱»

(فرزین علی‌روست)

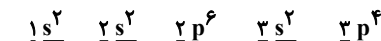
فقط عبارت سوم نادرست است. بررسی همه عبارت‌ها:

عبارت اول: عنصری که در لایه ظرفیت خود تنها زیر لایه  $4s$  را دارد؛ جزو عناصر دسته  $s$  است که ۷ عضو آن در گروه اول، ۶ عنصر آن در گروه دوم و ۱ عضو آن در گروه ۱۸ جای دارند. (مجموعاً ۱۴ عنصر)

عبارت دوم: در دوره چهارم در لایه ظرفیت عناصر گروه ۷ ( $Mn$ ) و گروه ۱۷

( $Br$ ) هفت الکترون ظرفیت وجود دارد که به ترتیب در اولی، آخرین زیر لایه‌های الکترون گرفته است زیر لایه  $3d$  است که دارای ۵ الکترون و در دومی زیر لایه  $4p$  دارای ۵ الکترون است.

عبارت سوم: آرایش الکترونی  $16S$  به صورت زیر است:

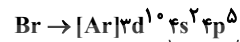


$$(1+0) + (2+0) + (2+1) + (3+0) + (3+1) = 13$$

عبارت چهارم: در لایه سوم زیر لایه‌های  $3s, 3p, 3d$  جای دارند که در آرایش الکترونی عناصر ابتدا  $3s$  سپس  $3p$  و در آخر  $3d$  الکترون می‌گیرند و اگر قرار باشد



دو زیرلایه



دو زیرلایه

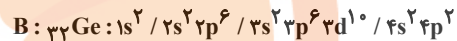
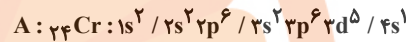


یک زیرلایه

(کیوان زارگه الفبای هستی) (شیمی، ۱، صفحه‌های ۳۲ تا ۳۸)

### ۱۳۴- گزینه «۳»

(عرفان علیزاده)



۱) عنصر  $Cr$  با  $Cu$  (دومین عنصری که از قاعده آفتاب پیروی نمی‌کند) در

یک دوره قرار دارد. اما آرایش الکترونی کاتیون  $A^{2+}$  به صورت زیر است:



۲)  $Ge$  با کربن (گرافیت دگر شکلی از کربن است که به سرب مداد معروف است.) در

یک گروه قرار دارد. توجه داشته باشید که  $He$  متعلق به دسته  $s$  می‌باشد.

۳) مجموع  $n+1$  در زیر لایه‌های  $4p, 3d$  برابر ۵ می‌باشد.



$$\frac{12}{32} \times 100 = 37.5$$

۴) کروم ۶ الکترون در لایه ظرفیت خود دارد. گروه ۱۶ جدول تناوبی نیز  $6e$  در لایه ظرفیت خود دارند. (کیوان زارگه الفبای هستی) (شیمی، ۱، صفحه‌های ۳۰ تا ۳۴ و ۳۶)

### ۱۳۵- گزینه «۱»

(سید مهدی غفوری)

عبارت اول: درست. آرایش الکترونی کروم به صورت زیر است:



زیر لایه‌های  $3d$ ،  $4p$  و  $4s$  دارای  $n+1 \geq 4$  هستند بنابراین ۱۲ الکترون با

$$n+1 \geq 4 \text{ در اتم کروم وجود دارد و } 5 \text{ الکترون با } 1=2 \text{ دارد. } \frac{12}{5} = 2.4$$

عبارت دوم: درست. چهار عنصر از هشت عنصر دوره دوم یعنی  $Be$ ،  $B$ ،  $C$  و  $Ne$  در طبیعت یون پایدار ندارند.

عبارت سوم: درست. آرایش الکترون - نقطه‌های عناصر گروه ۱۷ به صورت  $\cdot \ddot{X}$  می‌باشد و عناصر فلزور، کلر، برم و ید در طبیعت به صورت مولکول‌های دو اتمی یافت می‌شوند. (تمرینات دورمای سوال ۸)

عبارت چهارم: نادرست. فلزات با تبدیل شدن به کاتیون، شعاع و حجمشان کاهش می‌یابد. (کیوان زارگه الفبای هستی) (شیمی، ۱، صفحه‌های ۳۴ تا ۳۸ و ۴۳)

### ۱۳۶- گزینه «۴»

(آرمین عظیمی)

فقط عبارت (ت) درست است.

$$\Delta X^{3+} : \begin{cases} n = 52 - p \\ e = p - 3 \Rightarrow n - p = 4 = 2p = 48 \rightarrow p = 24 \\ n - p = 4 \end{cases}$$

بنابراین  $X$ ، معادل عنصر  $24Cr$  می‌باشد.





یعنی در اطراف  $x=1$  نمودار  $f'$  به شکل  $\frac{1}{x^2}$  است.

(مشتق) (ریاضی ۳، صفحه‌های ۷۷ تا ۹۲)

(پیمان طیار)

۱۴۲- گزینه «۲»

راه حل اول: ابتدا با استفاده از فرمول‌های مشتق، مشتق عبارت را بدست آورده و سپس  $x=1$  را در آن قرار می‌دهیم:

$$u = x^2 - x \rightarrow u' = 2x - 1$$

$$v = \sqrt[3]{9x+7} \rightarrow v' = \frac{9}{3\sqrt[3]{(9x+7)^2}} \rightarrow u'v + v'u$$

$$\rightarrow (2x-1)\sqrt[3]{9x+7} + \left(\frac{9}{3\sqrt[3]{(9x+7)^2}}\right)(x^2-x)$$

$$\xrightarrow{x=1} \sqrt[3]{9(1)+7} = \sqrt[3]{16}$$

$$= \sqrt[3]{8 \times 2} = 2\sqrt[3]{2}$$

راه حل دوم: با استفاده از مشتق عامل صفرشونده، داریم:

$$f'(x) = \lim_{x \rightarrow 1} (2x-1)\sqrt[3]{9x+7} \xrightarrow{x=1} (1)\sqrt[3]{16} = 2\sqrt[3]{2}$$

(مشتق) (ریاضی ۳، صفحه‌های ۸۵ و ۸۸)

(علی غریبی)

۱۴۳- گزینه «۲»

باید ریشه‌های داخل قدر مطلق و نقاط مرزی را چک کنیم. تابع در نقاط مرزی ناپیوسته است.

$$\text{ریشه‌های مرزی} \begin{cases} x=2 \\ x=-2 \end{cases}$$

$$\text{ریشه‌های داخل} \begin{cases} x=1 \\ x=-1 \end{cases}$$

$$\text{قدر مطلق} \begin{cases} x=1 \\ x=-1 \end{cases}$$

در نتیجه در چهار نقطه مشتق پذیر نیست.

(مشتق) (ریاضی ۳، صفحه‌های ۷۷ تا ۹۲)

(رضا علی نواز)

۱۴۴- گزینه «۴»

تابع فقط در یک نقطه مشتق ناپذیر است از طرفی  $x=4$  و  $x=-1$  ریشه‌های عبارت داخل قدر مطلق هستند پس یکی از این ریشه‌ها باید ریشه  $x-a$  هم باشد تا کل تابع صفر شده و مشتق پذیر باشد. پس  $a=-1$  یا  $a=4$  می‌باشد با توجه به اینکه  $\sqrt{af'(b)}$  تعریف شده است  $a=4$  مورد قبول است پس تابع در  $x=4$  مشتق پذیر است و در  $x=b=-1$  مشتق ناپذیر است.

$$\Rightarrow f(x) = (x-4)|(x-4)(x+1)| \xrightarrow{x < -1}$$

$$f(x) = (x-4)^2(x+1)$$

$$\sqrt{af'(b)} = \sqrt{4f'(-1)} = 2f'(-1) = 2(25) = 50$$

(مشتق) (ریاضی ۳، صفحه‌های ۷۷ تا ۹۲)

در لایه سوم ۱۲ الکترون جای بگیرد باید زیر لایه  $2d$  در خود ۴ الکترون داشته باشد که طبق داده‌های طیف‌سنجی چنین نیست.

(کیهان زارگه الفبای هستی) (شیمی ۱، صفحه‌های ۳۰ تا ۳۴)

۱۳۹- گزینه «۳»

(عبدالرضا رادقوای)

در آرایش الکترون - نقطه‌ای، پیرامون نماد شیمیایی عنصرها الکترون‌ها به صورت نقطه‌هایی به طور منظم از یک سمت به سمتی دیگر در چهار سمت نماد عنصر قرار داده می‌شود که شامل الکترون‌های تنها و جفت الکترون‌ها خواهد بود. بررسی گزینه‌های نادرست:

گزینه «۱» در دوره سوم، عدد اتمی عناصر گروه‌های اول و دوم تنها هشت واحد کوچک‌تر از عناصر پایین‌تر آنها در دوره چهارم است.

گزینه «۲» اتم‌های برخی از عناصر مانند گازهای نجیب (هلیوم، نئون و آرگون) در پیوندهای شیمیایی شرکت نمی‌کنند.

گزینه «۴» در برخی از عناصر مانند اتم‌های عناصر دسته p، در آرایش الکترونی فشرده آن‌ها پس از نماد شیمیایی گاز نجیب، زیر لایه d نوشته شده و پس از آن الکترون‌های ظرفیت اتم آورده می‌شود.

(کیهان زارگه الفبای هستی) (شیمی ۱، صفحه‌های ۳۰ تا ۳۷)

۱۴۰- گزینه «۳»

(میثم نوری)

مورد اول: نادرست. آرایش الکترون نقطه‌ای Y که همان فسفر است به صورت مقابل است.

مورد دوم: درست. A (عنصر B) به همراه D (عنصر کربن) و X (عنصر سیلیسیم) یون تک‌اتمی پایدار تشکیل نمی‌دهند.

$$\frac{3}{6} = 50\%$$

مورد سوم: درست. عنصر E (عنصر نیتروژن) به زیر لایه  $2p^3$  ختم می‌شود.

$$n = 2 \quad \text{تعداد الکترون: } 3 \rightarrow 2(n+1) \Rightarrow 2(2+1) = 6$$

$$l = 1$$

مورد چهارم: نادرست. عنصر بور دارای یون تک اتمی پایدار در طبیعت نیست و کاتیون  $B^{3+}$  تشکیل نمی‌دهد.

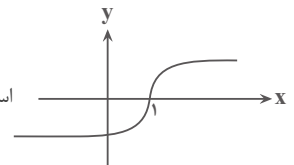
(کیهان زارگه الفبای هستی) (شیمی ۱، صفحه‌های ۲۴ تا ۲۶)

ریاضی ۳ + پایه مرتبط

۱۴۱- گزینه «۲»

(پرشنگ امانی)

می‌دانیم نمودار  $f(x) = \sqrt[3]{x-1}$  به صورت



است. در  $x=1$  نمودار دارای مماس قائم

است، پس  $f'(1)$  قابل تعریف نمی‌باشد و داریم:

$$f'(x) = \frac{1}{3\sqrt[3]{(x-1)^2}} \rightarrow \begin{cases} \lim_{x \rightarrow 1^+} f'(x) = \frac{1}{3\sqrt[3]{(0^+)^2}} = \frac{1}{0^+} = +\infty \\ \lim_{x \rightarrow 1^-} f'(x) = \frac{1}{3\sqrt[3]{(0^-)^2}} = \frac{1}{0^+} = +\infty \end{cases}$$



۱۴۵- گزینه «۱»

(رضا علی نواز)

با محاسبه مشتق  $g(x)$  داریم:

$$g'(x) = \frac{f'(x) \cdot x^2 - 2xf(x)}{x^4} \cdot f'\left(\frac{f(x)}{x^2}\right)$$

از طرفی  $f'(x) = \frac{-1}{2\sqrt{x+3}}$  است و با جایگذاری  $x=1$  داریم:

$$g'(1) = \frac{f'(1) \cdot (1) - 2f(1)}{1} \cdot f'\left(\frac{f(1)}{1}\right) = \frac{-\frac{1}{2} - 2(0)}{1} \cdot f'(0)$$

$$= -\frac{1}{2} \times -\frac{1}{2\sqrt{3}} = \frac{1}{4\sqrt{3}} = \frac{\sqrt{3}}{12}$$

(مشتق) (ریاضی ۳، صفحه‌های ۸۵ تا ۸۸)

۱۴۶- گزینه «۲»

(سویل حسن قان پور)

ابتدا باید ببینیم در چه طولی شیب خط مماس بر منحنی با شیب خط  $y = -4x - 3$  برابر می‌شود.

مشتق تابع  $= 2x - 2$

$$2x - 2 = -4 \rightarrow 2x = -2 \rightarrow x = -1 \rightarrow y = -4 \times (-1) - 3 = 1$$

پس نقطه با مختصات  $(-1, 1)$  باید روی سهمی جدید با معادله

$$y = x^2 - 2x + 2 + k$$

$$1 = (-1)^2 - 2(-1) + 2 + k \rightarrow 1 = 1 + 2 + 2 + k \rightarrow k = -4$$

(مشتق) (ریاضی ۳، صفحه‌های ۷۷ تا ۸۲ و ۹۱)

۱۴۷- گزینه «۴»

(سروش موئینی)

برای داشتن مماس مشترک در  $x=2$  لازم است که:

$$f(2) = g(2), f'(2) = g'(2)$$

$$\begin{cases} 4 - 2 - 1 = \sqrt{2a+b} \Rightarrow \sqrt{2a+b} = 1 \\ 2(2) - 1 = \frac{a}{2\sqrt{2a+b}} \rightarrow 3 = \frac{a}{2(1)} \Rightarrow a = 6 \Rightarrow b = -11 \end{cases}$$

پس  $g(x) = \sqrt{6x-11}$  و بنابراین  $g^{-1}(2) = \frac{5}{2}$  داریم:

$$f'\left(\frac{5}{2}\right) = 2\left(\frac{5}{2}\right) - 1 = 4$$

(مشتق) (ریاضی ۳، صفحه‌های ۸۵ تا ۸۸)

۱۴۸- گزینه «۱»

(سروش موئینی)

با توجه به آنکه  $f(-2) = f(2)$  و  $g(-2) = g(2)$  پس خواسته مسئله را می‌توانیم به صورت  $f'(2)g(2) + g'(2)f(2) = f'(g)'$  بنویسیم که همان  $(f \cdot g)'$  در نقطه  $x_0 = 2$  است.

حالا در ابتدا  $f \cdot g$  را تشکیل می‌دهیم:

$$f \cdot g = (x^2 + 1)^2 - (\sqrt{x^2 + 2x^2})^2 = x^4 + 2x^2 + 1 - x^4 - 2x^2 = 1$$

پس  $f \cdot g$  تابعی ثابت است و در نقاط مشتق پذیر دامنه آن، مشتق برابر صفر است.

(مشتق) (ریاضی ۳، صفحه‌های ۸۵ تا ۸۷)

۱۴۹- گزینه «۲»

(مفهم حسن سلامی حسینی)

نقاط گوشه‌های تابع عبارتند از:  $x=0$  و  $x=2$  که در  $x=0$  معادله نیم‌مماس چپ و در  $x=2$  معادله نیم‌مماس راست را می‌یابیم.

A | مشتق چپ  $y = |x^2 - 2x| = x^2 - 2x \rightarrow y' = 2x - 2$

$$\frac{x=0}{\rightarrow} m = -2$$

معادله نیم‌مماس چپ در  $x=0$ :  $y = -2x$

B | مشتق راست  $y = |x(x-2)| = x^2 - 2x \rightarrow y' = 2x - 2$

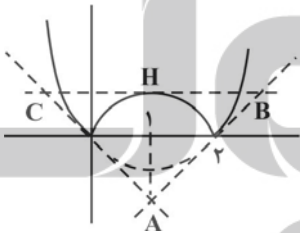
$$\frac{x=2}{\rightarrow} m = 2$$

معادله نیم‌مماس راست در  $x=2$ :  $y - 0 = 2(x-2) \rightarrow y = 2x - 4$

حال با هم قطع می‌دهیم تا مختصات نقطه A بدست آید:

$$\begin{cases} y = -2x \\ y = 2x - 4 \end{cases} \Rightarrow \begin{cases} x = 1 \\ y = -2 \end{cases} \Rightarrow A$$

چون نقطه  $x=1$  رأس این سهمی است لذا مماس در  $x=1$  خط افقی است. که معادله آن است حال باید با نیم‌مماس‌ها قطع دهیم تا نقاط B و C تولید شود.



$$\begin{cases} y = -2x \\ y = 1 \end{cases} \Rightarrow C \begin{cases} 1 \\ 2 \end{cases}$$

$$\begin{cases} y = 2x - 4 \\ y = 1 \end{cases} \Rightarrow B \begin{cases} 2.5 \\ 1 \end{cases}$$

$$\Rightarrow \begin{cases} \text{قاعده مثلث} = BC = 3 \\ \text{ارتفاع مثلث} = AH = 3 \end{cases}$$

$$\Rightarrow S = \frac{3 \times 3}{2} = 4.5$$

(مشتق) (ریاضی ۳، صفحه‌های ۷۷ تا ۹۲)

۱۵۰- گزینه «۳»

(عباس اشرفی)

تابع  $y = [x]$  در  $x=1$  از چپ ناپیوسته است. از آنجایی که تابع در  $x=1$  مشتق چپ دارد پس مقدار  $ax+2$  در  $x=1$  برابر صفر است.

$$a(1) + 2 = 0 \rightarrow a = -2$$

اکنون مقدار مشتق چپ در  $x=1$  را برابر  $-\frac{1}{2}$  قرار می‌دهیم.

$$f'(1) = \left(\frac{-2x+2}{bx+0}\right)' = \frac{-2b}{b^2x^2} \Big|_{x=1} = \frac{-2b}{b^2} = \frac{-2}{b} = -\frac{1}{2}$$

$$]۲,۵[ \Rightarrow \text{شیب پاره خط } OM = \frac{MH}{OH} = \frac{OH=۳}{OH} = ۳$$

$$\frac{MH}{۳} = ۳ \rightarrow MH = ۹$$

$$\text{شیب پاره خط } ON = \frac{NH}{OH} = \frac{NH}{OH=۳} \text{ در } x=۲$$

$$\frac{OH=۳}{۳} = ۲ \rightarrow NH = ۶$$

$$MN = MH - NH = ۹ - ۶ = ۳$$

(مشتق) (ریاضی ۳، صفحه‌های ۹۳ تا ۱۰۰)

(سروش موثینی)

۱۵۴- گزینه «۲»

$$\frac{f(۶) - f(۲)}{۶ - ۲} = \frac{\frac{a}{۴} - \frac{a}{۱}}{۱ - ۱} = \frac{-1}{۱} \Rightarrow \frac{-1}{۱} = \frac{-1}{۱} \Rightarrow a = \frac{1}{۲}$$

$$f(x) = \frac{1}{x-1} \Rightarrow f'\left(\frac{1}{۲}\right) = \frac{-1}{\left(\frac{1}{۲}-1\right)^2} = \frac{-1}{\frac{1}{۴}} = -۴$$

(مشتق) (ریاضی ۳، صفحه‌های ۹۳ تا ۱۰۰)

(داوود بوالسنی)

۱۵۵- گزینه «۱»

نقطه M روی منحنی  $y = \sqrt[3]{x^2}$  را به صورت  $M(x, \sqrt[3]{x^2})$  در نظر می‌گیریم  
فاصله نقطه M از خط  $y = x + 1$  برابر است با:

$$g = \frac{|\sqrt[3]{x^2} - x - 1|}{\sqrt{1^2 + (-1)^2}} = \frac{|\sqrt[3]{x^2} - x - 1|}{\sqrt{2}}$$

عبارت  $\sqrt[3]{x^2} - x - 1$  حوالی  $x = ۸$  منفی است.

$$\text{پس تابع } g \text{ را به صورت } g = \frac{1 + x - \sqrt[3]{x^2}}{\sqrt{2}} \text{ می‌نویسیم:}$$

$$g' = \frac{1}{\sqrt{2}} \left(1 - \frac{2}{3} x^{-\frac{1}{3}}\right)$$

$$g' = \frac{1}{\sqrt{2}} \left(1 - \frac{2}{3\sqrt[3]{x}}\right) \rightarrow g'(۸) = \frac{1}{\sqrt{2}} \left(1 - \frac{2}{3\sqrt[3]{۸}}\right) =$$

$$\left(\frac{1}{\sqrt{2}}\right) \left(1 - \frac{1}{۳}\right) = \frac{1}{\sqrt{2}} \times \frac{۲}{۳} = \frac{۲}{۳\sqrt{2}} = \frac{\sqrt{۲}}{۳}$$

(مشتق) (ریاضی ۳، صفحه‌های ۹۳ تا ۱۰۰)

$$\Rightarrow b = ۴$$

با مشخص شدن ضابطه تابع  $f(x)$ ، برای  $f'_+(1)$  خواهیم داشت:

$$f'_+(1) = \left(\frac{-2x+2}{4x+1}\right)' = \frac{-2 \times 5}{(4 \times 1 + 1)^2} = \frac{-10}{(4 \times 1 + 1)^2}$$

$$\frac{x=1}{25} = \frac{-10}{5} = \frac{-2}{5}$$

(مشتق) (ریاضی ۳، صفحه‌های ۷۷ تا ۹۲)

ریاضی ۲ - پیشروی سریع

(فهیمة ولی زاده)

۱۵۱- گزینه «۱»

$$f(x) = \frac{3x^2 + 5x}{x+1}$$

$$f(0) = \frac{3(0)^2 + 5(0)}{0+1} = \frac{0}{1} = 0$$

$$f(3) = \frac{3(3)^2 + 5(3)}{3+1} = \frac{27+15}{4} = \frac{42}{4}$$

$$\text{آهنگ تغییر متوسط} = \frac{f(3) - f(0)}{3 - 0} = \frac{\frac{42}{4} - 0}{3} = \left(\frac{42}{12}\right) = \frac{42}{3 \times 4}$$

$$= \frac{14}{4} = \frac{7}{2} = 3.5$$

(مشتق) (ریاضی ۳، صفحه‌های ۹۳ تا ۱۰۰)

(سهیل ساسانی)

۱۵۲- گزینه «۲»

$$\frac{f(b) - f(a)}{b - a}$$

آهنگ متوسط حرکت در بازه a تا b مساوی است با

پس:

$$\frac{x(4) - x(2)}{4 - 2} = \frac{(16 + 12 + 1) - (4 + 6 + 1)}{2} = \frac{29 - 11}{2} = \frac{18}{2} = 9$$

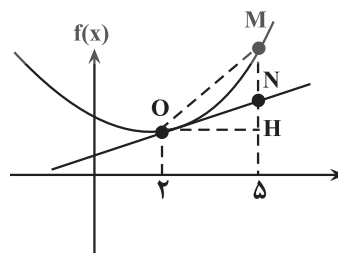
$$x'(t) = 2t + 3 \xrightarrow{t=۲} 7$$

$$\text{اختلاف} \Rightarrow 9 - 7 = 2$$

(مشتق) (ریاضی ۳، صفحه‌های ۹۳ تا ۱۰۰)

(سهیل ساسانی)

۱۵۳- گزینه «۲»





۱۵۶- گزینه ۴»

(مفید عزیزاره)

$$\frac{\Delta(\text{مساحت})}{\Delta(\text{محیط})} = \Delta \rightarrow \frac{\pi r^2 - \pi r_0^2}{2\pi r - 2\pi r_0} = \Delta \rightarrow \frac{\pi(r-r_0)(r+r_0)}{2\pi(r-r_0)} = \Delta$$

$$\frac{r+r_0}{2} = \Delta \rightarrow \frac{6+r_0}{2} = \Delta \rightarrow r_0 = 4$$

$$S = \pi r^2 \rightarrow S' = 2\pi r \cdot r' = 4\pi \rightarrow S'(\notin) \pi 8$$

(مشتق) (ریاضی ۳، صفحه‌های ۹۳ تا ۱۰۰)

۱۵۷- گزینه ۲»

(سویل حسن قانچور)

$$f'(x) = \frac{1}{(1-x)^2} \rightarrow a: \text{آهنگ لحظه‌ای تغییر در } f'(a) = \frac{1}{(1-a)^2}$$

$$[a, b]: \text{آهنگ متوسط تغییر در بازه } \frac{\Delta f}{\Delta x} = \frac{f(b) - f(a)}{b - a}$$

$$= \frac{\frac{1}{1-b} - \frac{1}{1-a}}{b-a} = \frac{1-a-(1-b)}{(1-b)(1-a)(b-a)} = \frac{b-a}{(b-a)(1-b)(1-a)}$$

$$= \frac{1}{(1-b)(1-a)} \Rightarrow \frac{2}{(1-a)^2} = \frac{1}{(1-b)(1-a)} \xrightarrow{a \neq 1} \frac{2}{1-a} = \frac{1}{1-b}$$

$$\rightarrow 2-2b=1-a \rightarrow 1+a=2b \rightarrow b = \frac{1+a}{2}$$

(مشتق) (ریاضی ۳، صفحه‌های ۹۳ تا ۱۰۰)

۱۵۸- گزینه ۴»

(عباس اشرفی)

ضابطه تابع f را محاسبه می‌کنیم:

$$f^{-1}(\sqrt[3]{x+1}) = x^3 + x \rightarrow \sqrt[3]{x+1} = f(x^3 + x)$$

از تابع بالا مشتق می‌گیریم:

$$(3x^2 + 1)f'(x^3 + x) = \frac{1}{3\sqrt[3]{x^2}}$$

حال  $x=1$  را جای گذاری می‌کنیم.

$$(3+1)f'(2) = \frac{1}{3} \rightarrow f'(2) = \frac{1}{12}$$

آهنگ لحظه‌ای تغییر تابع f(x) در  $x=2$  برابر  $\frac{1}{12}$  است.

(مشتق) (ریاضی ۳، صفحه‌های ۹۳ تا ۱۰۰)

۱۵۹- گزینه ۳»

(مهمرسن سلامی صیثی)

چون داریم  $(g^{-1} \circ f^{-1})(x) = (f \circ g)^{-1}(x)$  لذا داریم.

$$(g^{-1} \circ f^{-1})(20) = 11 \Rightarrow (f \circ g)(11) = 20$$

از طرف دیگر با ساده کردن تابع f(x) داریم:

$$f(x) = \frac{(x-2)(x^2+2x-1)}{(x-2)} \rightarrow f(x) = x^2 + 2x - 1, x \neq 2$$

حال تابع g یک تابع خطی دوم غیر ثابت و f(x) یک تابع درجه دوم است لذا

$$f \circ g \text{ نیز از درجه دوم است و چون } \frac{11+5}{2} = 8 \text{ پس } x=8 \text{ نقطه وسط بازه}$$

[5, 11] است و با توجه به اینکه می‌دانیم آهنگ لحظه‌ای تغییر تابع درجه دوم در

وسط یک بازه برابر با آهنگ متوسط تغییر در آن بازه است. لذا:

$$(f \circ g)'(8) = \frac{(f \circ g)(11) - (f \circ g)(5)}{11 - 5} = \frac{20 - 8}{6} = \frac{12}{6} = 2$$

(مشتق) (ریاضی ۳، صفحه‌های ۹۳ تا ۱۰۰)

۱۶۰- گزینه ۴»

(دانیال ابراهیمی)

ناحیه هاشورخورده از دو مثلث با مساحت برابر تشکیل شده است. قاعده این مثلث‌ها

$$\text{برابر } x=a \text{ و ارتفاع آن برابر } y = \frac{2a}{a^2+1} \text{ است، لذا داریم:}$$

$$s(x) = 2 \times \left( \frac{x \times y}{2} \right) = 2 \times \left( \frac{x^2}{2} \times \frac{2}{x^2+1} \right) = \frac{2x^2}{x^2+1} \Rightarrow S(x) = \frac{2x^2}{x^2+1}$$

بنابراین آهنگ لحظه‌ای تغییر مساحت دو مثلث برابر است با:

$$S'(x) = \frac{4x(x^2+1) - 4x^3}{(x^2+1)^2} \Rightarrow S'\left(\frac{1}{2}\right) = \frac{2}{25} = \frac{32}{25}$$

(مشتق) (ریاضی ۳، صفحه‌های ۹۳ تا ۱۰۰)

ریاضی پایه

۱۶۱- گزینه ۲»

(یاسین سپهر)

با توجه به شکل داده شده، ابتدا معادله خط L را می‌نویسیم.

شیب این خط  $\frac{3}{4}$  و عرض از مبدأ آن ۳ است پس معادله خط L عبارت است از:

$$y = mx + h \rightarrow y = \frac{3}{4}x + 3 \rightarrow 4y = 3x + 12$$

$$\rightarrow 3x - 4y + 12 = 0$$

حال فاصله نقطه A(6, -3) را از این خط بدست می‌آوریم:

$$d = \frac{|3 \times 6 - 4(-3) + 12|}{\sqrt{3^2 + (-4)^2}} = \frac{42}{5} = 8.4$$

(هندسه تطبیلی) (ریاضی ۲، صفحه‌های ۲ تا ۱۰)

۱۶۲- گزینه ۴»

(رحمان پور رحیم)

ابتدا  $\alpha$  را پیدا می‌کنیم. فاصله AB برابر با  $\sqrt{89}$  است. بنابراین:

$$AB = \sqrt{(3-\alpha)^2 + (2\alpha-1-2)^2} = \sqrt{89}$$



طرفین را به توان ۲ می‌رسانیم:

$$\rightarrow (3-\alpha)^2 + (2\alpha-4)^2 = 89$$

$$\rightarrow 5\alpha^2 - 22\alpha - 64 = 0 \rightarrow \begin{cases} \alpha = -2 \\ \alpha = 6/4 \end{cases}$$

چون نقطه  $A(\alpha, 3)$  در ناحیه دوم قرار دارد پس  $\alpha = -2$  را در نظر می‌گیریم، داریم:

$$A(-2, 3), B(3, -5)$$

مختصات نقطه وسط پاره‌خط AB برابر است با:

$$M\left(\frac{-2+3}{2}, \frac{3-5}{2}\right) = \left(\frac{1}{2}, -1\right)$$

حال شیب پاره‌خط AB و سپس شیب عمود منصف را پیدا می‌کنیم:

$$m_{AB} = \frac{y_B - y_A}{x_B - x_A} = \frac{-5-3}{3-(-2)} = \frac{-8}{5}$$

$$\text{شیب عمود منصف} = +\frac{5}{8}$$

معادله عمود منصف برابر است با:

$$y - y_M = +\frac{5}{8}(x - x_M)$$

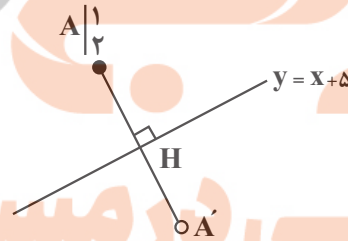
$$\rightarrow y - (-1) = \frac{5}{8}\left(x - \frac{1}{2}\right) \rightarrow 16y = 10x - 21$$

(هندسه تحلیلی) (ریاضی ۲، صفحه‌های ۲ تا ۱۰)

## ۱۶۳- گزینه «۴»

(مصطفی کرمی)

در ابتدا مختصات H (تصویر A روی خط  $y = x + 5$  را بدست می‌آوریم، می‌دانیم AH عمود بر خط  $y = x + 5$  است پس شیب آن -۱ است و داریم:



$$m_{AH} = -1 \xrightarrow{\text{معادله خط AH}} y = -x + 3$$

و با تلاقی دو خط، مختصات H را پیدا می‌کنیم:

$$\begin{cases} y = -x + 3 \\ y = x + 5 \end{cases} \rightarrow x = -1, y = 4 \rightarrow H = (-1, 4)$$

و در نهایت چون H وسط A و A' است داریم:

$$H = \frac{A + A'}{2} \rightarrow A' = 2H - A$$

$$\rightarrow x_{A'} = -3, y_{A'} = 6 \rightarrow A'(-3, 6)$$

$$\rightarrow a = -3, b = 6 \rightarrow 2b - a = 15$$

(هندسه تحلیلی) (ریاضی ۲، صفحه‌های ۲ تا ۱۰)

## ۱۶۴- گزینه «۲»

(دانیال ابراهیمی)

ابتدا شیب دو خط داده شده را بدست می‌آوریم. با توجه به اینکه دو ضلع مجاور مستطیل عمود بر هم هستند، داریم:

$$\begin{cases} ay + 4x = 3 \Rightarrow m_1 = -\frac{4}{a} \\ y = (a+1)x - 3 \Rightarrow m_2 = a+1 \end{cases} \Rightarrow m_1 \cdot m_2 = \frac{-4a-4}{a} = -1$$

$$\Rightarrow -4a - 4 = -a \Rightarrow a = -\frac{4}{3}$$

$$\Rightarrow \begin{cases} -\frac{4}{3}y + 4x - 3 = 0 \\ y + \frac{1}{3}x + 3 = 0 \end{cases}$$

فاصله محل برخورد قطرها از ضلع‌های مجاور مستطیل، یک بار برابر با نصف عرض و یک بار برابر با نصف طول مستطیل است. پس داریم:

$$d_1 = \frac{|\frac{4}{3}(1) + 4(1) - 3|}{\sqrt{\frac{16}{9} + 16}} = \frac{|\frac{1}{3}|}{\sqrt{\frac{10(16)}{9}}} = \frac{\frac{1}{3}}{\frac{4}{3}\sqrt{10}} = \frac{1}{4\sqrt{10}}$$

$$\Rightarrow 2d_1 = \frac{1}{2\sqrt{10}}$$

$$d_2 = \frac{|(1) + \frac{1}{3}(1) + 3|}{\sqrt{1 + \frac{1}{9}}} = \frac{\frac{13}{3}}{\frac{1}{3}\sqrt{10}} = \frac{13}{\sqrt{10}}$$

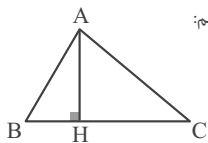
$$\Rightarrow 2d_2 = \frac{26}{\sqrt{10}} \Rightarrow S = \frac{26}{\sqrt{10}} \times \frac{1}{2\sqrt{10}} = \frac{13}{10} = 1\frac{3}{10}$$

(هندسه تحلیلی) (ریاضی ۲، صفحه‌های ۲ تا ۱۰)

## ۱۶۵- گزینه «۲»

(کتاب آبی)

شکل فرضی مقابل را در نظر بگیرید، ارتفاع AH بر ضلع BC عمود است و از نقطه A می‌گذرد. ابتدا شیب BC را بدست می‌آوریم:



$$m_{BC} = \frac{-2-0}{1-3} = 1$$

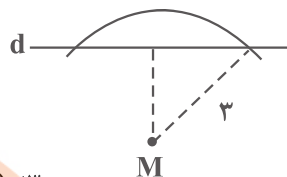
$$m_{AH} \cdot m_{BC} = -1 \Rightarrow m_{AH} = -1 \text{ و } A(-1, 2)$$

$$\Rightarrow AH \text{ معادله } y - 2 = -1(x + 1) \Rightarrow y = -x + 1$$

(هندسه تحلیلی) (ریاضی ۲، صفحه ۴)

۱۶۶- گزینه «۴»

(معمرفسن سلامی سیئی)



$$-x^2 + 4x + (m+1) < 3$$

$$-x^2 + 4x + (m-2) < 0$$

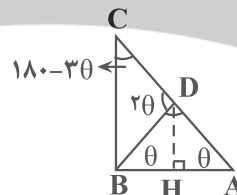
$$\begin{cases} \Delta < 0 \\ \alpha = -1 < 0 \end{cases} \rightarrow 16 + 4(m-2) < 0 \Rightarrow 4m < -8 \rightarrow m < -2$$

(هندسه) (ریاضی ۲، صفحه‌های ۲۵ تا ۳۰)

۱۶۷- گزینه «۴»

(نیما کربوریان)

در صورتی که  $\hat{A} = \theta$  باشد، آنگاه  $\hat{B} = 2\hat{A} = 2\theta$  و محل برخورد نیمساز زاویه B را با AC، نقطه D نامیده‌ایم، مثلث BAD متساوی الساقین است. روی عمود منصف AB است. D می‌تواند در حالتی که  $\hat{A} = 45^\circ$  است، وسط AC باشد اما مثلث BAD هیچ وقت متساوی الاضلاع نخواهد بود.

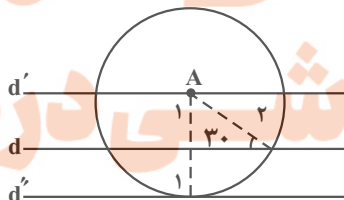


(هندسه) (ریاضی ۲، صفحه‌های ۲۵ تا ۳۰)

۱۶۸- گزینه «۳»

(مهردار استقلالیان)

چون  $\sin 30^\circ = \frac{1}{2}$ ، پس فاصله نقطه A از خط برابر ۱ است. اگر دایره‌ای به مرکز A و شعاع ۲ رسم کنیم، این دایره خطوط  $d'$  و  $d''$  را مجموعاً در ۳ نقطه قطع می‌کند که این نقاط به فاصله ۲ از نقطه A و به فاصله ۱ از خط d می‌باشند.

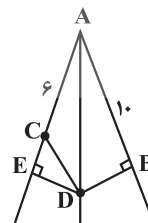


(هندسه) (ریاضی ۲، صفحه‌های ۲۵ تا ۳۰)

۱۶۹- گزینه «۳»

(مهردی براتی)

در مثلث قائم‌الزاویه ADB با رابطه فیثاغورس اندازه BD را به دست می‌آوریم:



$$BD^2 + 10^2 = 12^2 \rightarrow BD = \sqrt{44}$$

از طرف دیگر چون نقطه D روی نیمساز زاویه A قرار دارد،

همچنین می‌دانیم دو مثلث ABD و AED هم‌نهشت‌اند.

پس  $AE = AB = 10$  می‌باشد.  $EC = 10 - 6 = 4$

در آخر با استفاده از رابطه فیثاغورس در مثلث ECD، اندازه CD را می‌یابیم:

$$CD^2 = 4^2 + \sqrt{44}^2 = 60 \rightarrow CD = \sqrt{60} = 2\sqrt{15}$$

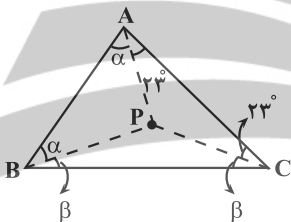
(هندسه) (ریاضی ۲، صفحه‌های ۲۵ تا ۳۰)

۱۷۰- گزینه «۴»

(مهردی براتی)

در مثلث ABC، از نقطه P به رأس‌های مثلث وصل می‌کنیم. با توجه به اینکه این نقطه محل برخورد عمود منصف‌های اضلاع مثلث است، فاصله P از رأس‌های مثلث با هم برابرند:

$$PA = PB = PC$$



چون مثلث‌های APC، APB، و BPC متساوی الساقین هستند، زاویه‌های پای ساق آن‌ها برابرند. بنابراین خواهیم داشت:

$$\hat{PAC} = \hat{PCA} = 2\alpha, \hat{PAB} = \hat{PBA} = \alpha, \hat{PBC} = \hat{PCB} = \beta$$

با توجه به شکل، جمع زوایای داخلی مثلث را در نظر می‌گیریم:

$$2\alpha + 2\beta + 2 \times 2\alpha = 180 \rightarrow 2(\alpha + \beta) = 134$$

$$\rightarrow \alpha + \beta = 67 \rightarrow \hat{ABC} = 67^\circ$$

(هندسه) (ریاضی ۲، صفحه‌های ۲۵ تا ۳۰)

تلاش‌های در مسیر موفقیت